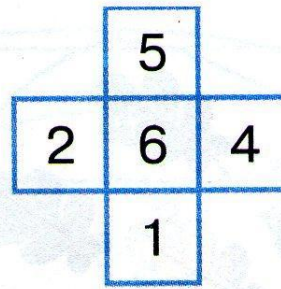
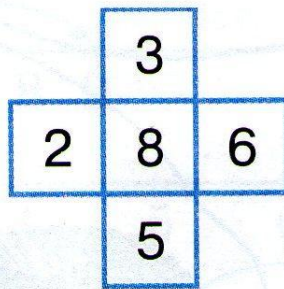
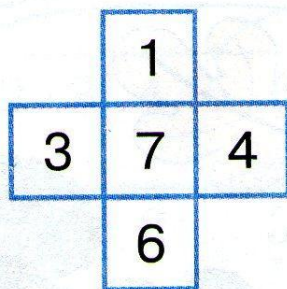





**243.** Найди правило, по которому записаны числа.



**244.** Выбери количество конфет, которое Миша и Маша могут разделить между собой поровну.



**246.** Пользуясь таблицей, запиши верные равенства.



Первое слагаемое	2		4	6		1	
Второе слагаемое		3			4		5
Значение суммы	5	8	7	8	5	4	7