


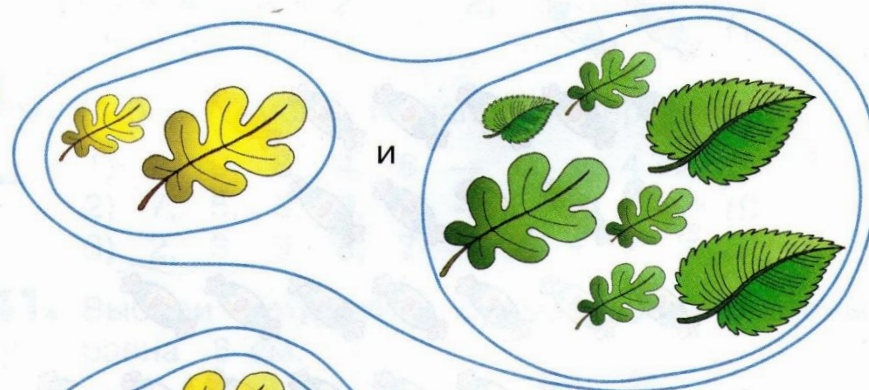
247. По какому признаку разложили листочки на две группы?




1




2

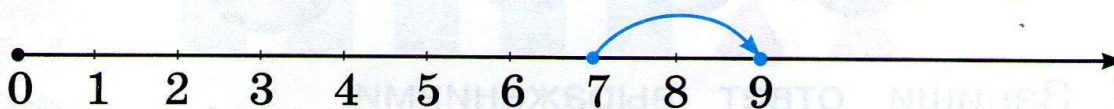
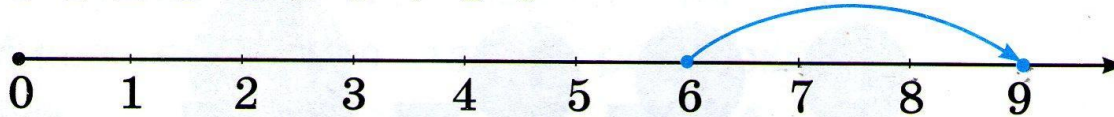
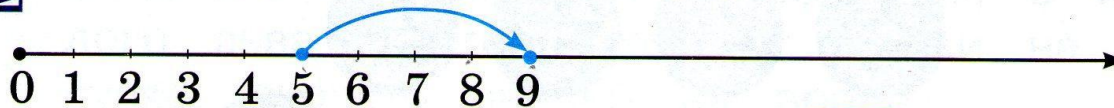


3

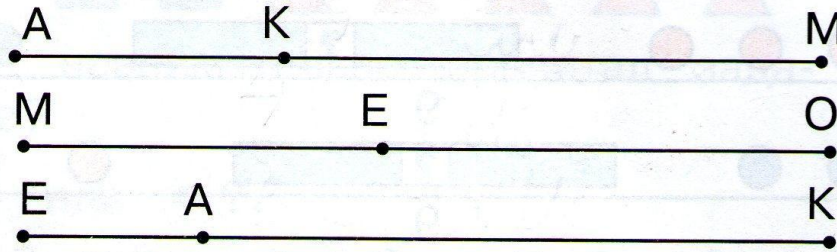


Запиши равенства к каждой картинке.

248. Запиши равенство, которое изображали  на каждом числовом луче.



249. Чем похожи все отрезки? Чем отличаются?



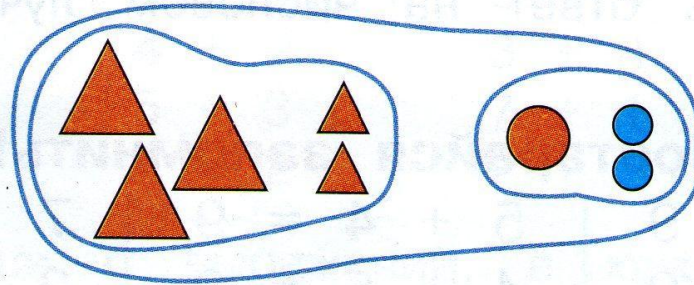
- Выбери запись, которая соответствует отрезку: AM, MO, EK.

1) $4 \text{ см} + 5 \text{ см} = 9 \text{ см}$

2) $3 \text{ см} + 6 \text{ см} = 9 \text{ см}$

3) $2 \text{ см} + 7 \text{ см} = 9 \text{ см}$

250. По какому признаку разложили фигуры на две группы?




- Верно ли утверждение, что равенство $4 + 5 = 9$ соответствует рисунку?

251. Набери 9 рублей разными способами.



Запиши ответ выражениями.

252. Сколько кругов закрыто?



9



9



9

253. Верно ли утверждение, что значения сумм в каждой паре одинаковы?

$$\begin{array}{l} 1) \ 5 + 2 + 2 \\ \quad 5 + 4 \end{array}$$

$$\begin{array}{l} 2) \ 2 + 5 + 1 + 1 \\ \quad 7 + 2 \end{array}$$

- Проверь ответ на числовом луче.

Постарайся запомнить!

$6 + 3 = 9 \quad | \quad 5 + 4 = 9 \quad | \quad 7 + 2 = 9$

$3 + 6 = 9 \quad | \quad 4 + 5 = 9 \quad | \quad 2 + 7 = 9$

$8 + 1 = 9 \quad 1 + 8 = 9$