



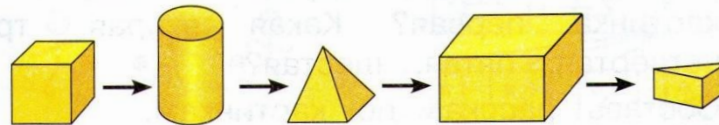
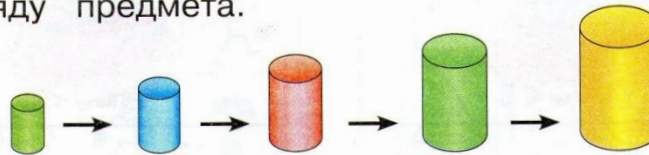


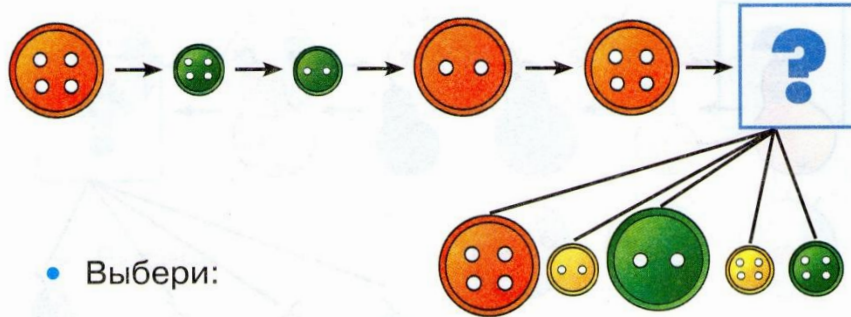
36. Выбери картинку, на которой увеличивается размер каждого следующего в ряду предмета.




37. Выбери картинку, на которой изменяются форма и размер каждого следующего в ряду предмета.



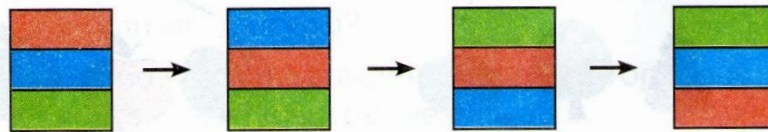
38. Какие признаки предметов изменяются? Какие не изменяются?




39. Выбери картинку.



40. Что изменяется? Что не изменяется?



41. Какие признаки предметов изменяются?
Какие не изменяются?




• Выбери:

9

Рассмотри рисунок.

- ✓ **12.** Раскрась ягодки, которые растут на веточке слева.



- ✓ **13.** Раскрась гриб:

1) слева от пенька;

2) справа от пенька.





14. Раскрась яблоки, которые расположены между грушами.

