

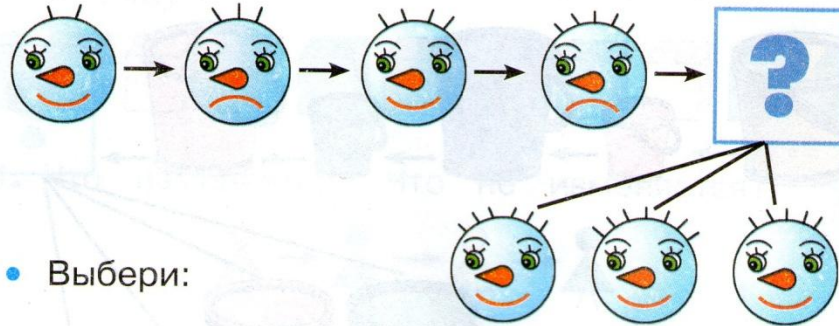


42. Выбери картинку.

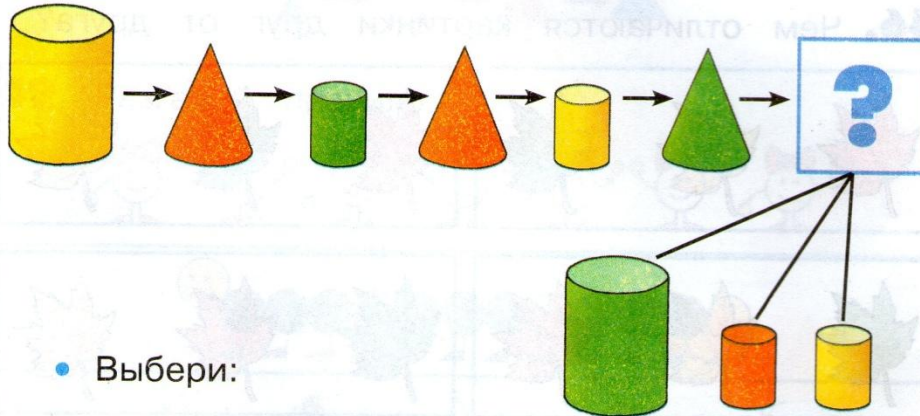


43. Что изменяется?



• Выбери:

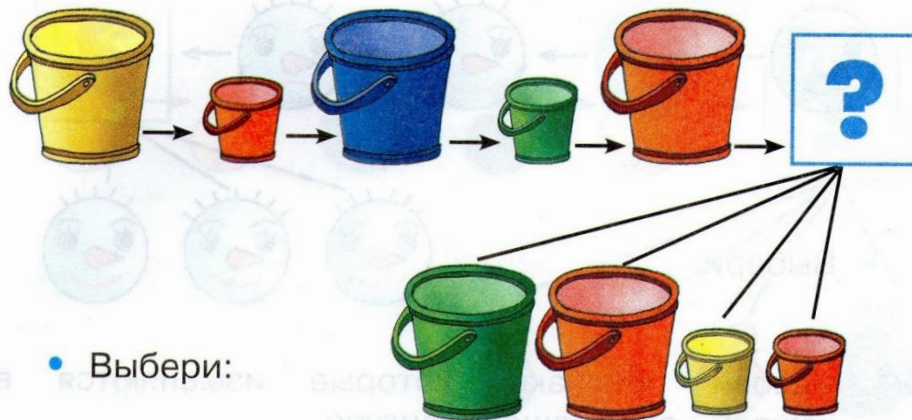
44. Назови признаки, которые изменяются в каждой следующей фигуре.




• Выбери:

- Чем отличаются друг от друга третья и пятая фигуры?
- Верно ли утверждение, что вторая и четвертая фигуры одинаковые?

45. Какие признаки предметов изменяются?
Какие не изменяются?



46. Чем отличаются картинки друг от друга?




• Чем похожи все картинки?

47. По какому правилу расположены кубики в ряду?



48. Что изменяется? Что не изменяется?




упр 10

✓ **15.** Раскрась рисунок, если:

1) справа красный квадрат, а слева – зелёный;



2) слева синий треугольник, а справа – зелёный.



✓ **16.** Обведи красным цветом стрелочки, которые направлены:


1) вправо;



2) вверх;



3) вниз;



4) влево.

