

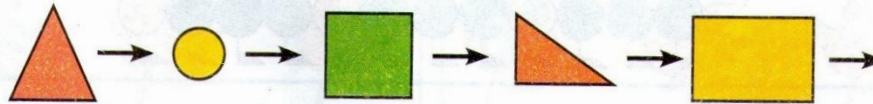
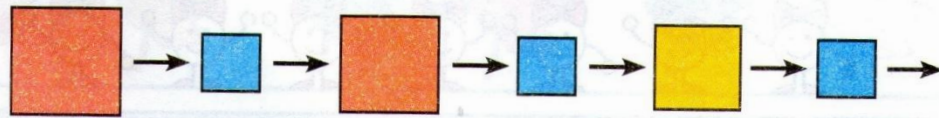
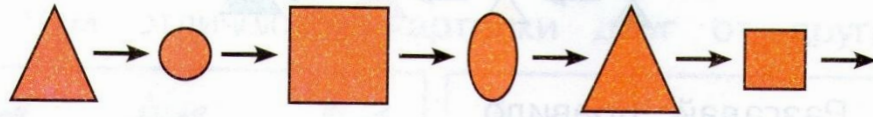


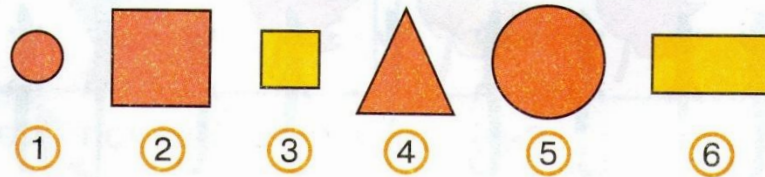
49. Разгадай правило.




51. Назови признаки, по которым изменяется в ряду следующая фигура.



• Выбери фигуру, которой можно продолжить каждый ряд.




52. Разгадай правило.



• Выбери:

53. Что изменяется?



Квар Крестина

49. _____

51. _____

52. _____

53. _____

17. Раскрась предметы, если:

1) красный карандаш длиннее, чем синий;



2) синяя лента уже, чем зелёная;



3) жёлтая кружка ниже, чем синяя.



18. Закрась зелёную ленту, если она короче красной и короче синей.



19. Закрась красную ленту, если она длиннее синей и длиннее жёлтой.

