




ОТНОШЕНИЯ

больше


меньше

столько же

54. Чем похожи и чем отличаются картинки слева и справа?



55. Чего больше? Чего меньше?



56. Хватит ли ёжикам грибов, если:

- 1) каждому ёжику дать по одному грибу;
- 2) каждому ёжику дать по два гриба;
- 3) каждому ёжику дать по три гриба?



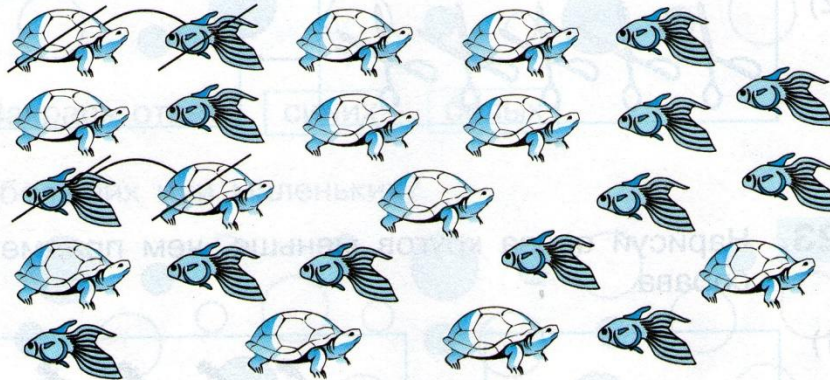
Отношения

больше

меньше

столько же

✓ **20.** Кого больше: черепах или рыб?



✓ **21.** Нарисуй справа столько же кругов, сколько предметов слева.

