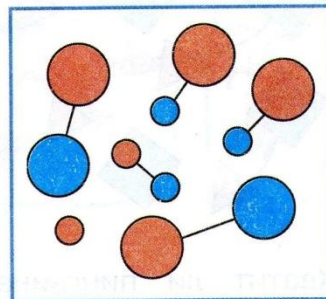
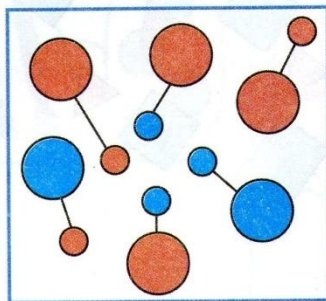


60. Расскажи, что нарисовано на картинках, используя слова:

столько же

больше


меньше



61. Хватит ли белочкам орехов, если:

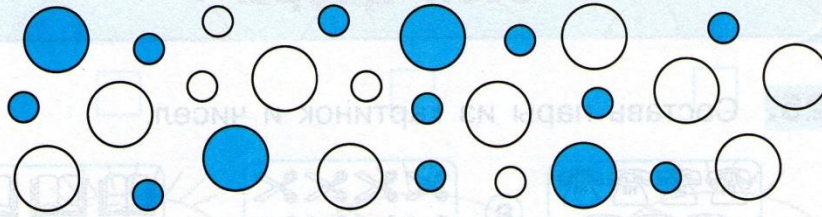


- 1) каждой белочке дать по одному ореху;
- 2) каждой белочке дать по два ореха;
- 3) каждой белочке дать по три ореха?



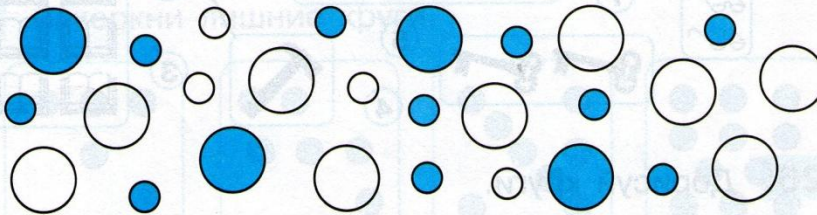
24. Каких кругов больше:

1) синих или белых?



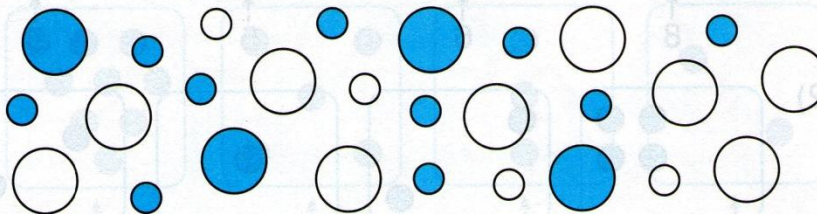
• Закрась ответ: синих белых

2) больших или маленьких?



• Закрась ответ: больших маленьких

3) больших синих или маленьких синих?



• Закрась ответ: больших синих маленьких синих

62. Закрой «лишнюю» картинку.

