






**69.** Сколько в ряду картинок?



- Верно ли утверждение, что первая и седьмая картинки одинаковые?
- Назови другие пары одинаковых картинок.

68. Закрой «лишнюю» картинку.



**71.** Какой предмет «лишний»?





Запиши цифрой, сколько всего предметов на рисунке.






**72.** Что изменилось? Что не изменилось?



**73.** По какому признаку нужно разложить фигуры на две группы, чтобы в одной из них стало 7 фигур?



**74.** Винни-Пух решил подарить Пятачку 1 горшочек с мёдом. Сколько вариантов выбора одного горшка у Винни-Пуха?

