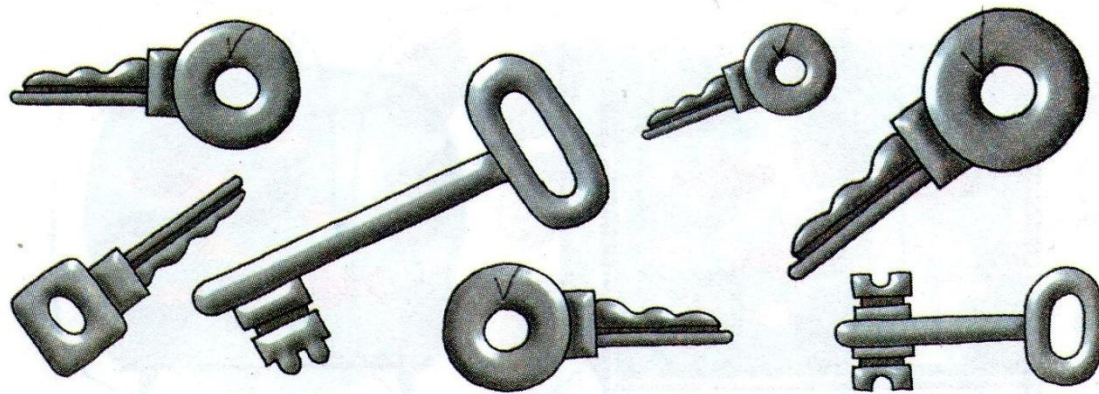


**75.** Сколько одинаковых по форме ключей?





26c.

4 4

.

.


.

4 4

14

47


**77.** По каким признакам можно разложить головные уборы на две группы?



Выбери цифру, которой ты запишешь:  
1) число кепок; 2) число синих головных уборов; 3) число больших шляп.

	1	7	5	6	4				

**78.** На тарелке груши. Вова съел 4 груши.



- Рассмотрй рисунок и ответь на вопросы.
  - 1) Мог ли Вова съесть 4 зелёные груши?
  - 2) Мог ли Вова съесть 2 зелёные груши и 2 жёлтые?



Обозначь каждую грушу клеткой такого же цвета и покажи на рисунке, какого цвета могут быть груши, которые съел Вова.



Все ли варианты нарисовал Миша, если у него в тетради такой рисунок:



Все ли варианты нарисовала Маша, если у неё в тетради такой рисунок:



- Какой рисунок у тебя?