


МОУ «Средняя общеобразовательная школа № 25»

Темс

ия



Бийск  
2011



**Погода для прогулки: Раз  
дождинка...**

**Ежик, прежде всего, следит  
за грибными дождями.**

**Иногда считает капли, ведь  
от количества влаги  
пролитой дождём зависит  
урожай лесных даров.**

**Иногда капли путаются в  
его памяти. А поскольку вы  
хорошие партнёры,  
помогите Пыхте.**

**- Сколько капель выронила  
тучка?**

**- Расчитайте их по порядку.**


**- Между какими каплями  
находится самая крупная из  
капель?**



Погода для прогулки: Раз дождинка...



# Опушка численности грибов



Ёжик вышел на поляну. И о! Грибов много! Под ёлками, соснами и берёзками. Полны корзины. Сколько грибов нашёл ёж под каждым деревом, если в каждой корзинке было по 15 грибов?




12

13

14

15



# Контора Водяной Крысы

18



17



16



1 лес



+



1 лес



-



6



Инструкцию перед  
доль озерка.  
находится контора и  
торговая лавка  
Крысы. Она приняла  
товар. Помоги ей  
в его сортировке.  
- В каком порядке  
находятся числа?  
Определи  
разрядный состав  
чисел.



# Задача ягодной поляны

7 ЯГОД

10  
ЯГОД

3  
ЯГОДЫ

Сколько ягод  
принесёт ёжик  
королеве,  
если он  
сорвал у  
пенька 3  
ягодки, под  
берёзкой 7  
ягод и под  
елью – 10  
ягод?



МОЛОДЦЫ!

