

**Урок математики по теме
«Обитатели подводного
мира»
Семенова С.В.**

$$50 - 40 + 30 + 6 = \underline{46}$$

Рыба – «верблюду»	36
Китовая акула	46
Тигровая акула	43
Щука	24




Китовая

акула



Какова же длина этой
рыбы?

$$15 + 5 - 4 + 2 = \underline{18}$$



**Киты, касатки ,
дельфины –
это
млекопитающ
ие животные.**



$$\text{КИТ } (10 + 7) + 10 = \underline{27}$$

=

$$\text{КАСАТКА } (87 - 50) - 30 = \underline{7}$$

=

$$\text{ДЕЛЬФИН } (89 + 1) - 80 = \underline{10}$$

=

Самое большое животное в мире – голубой кит.



**Длина 27 метров, вес 150
ТОНН**

Кто самый длинный?



Китовая акула

18



Кит 27



Дельфин 10



Касатка

7

Опубликовано на Aquamagia.ru

У карликового кита длина тела 6 метров, а у голубого кита 27 метров.

На сколько метров голубой кит длиннее карликового?

Ответ: на 21м



Карликовый кит



Голубой кит

Угадай словечко !

С	М	Н	И	Г	О	Ь	О
21	39	53	50	96	19	33	74

Осьминог



Задача – шутка

На узенькой дорожке плясали
осьминожки –

10 дочек-осьминожек и сыночков 10
тоже.

Пришел папа-осьминог , 2 детишек
уволоок.

Сколько деток-осьминожек плясать
Ответ: 18 остались на дорожке?



Дельфин 20

$$+ \quad \underline{30} = 50$$

Осьминог 74

$$- \quad 4 = 70$$

Кит 50 + 10 = 60

Акула 7 +

$$= 37 \quad 30$$

Рыба-молот 1

$$+ \quad 35 = 36$$



УГАДАЙ-



Рыба-
сельдь 6


КА!

Катран 12



Тунец 15

Скат 10



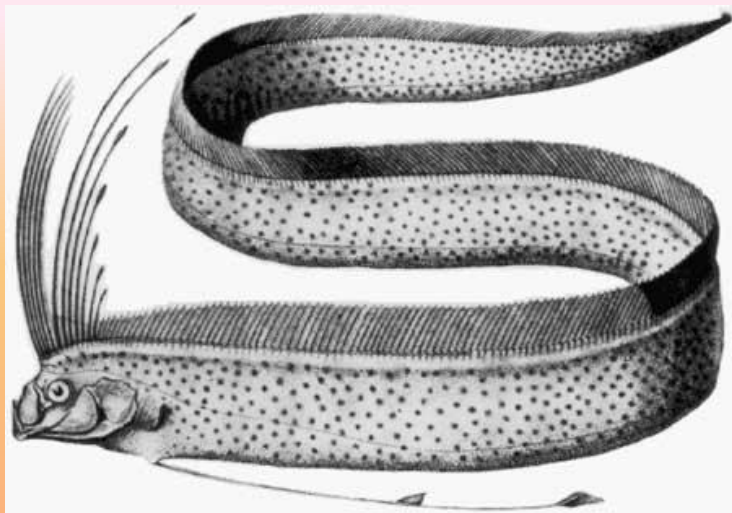
Треска 9



Какие бывают

рыбы?

Рыба-ремень



Рыба-молот



Какие бывают

рыб



Рыба-
ёж



Рыба-
игла



Рыба-пила

Засели аквариум

$40+50$



90

41

35

$40+1$



$29+6$



**Понравился ли вам
урок?**

