

МУНИЦИПАЛЬНОЕ АВТОНОМНОЕ ДОШКОЛЬНОЕ ОБРАЗОВАТЕЛЬНОЕ
УЧРЕЖДЕНИЕ «ДЕТСКИЙ САД» №17 «КОЛОСОК».

Математическое занятие
«Поможем Маше и медведю»



Воспитатель: Федоренчик М.
В





Сидит в корзинке девочка
У Мишки за спиной,
Он сам того не ведая,
Несёт её домой.

(Маша и Медведь)



**ПОМОГИТЕ НАМ
РЕБЯТА!
СПРАВИТЬСЯ С
ЗАДАЧЕЙ
ТРУДНОЙ!**



1 задание: **Реши задачу**

На дереве сидело 6 птиц, к ним прилетели ещё 2 птицы. Сколько птиц стало на дереве?

$$(6+2=8)$$

На поляне играют 5 зайчат, от них ушли 2 зайчонка. Сколько зайчиков осталось на поляне?

$$(5-2=3)$$

У Маши было 4 яблока. 1 она съела. Сколько яблок осталось?

Мишка поймал 1 большую рыбку и 7 маленьких рыбок. Сколько всего поймал Мишка рыбок?

$$(1+7=8)$$



2 задание: **Логические задачи**

– Шла бабушка на базар, несла корзину яиц, а дно упало. Сколько яиц осталось в корзине? (не одно)

– На столе стояло 3 стакана с ягодами. Маша съела 1 стакан ягод и поставила его на стол. Сколько стаканов стоит на столе?
(три)

– Сидело на дорожке три птички, кот подкрался и поймал одну птичку, сколько птичек осталось? (ни одной)

-Над рекой летели птицы: голубь, щука, две синицы, два стрижа и пять угрей. Сколько птиц- ответ скорей? (пять)



задание 3: **Сравни числа и поставь**

знаки



10.....1

15.....15

1.....12

16.....9







11.....13








18.....20



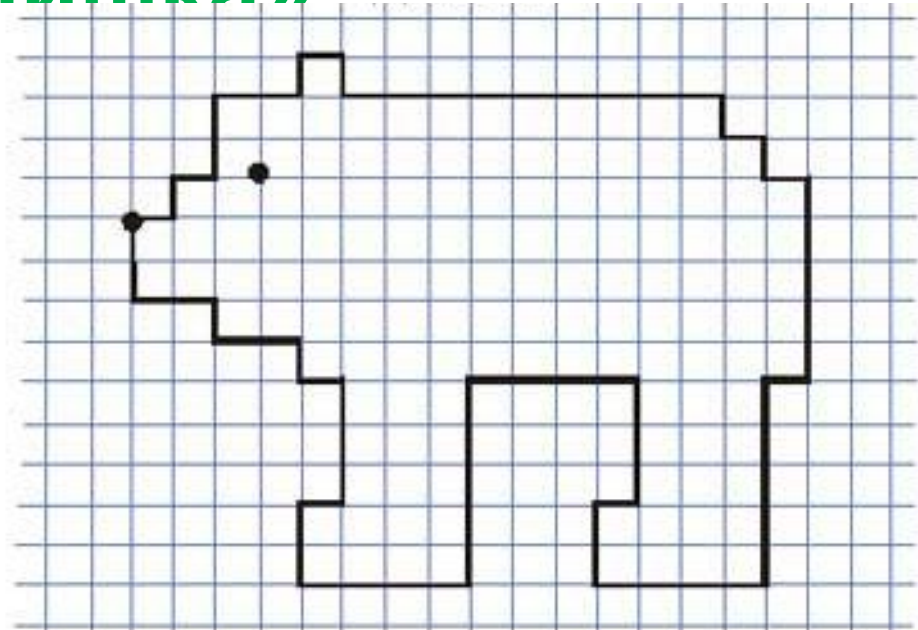
задание 4: **Помоги распределить
фигуры по группам**







задание 5: **Графический диктант** «Мишка»



Отступи 2 клетки слева, 7 клеток сверху, ставь точку и начинай рисовать:

1 →	9 →	4 ←	1 →
1 ↑	1 ↓	2 ↑	3 ↑
1 →	1 →	1 →	1 ←
2 ↑	1 ↓	3 ↑	1 ↑
2 →	1 →	4 ←	2 ←
1 ↑	5 ↓	5 ↓	1 ↑
4 →	1 ←	4 ←	2 ←
1 ↓	5 ↓	2 ↑	2 ↑

Пальчиковая гимнастика

«Отдохнём»

Наши пальчики
проснулись, потянулись,
потянулись и
встряхнулись. По ладошки
побежали, побежали,
поскакали, поскакали и
уста

1-важный господин, 2-
глаза есть у льва, 3-
желанья загадай, 4-
буквы в слове КРАЙ, 5-
пальцев на руке, 6-
шишек в рюкзаке, 7-
счастливое число, 8-как
две буквы О, 9-с
хвостиком кружок, 10-
поиграй со мной

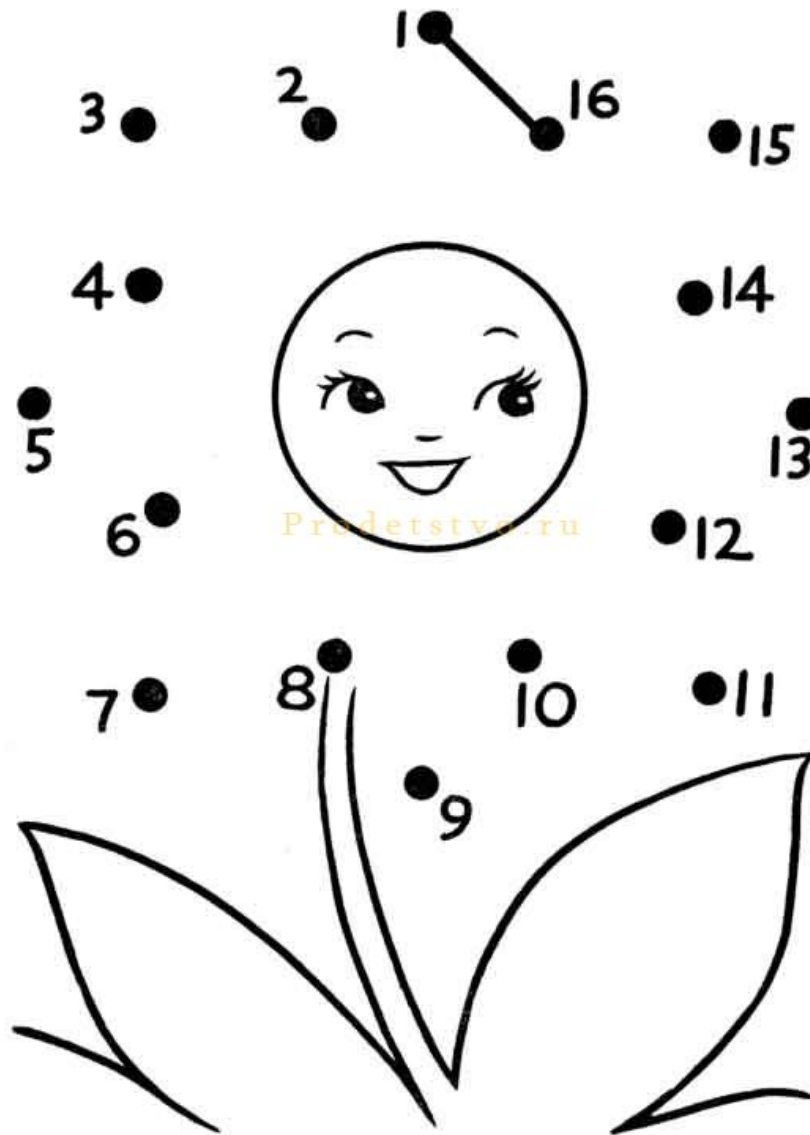


задание 6: **Подумай и ответь**



1. Какое число нужно прибавить к 10, чтобы получилось 15?
2. Какое число меньше 15 на 1?
3. Назови соседей числа 8, 4, 6, 9?
4. Какое число идёт за числами 5, 1, 7, 9?
5. Какое число стоит перед 8, 5, 2?
6. Сколько месяцев в году?
7. Сколько дней в неделе?
8. Какой сегодня день недели?
9. Какой день недели был вчера?
10. Какой день недели будет завтра?

задание 7: **Соедини точки по картинке**



**СПАСИБО ЗА ПОМОЩЬ,
РЕБЯТА!**

