


*Общественный  
смотр знаний*



*по математике*

*в 5 классе*




*Смотр подготовила и провела  
учитель математики высшей категории  
МОУ- Ивановской СОШ Баганского района НСО  
Иваненко ОВ  
2007/2008 учебный год*




**Не беда, что идти далеко,  
Не боимся, что путь будет труден.  
Никогда не давались легко  
Достижения людям.**

## **Цели урока:**

- обобщить и проверить знания учащихся по курсу математики 5 класса;*
- научить учащихся демонстрировать свои знания в нестандартной ситуации;*
- привитие интереса к изучению математики;*
- развитие творческих способностей учащихся.*



# Этапы проведения смотра знаний:



- Приветствие участников смотра знаний, их родителей и гостей. Сообщение целей и задач смотра, хода проведения.
- Проверка техники счёта.
- Решение задач на смекалку.
- Ответы учащихся по билетам.
- Кто быстрее. Устный счёт.
- Выполнение теста.
- Ответы учащихся по билетам.
- Заполнение таблицы значений (целое, половина, треть, четверть, три четверти, восьмушка, полтора).
- Защита творческих проектов (презентации, сказки, рисунки).
- Подведение итогов смотра. Награждение победителей.

# Памятка отвечающему



- Прочти внимательно вопрос билета, продумай структуру своего ответа.
- Подготовь на доске необходимые записи для ответа. Пиши аккуратно. Отвечай, используя указку, не заслоняя собой информацию на доске.
- Речь должна быть чёткой, строй ответы полными предложениями.
- Умей внимательно выслушать других отвечающих.
- Помни о том, что ты всегда можешь высказать своё мнение и имеешь право защитить его.

# Сводная ведомость результатов



№ п/п	ФИ	Стартовые баллы	Техника счёта	Соображай-ка	Таблица	Билет	Тест	Устный счёт	Творческая работа	Итог/оценка
1	Ильинский Максим	4	4	3	4	5+1 +1	3		4	29
2	Кирилков Иван	3+1	3	0	3	3+2	5		4	24
3	Костецкий Виталий	2	2	2	2	1+3	3			15
4	Ордин Роман	0+1	2	2	2	3	3			13
5	Розбах Татьяна	4+1	4	3	5	5+3	5	4	5	39
6	Фоменко Никита	5	4	3	5	4+1	5	6	4	37
7	Черезова Алина	5+1	4	2	5	4+1	5	5	5	37
8	Эрмиш Евгений	3	2	2	4	2+4	5		4	26



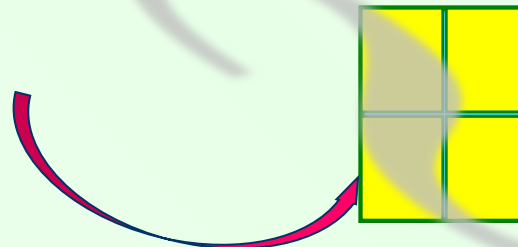
# Соображай-ка.

1. Самое маленькое натуральное число?

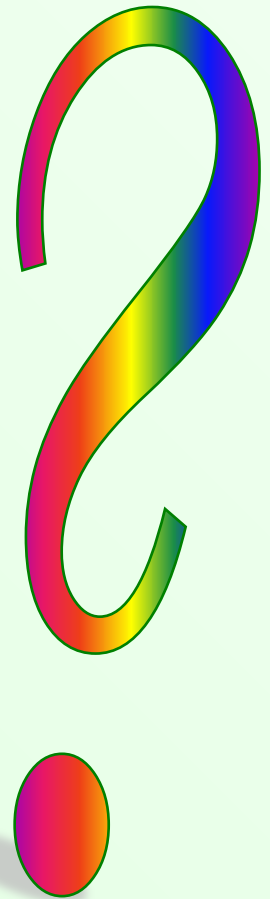
2. Двое играли в шахматы 2 часа. Сколько времени играл каждый?

3. Петух, стоя на одной ноге, весит 5 кг. Сколько он будет весить, если встанет на две ноги?

4. Сколько квадратов на рисунке?



5. Сколько всего двузначных чисел?




# Кто быстрее?

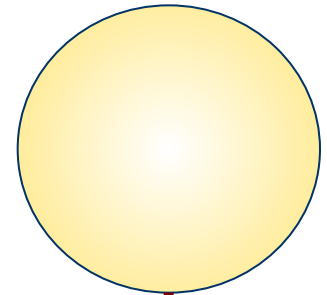


125

$\times 8$




$- 500$



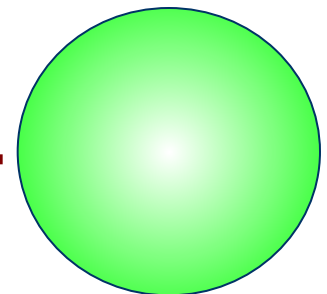
$: 1000$

?

$+ 2,5$



$\times 10$





# Итоги смотра знаний

Победитель смотра знаний

ПОЗДРАВЛЯЕМ!

