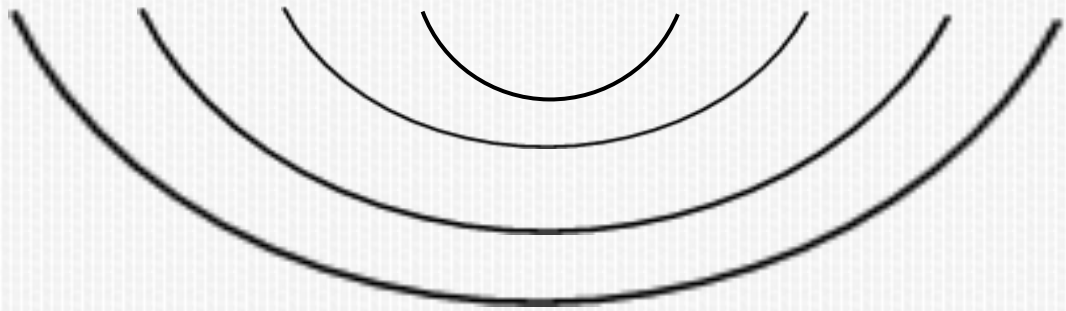


1 2 3 4 5 6 7 8 9 10



10

$8+6$	$5+2$	$0+20$
$5+5$	$10+3$	$9+4$
$3+1$	$6+4$	$18+1$

$5+2$

$3+1$

$6+4$

$5+5$

$10+3$

$18+1$

$0+20$

$8+6$

$9+4$

$$5+2=7$$

$$3+1=4$$

$$6+4=10$$

$$5+5=10$$

$$10+3=13$$

$$18+1=19$$

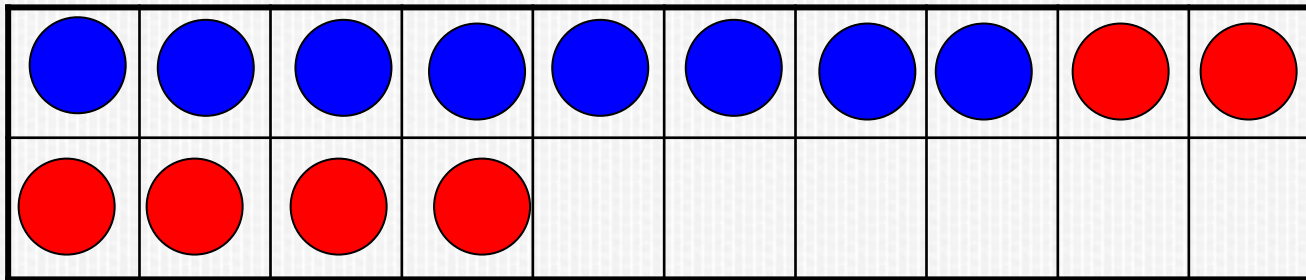
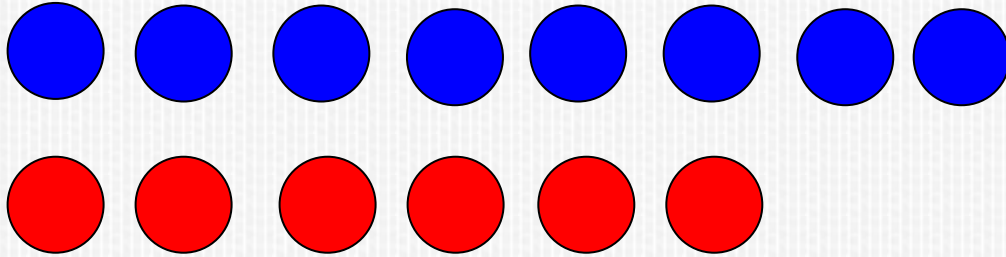
$$0+20=20$$

$$8+6$$

$$9+4$$

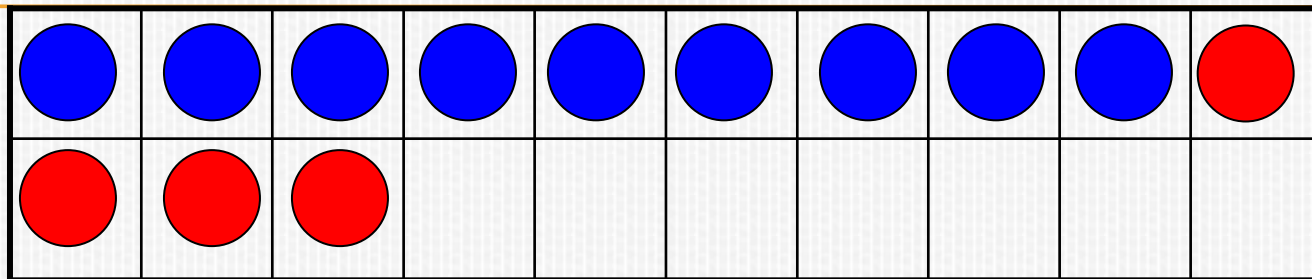
?

$$8+6$$



$$8+6=8+2+4=14$$





$$9+4$$

Как к 9 синим кружкам прибавить 4 красных?

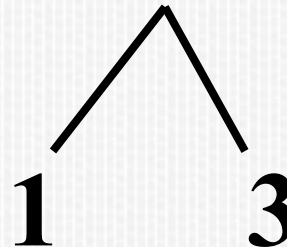
Сначала дополним 9 до 10.

Сколько ещё осталось прибавить? **3**

Почему 3?

Записать это можно так:

$$9+4=10+3=13$$



10 б.

на 1 б. меньше




$$10-1=9 \text{ (б.)}$$

Сколько всего баллов получил мальчик за упражнения?

$$10-1=9 \text{ (б.)}$$

$$10+9=19 \text{ (б.)}$$



Спасибо за
работу