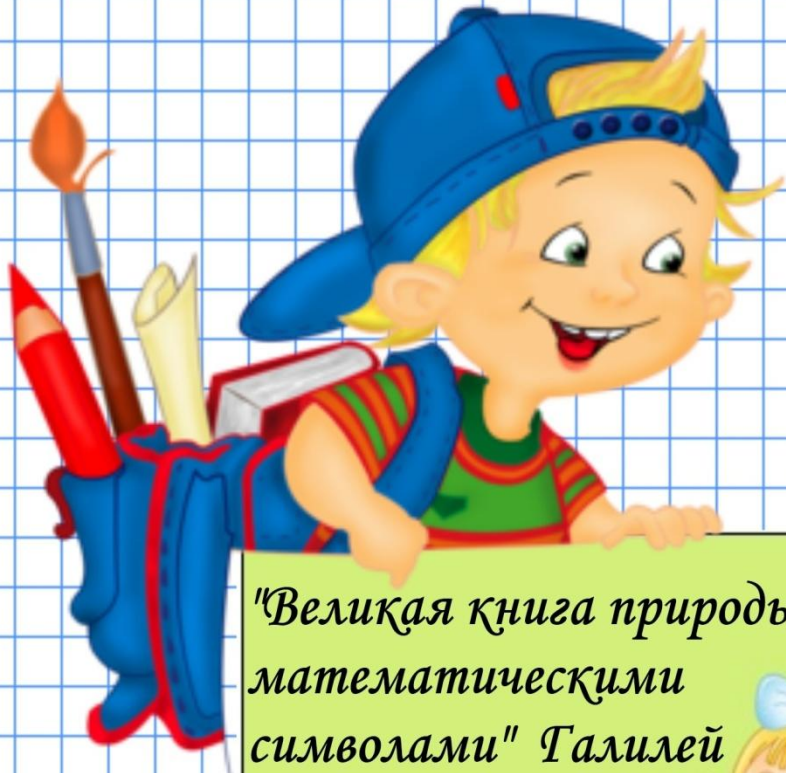


19.11.11

Обыкновенные

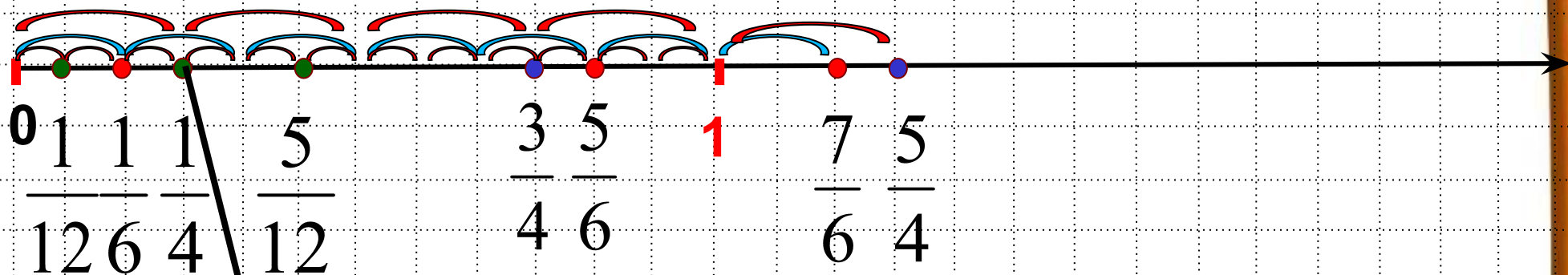
дроби



*"Великая книга природы написана
математическими
символами" Галилей*




Проверка домашнего задания



$$\frac{3}{12}$$

№316



Используя рисунок, сравните дроби

при сравнении дробей
с одинаковыми
знаменателями, больше
та дробь, числитель
которой больше

$$\frac{4}{6}$$

$>$

$$\frac{2}{6}$$

Используя рисунок, сравните дроби

при сравнении дробей
с одинаковыми
числителями, больше
та дробь, знаменатель
которой меньше


$$\frac{3}{4}$$

>

$$\frac{3}{8}$$

№ 306
(устно)

Расставьте в порядке убывания

$$\frac{4}{17} \quad \frac{8}{17} \quad \frac{11}{17} \quad \frac{4}{21}$$


>

>

>