



Олимпиады по математике 2 класс

Автор шаблона
Носова Ольга
Михайловна,
учитель начальных
классов МОУ СОШ №
11
Курского района
Ставропольского края

Презентацию подготовила учитель
начальных классов 1
квалификационной категории
МАОУ-СОШ №148 Железнодорожного
района
г. Екатеринбурга
Циммер Алиса Леонидовна.

Росло 2 берёзы. На каждой по 5 веток. На каждой ветке по 8 груш. Сколько всего груш росло на берёзе?

1

Так
бывает?



На берёзе
груши не
растут.




Одна сестра старше другой на 3 года.
Ирине 8 лет. Сколько лет Антонине?

1



Кто где???

Антонине 5 лет или 11 лет



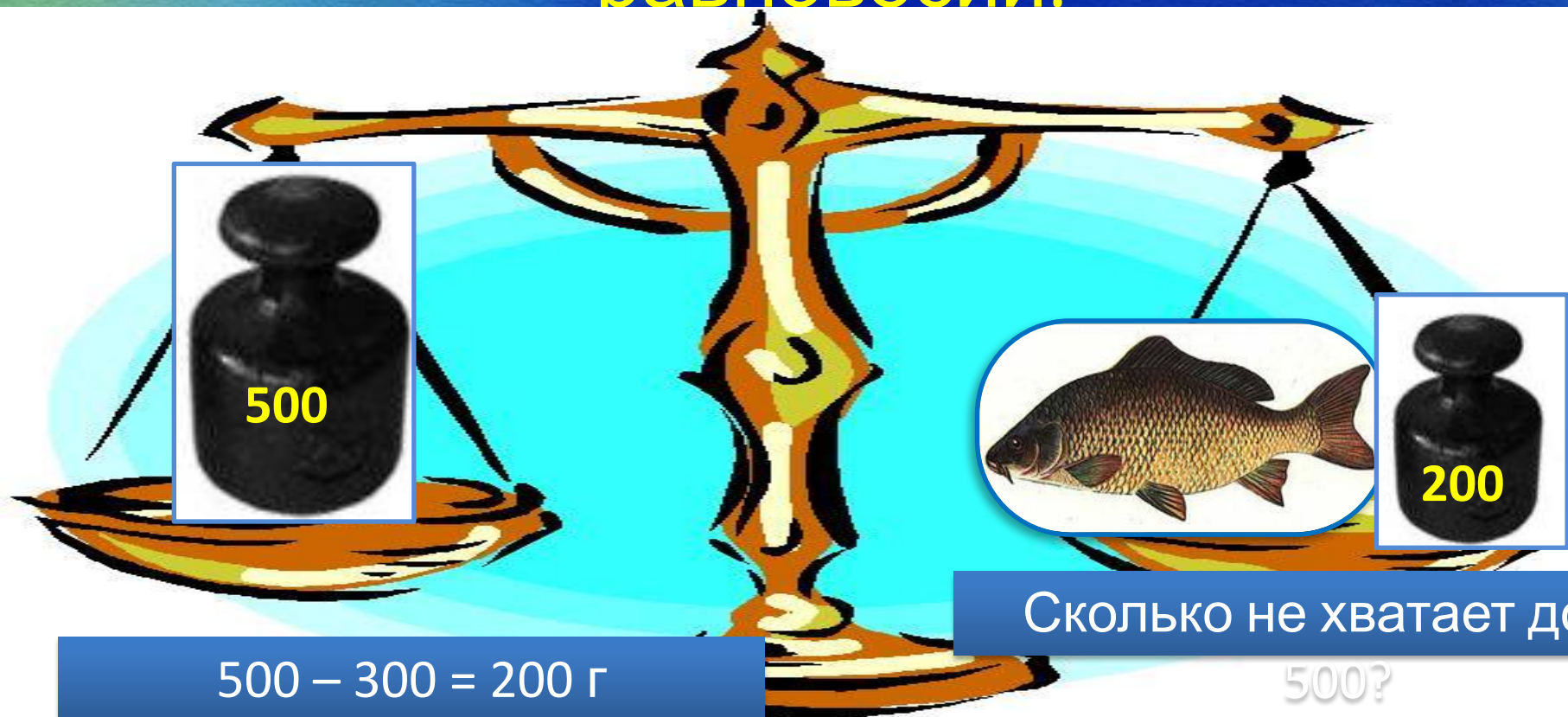
Бабушка предложила внучке на
выбор яблоко, грушу и банан.

Девочка решила выбрать 2 из этих
угощений. Запиши, как именно может
быть сделан выбор.

1



Укажи, сколько граммов весит рыба,
если на правой чаше весов с ней
рядом стоит гиря массой 200 г, а на
левой – 500 г. Весы находятся в
равновесии.



$$500 - 300 = 200 \text{ г}$$

Сколько не хватает до
500?

В одной бочке 18 вёдер воды, а в другой 12 вёдер. Сколько вёдер воды нужно перелить из одной бочки в другую, чтобы в обеих стало поровну?

1



~~$18 - 1 = 17, 12 + 1 = 13$~~

~~$18 - 2 = 16, 12 + 2 = 14$~~

$18 - 3 = 15, 12 + 3 = 15$



Запиши 5 двузначных чисел, в которых сумма десятков и единиц равна 5.



1	4
---	---

4	1
---	---

2	3
---	---

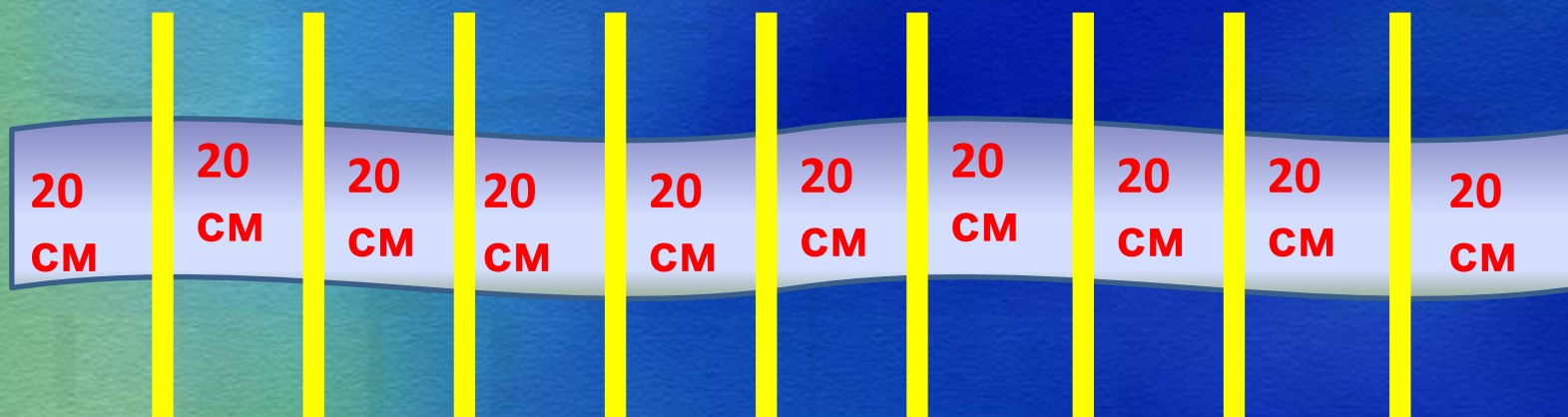
5	0
---	---

3	2
---	---

14, 23, 32, 41, 50

Ленту длиной 2 м разрезали по частям по 20 см. Укажи, сколько разрезов пришлось сделать.

1



$$2 \text{ м} = 200 \text{ см}$$

9 разрезов



У Антона 7 самолётиков. Если ему подарят ещё 5 самолётиков, то у него их станет на 4 больше, чем у Славы. Сколько самолётиков у Славы?

1



Ира 4

$$12 - 4 = 8$$

12

сверху и снизу.

Сколько этажей в доме у
Гриши?

1



ГРИША

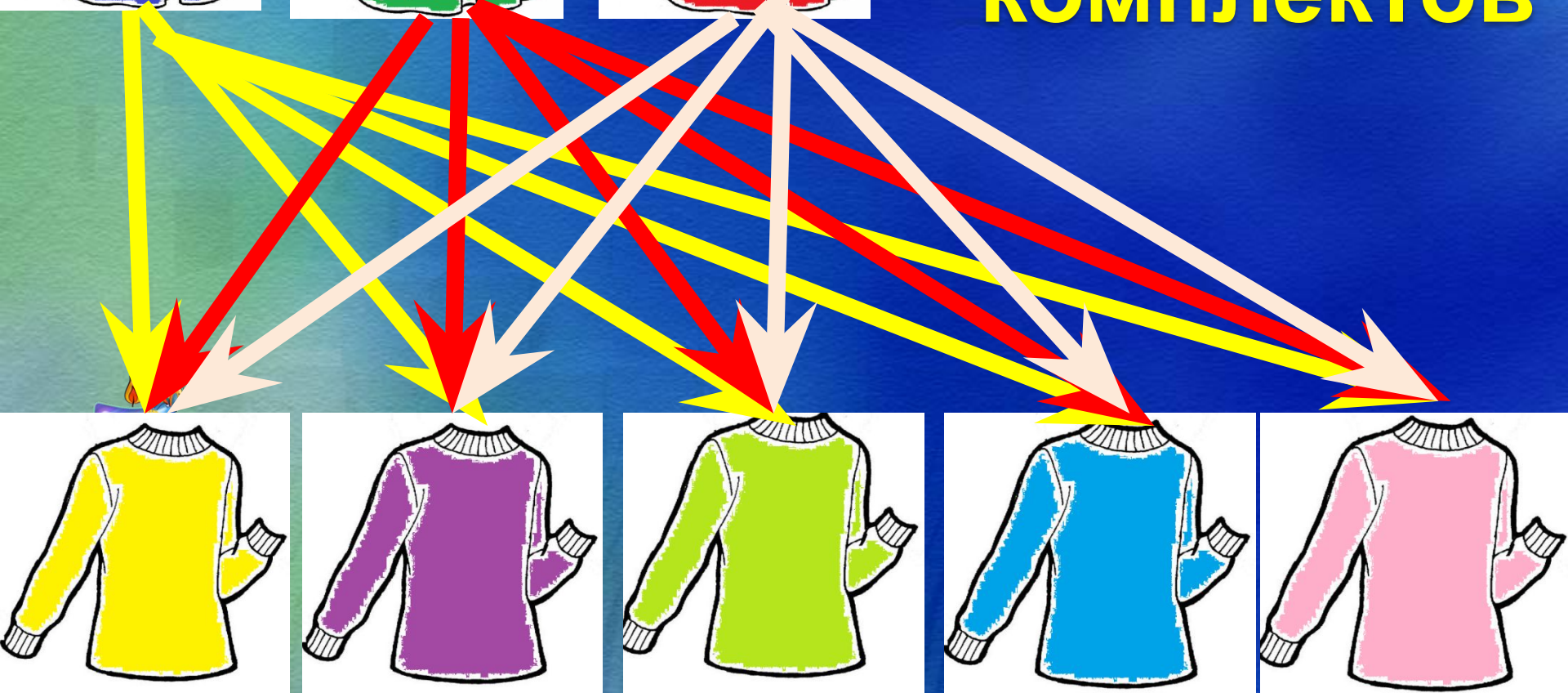
9
этаже

У Инны 3 нарядные юбочки и 5 разноцветных кофточек.
Какое количество комплектов нарядной одежды может
составить девочка?

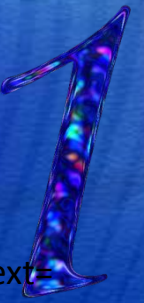


15

КОМПЛЕКТОВ



Источники



- <http://www.pptbackgrounds.net/uploads/colorful-effects-backgrounds-powerpoint.jpg>
- <http://www.pptback.com/uploads/colors-blue-colors-backgrounds-powerpoint.jpg>
- http://images.yandex.ru/yandsearch?fp=6&uinfo=ww-1519-wh-772-fw-1294-fh-566-pd-1.25&p=6&text=%D0%B1%D0%B5%D1%80%D0%B5%D0%B7%D0%B0&clid=1923017&pos=181&rpt=simage&img_url=http%3A%2F%2Fimg.labirint.ru%2Fimages%2Fcomments_pic%2F0914%2F01labgi0l1238705044.jpg
- http://images.yandex.ru/yandsearch?text=%D0%B4%D0%B5%D0%B2%D0%BE%D1%87%D0%BA%D0%B0&fp=0&pos=8&uinfo=ww-1519-wh-772-fw-1294-fh-566-pd-1.25&rpt=simage&img_url=http%3A%2F%2F9px.ru%2Fsstorage%2F56%2F2011%2F04%2Fimage_56060411117548830451.jpg
- <http://www.cirota.ru/forum/images/101/101385.jpeg>
- <http://im6-tub-ru.yandex.net/i?id=326685000-23-72&n=21>
- http://files.adme.ru/files/comment/part_155/1547005_1271536527.jpg
- <http://www.proprofs.com/quiz-school/upload/yuiupload/1421388878.jpg>
- <http://900igr.net/datai/pedagogika/Pravovoe-vospitanie-shkolnikov/0002-002-Pravovoe-vospitanie-eto-organizovannoe-sistemicheskoe.jpg>
- <http://www.tourtrans.ru/ipb/uploads/post-15531-0-67415900-1337248675.jpg>
- <http://dsk-suor.ru/img/projects/43/101-4.jpg>
- А.О. Орг, Н.Г. Белицкая. Олимпиады по математике. 2 класс. М., 2013 г.

