

# Олимпийские игры.

Урок математики

3 класс

Учитель МАОУ «СОШ № 55»

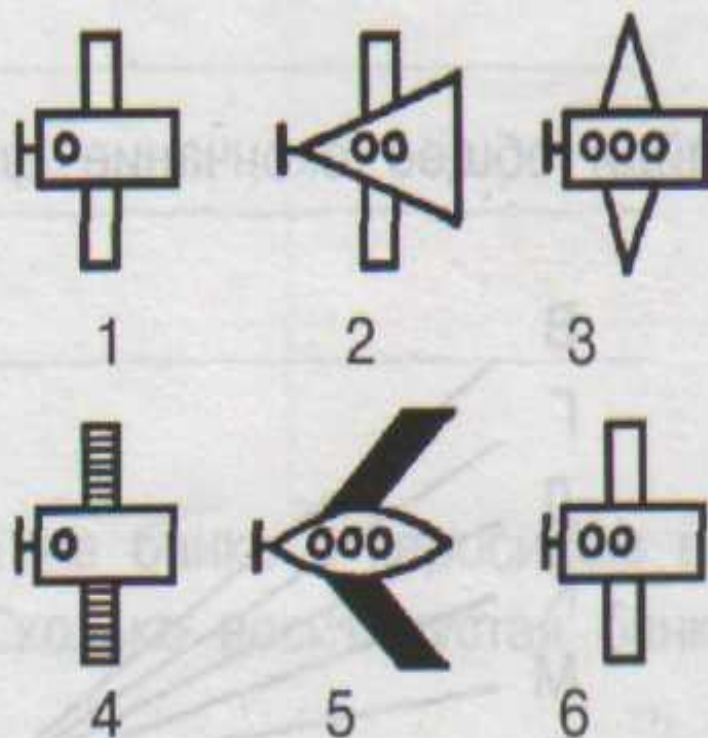
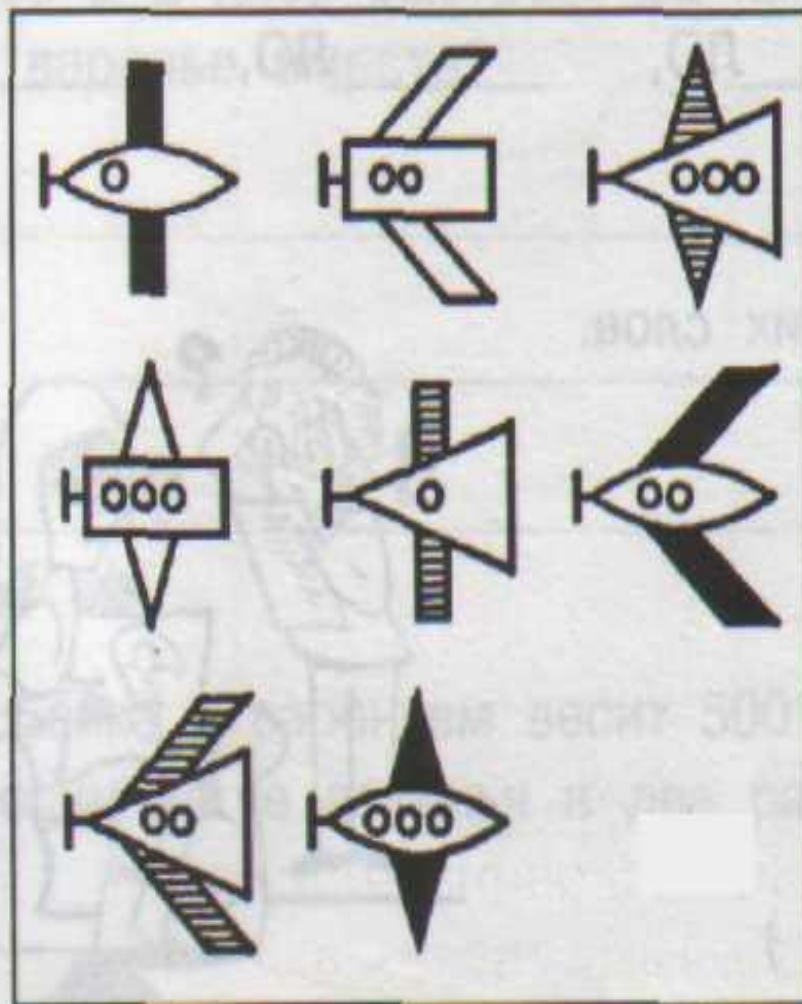
Онищенко Е.В.

# Тема: Закрепление пройденного материала. Решение задач.

- Цели:**
- 1) Закреплять умение решать задачи;
  - 2) Совершенствовать вычислительные навыки;
  - 3) Развивать логическое мышление, внимание, память; обогащать словарный запас детей, развивать эмоции;
  - 4) Воспитание нравственных качеств.

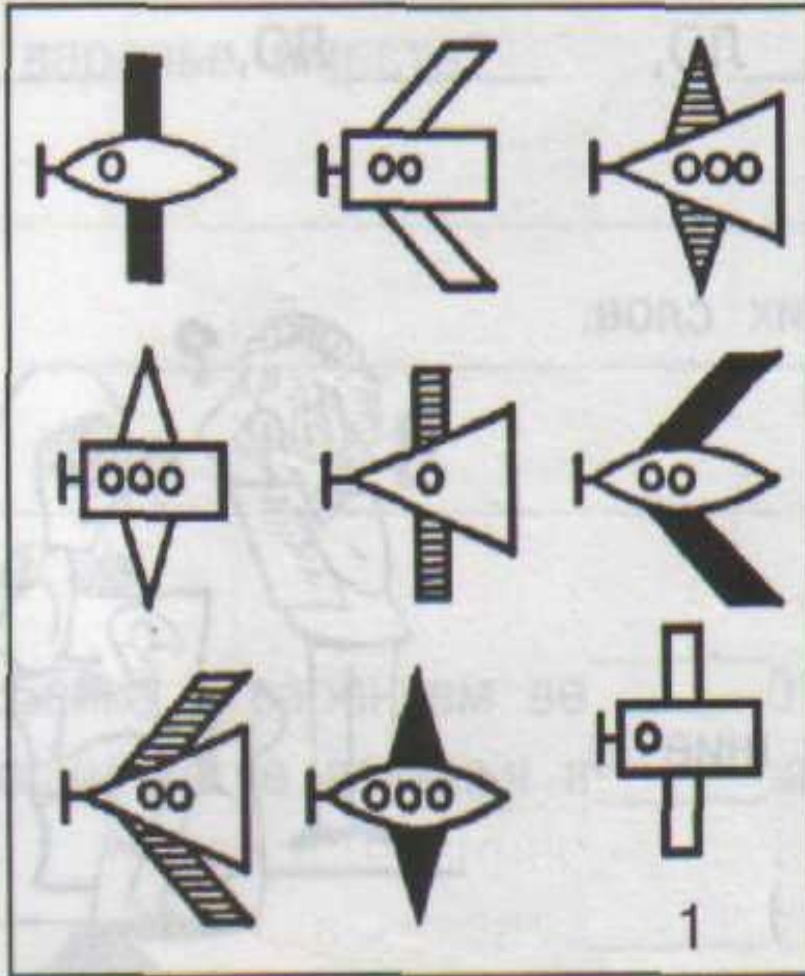
# ПОИСК ЗАКОНОМЕРНОСТЕЙ

1. Выбери нужную фигуру из 6 пронумерованных.



# ПОИСК ЗАКОНОМЕРНОСТЕЙ

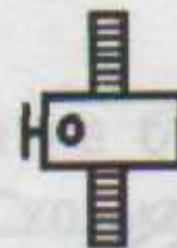
1. Выбери нужную фигуру из 6 пронумерованных.



2



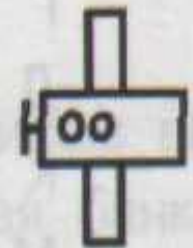
3



4




5



6



# ЦЕПОЧКА



# I ОЛИМПИЙСКИЕ ИГРЫ

Австралия 100

США 80

Италия 69

Великобритания 54

Россия 90

Германия 70

Греция 30

# Карта Греции





# СТАДИОН В ДРЕВНЕЙ ОЛИМПЦИИ



# Руины города Олимпия

[svali.ru](http://svali.ru)  
туристический портал



# ХРАМ ЗЕВСА В ОЛИМПИИ



# Панафинейский стадион



**Найдите сумму данных чисел и  
объясните как удобнее вычислить?**

**8**

**1**

**5**

**4**

**2**

**6**

**7**

**3**

**9**

# Первый день Олимпийских Игр



В первый день Олимпийских Игр приносились жертвы богам, а спортсмены давали клятву перед статуей Зевса.

Давайте обратимся к кольцам, у каждого кольца свой цвет. Почему?



- Пять переплетенных колец на олимпийском флаге обозначают пять континентов.

# Континенты

**ЕВРОПА**

-

**СИНИЙ**

**АЗИЯ**

-

**ЖЁЛТЫЙ**

**АФРИКА**

-

**ЧЁРНЫЙ**

**АВСТРАЛИЯ**

-

**ЗЕЛЁНЫЙ**

**АМЕРИКА**

-

**КРАСНЫЙ**



# САМОПРОВЕРКА

- ЕВРОПА** 1).  $24 : 6 = 4(\text{ор.})$
- АЗИЯ** 2).  $2 * 6 = 12(\text{г.})$
- АФРИКА** 3).  $20 + 60 = 60(\text{уд.})$
- АВСТРАЛИЯ** 4).  $14 * 2 = 7(\text{кл.})$
- АМЕРИКА** 5).  $9 * 3 = 27(\text{д.})$

# Родина хоккея с шайбой — Канада, где он появился во второй половине 19 века.



- Родина хоккея с шайбой — Канада, где он появился во второй половине 19 века. Очень быстро хоккей стал там национальным видом спорта. В конце века стали проводиться регулярные соревнования — и не только в Канаде, но и в США.

# ВЫЧИСЛИ:

$$6 * 11 + 6$$

$$7 + 3 * 9$$

$$9 * 11 - 97$$

$$24 + 60 - 83$$

$$8 * 8 - 4 * 7$$

$$86 - 16 + 25$$

# ВЫЧИСЛИ:

$$6 * 11 + 6 = 72$$

$$7 + 3 * 9 = 34$$

$$9 * 11 - 97 = 2$$

$$24 + 60 - 83 = 1$$

$$8 * 8 - 4 * 7 = 36 \quad 86 - 16 + 25 = 95$$

Взаимопроверка

# ФИЗМИНУТКА



Первый российский олимпийский чемпион фигурист Николай Панин-Коломенкин.

# Метание копья



# **РЕШИТЕ ЗАДАЧУ :**

**В гонках принимали участие 6 команд лыжников. В каждой команде было 4 мальчика и 3 девочки. Сколько всего лыжников во всех этих командах?**

# Состязание колесниц





## РЕШИ УРАВНЕНИЕ:

$$X - 43 = 62$$

$$28 + X = 47$$

# Церемония закрытия

