

$$\sqrt[n]{a}$$

**Определение
арифметического
корня n -ой степени.**

МОУ СОШ №256 г. Фокино

Повторение:

1) Имеет ли смысл выражение:

$$\sqrt{20} \quad \sqrt[3]{-7} \quad \sqrt[6]{(-13)^4} \quad ?$$

2) Докажите, что:

• $\sqrt[3]{125} = 5$ т. к. $5^3 = 125$

• $\sqrt[8]{0} = 0$ т. к. $0^8 = 0$

• $\sqrt[6]{1} \neq -1$ т. к. $(-1)^6 = 1$

степени из 1.

Повторение:

Сравните:

1. $8,2^4 < 9,1^4$

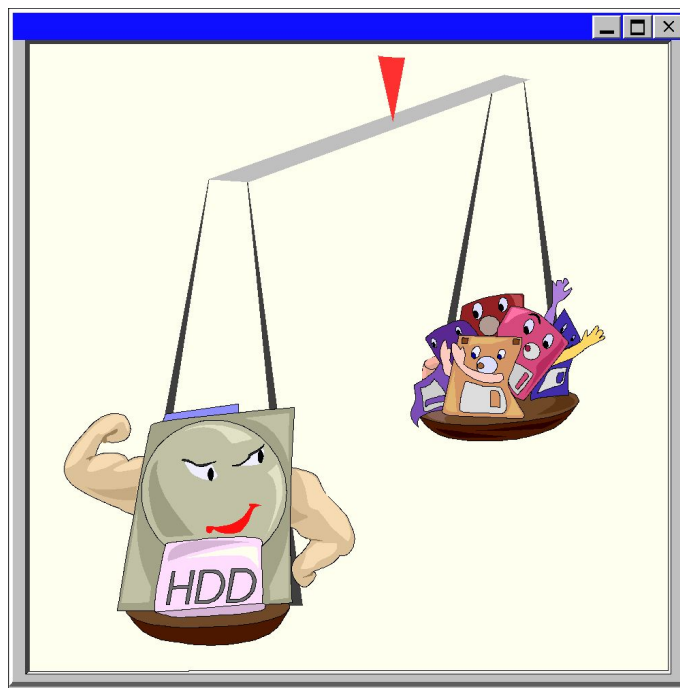
2. $(-2,5)^5 < 4^3$

3. $(-3,7)^3 < (-2,7)^3$

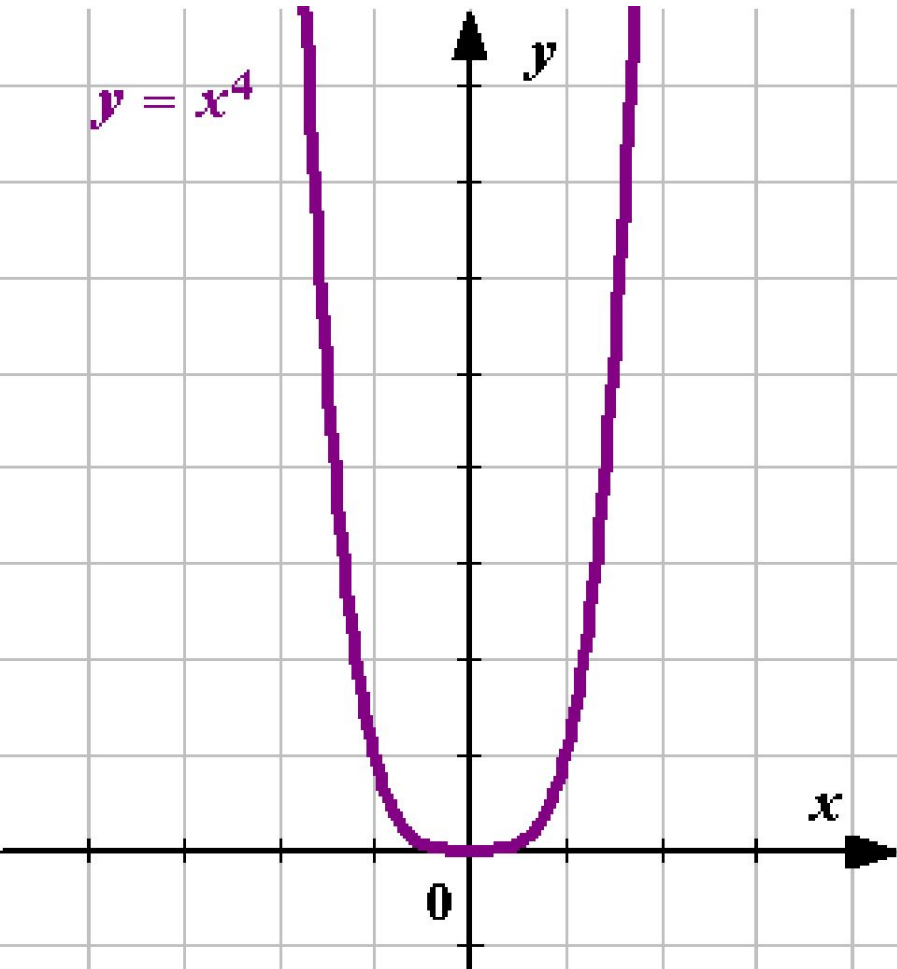
4. $\sqrt[3]{5,7} < \sqrt[3]{7,5}$

5. $\sqrt[3]{4} > \sqrt[3]{-4}$

6. $\left(-\frac{19}{25}\right)^{101} = -0,76^{101}$



**Принадлежит ли графику
функции $y = x^4$ точка:**



A (- 1; 1)

B (1; - 1)

C (7; - 2401)

Арифметический корень n-ой степени.

Арифметический корень n-ой степени из неотрицательного числа a называется неотрицательное число, n-я степень которого равна a

$$\sqrt[3]{2\frac{10}{27}} = 1\frac{1}{3}$$



$$-2\sqrt[5]{32} = -4$$

$$\sqrt[5]{-32} = -2$$

$$\sqrt[5]{\frac{1}{32}} - \sqrt[3]{15\frac{5}{8}} = -2$$

$$0,7\sqrt[4]{81} - 4\sqrt[3]{3\frac{3}{8}} = -3,9$$

Решите уравнения.

1) $x_1 = -2; x_2 = 2$

4) $x = 10$

2) *Корней нет.*

5) $x = -3$


3) $x_1 = -1/2; x_2 = 1/2$

6) $x_1 = -1; x_2 = 1; x_3 = -3; x_4 = 3.$

7) $x_1 = 9; x_2 = 1$

8) $x_1 = -1; x_2 = 2$

9) $x_1 = 16; x_2 = 25.$



Домашнее задание:
П.20, №№ 532; 534; 538



Самостоятельная работа.

1 вариант

2 вариант

№ 1. Выпишите выражения, которые имеют СМЫСЛ:

$\sqrt[4]{8}; \sqrt[31]{-81}; \sqrt[6]{-1}; \sqrt[7]{5071}.$	$\sqrt[7]{27}; \sqrt[4]{-2}; \sqrt[19]{-1103}; \sqrt[6]{0}.$
--	--

№ 2. Вычислите:

$-2 \sqrt[3]{32}; -5 \sqrt[4]{16}; \sqrt[7]{-1}.$	$-4 \sqrt[4]{81}; -3 \sqrt[3]{-64}; \sqrt[5]{-32}.$
---	---

№ 3. Решите уравнения:

$$125 + x^3 = 0$$
$$\frac{1}{32} x^6 - 2 = 0$$
$$x^4 + 16 = 0$$

$$81 - x^4 = 0$$
$$\frac{1}{2} x^5 + 16 = 0$$
$$x^8 + 8 = 0$$