


**Мы сюда пришли учиться,
Не лениться, а трудиться.
Работаем старательно,
Слушаем внимательно!**



Проверка домашнего задания



Разгадайте ребус




Отвѣтьте на вопросы

Дробь это....

Дробь состоит из...

Дробь бывают...



Решите задачи

На детском празднике было 200 конфет.
Половина и еще 4 конфеты шоколадные.
Сколько было шоколадных конфет

104 конфеты



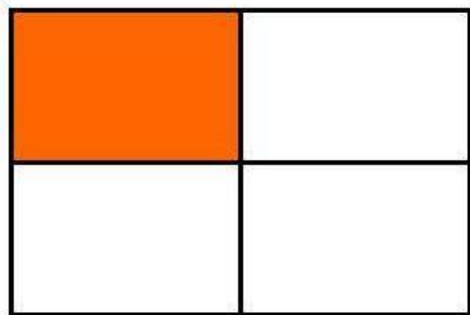
В комнате горело 60 свечей.
Половину и еще 10 задули.
Сколько в комнате осталось
свечей?

60 свечей

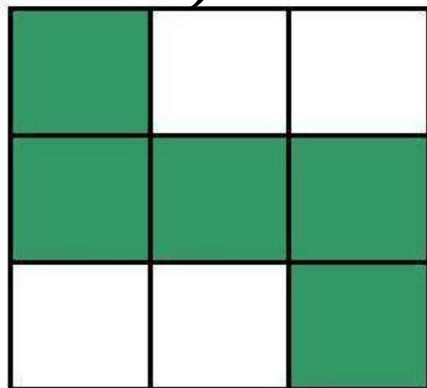


Назовите геометрические фигуры. Какая часть фигуры закрашена?

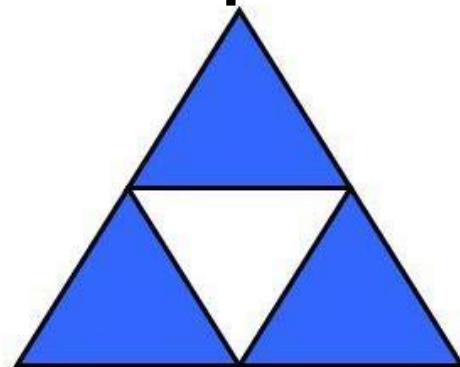
$$\frac{1}{4}$$



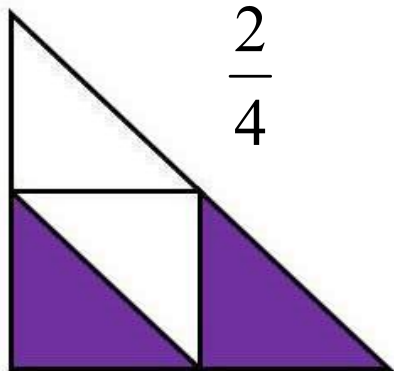
$$\frac{5}{9}$$




$$\frac{3}{4}$$



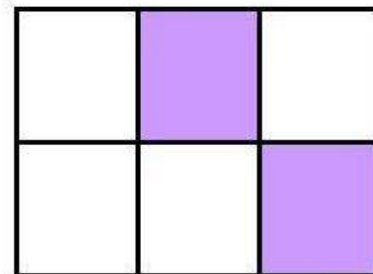
$$\frac{2}{4}$$



$$1$$



$$\frac{2}{6}$$



Найти ошибки

$$\frac{3}{10} < \frac{7}{10}$$

$$\frac{9}{17} < \frac{9}{8}$$

$$\frac{9}{12} > \frac{5}{12}$$

$$\frac{7}{12} \approx \frac{7}{10}$$

$$\frac{7}{7} \approx 1$$

$$5\frac{3}{10} > 4\frac{9}{10}$$

Решить задачу



поделить



Домашнее задание

1 вариант: р. т. с №

2 вариант: р. т. с №