


НЕЗНАЙКАНЫН ЧАГААЛЫГ ЧУРУУ ТУРАР

КТО НАХОДИТСЯ У РЕКИ, А КТО В РЕКЕ? КТО НАХОДИТСЯ НА ЛЕВОМ,
А КТО НА ПРАВОМ БЕРЕГУ РЕКИ?









$$3 + 2 =$$



4

2

5

5 - 0

=



0

3

5

$$4 - 2 =$$



4

3

2

$$1 + 2$$



4

3

2

ТЕМА: ЧИСЛО 6


6



$$\begin{array}{c} \cdot \cdot \cdot \\ \cdot \cdot \cdot \end{array} + \begin{array}{c} \cdot \end{array} = \begin{array}{c} \cdot \cdot \cdot \\ \cdot \cdot \cdot \end{array}$$

$$5 + 1 = 6$$

Б)



6




5



5



3



4



6