





Готовимся к уроку математики!



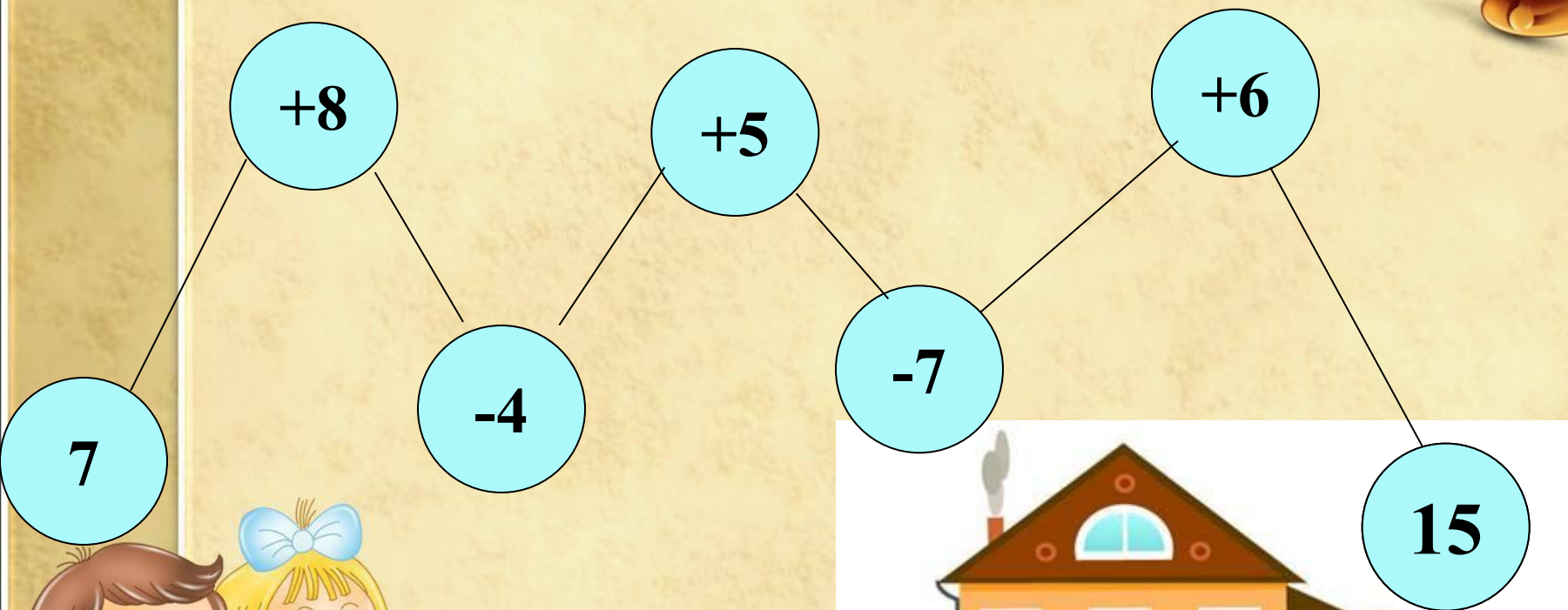


Тренировочные упражнения



1. Как будут расположены стрелки, когда пройдет 1 час?
2. А сейчас какое время показывают часы?

Помогите Математику дойти к своему домику



$1 \text{ дм} = _ \text{ см}$

Д

$5 \text{ дм} = _ \text{ мм}$

Л

$1 \text{ см} = _ \text{ мм}$

Л

$7 \text{ м} = _ \text{ см}$

О

$2 \text{ дм} = _ \text{ см}$

И

$9 \text{ м} = _ \text{ дм}$

М

$7 \text{ дм} = _ \text{ см}$

Н

$10 \text{ дм} = _ \text{ см}$

А

$20 \text{ мм} = _ \text{ см}$

А

$5 \text{ см} = _ \text{ мм}$


Н

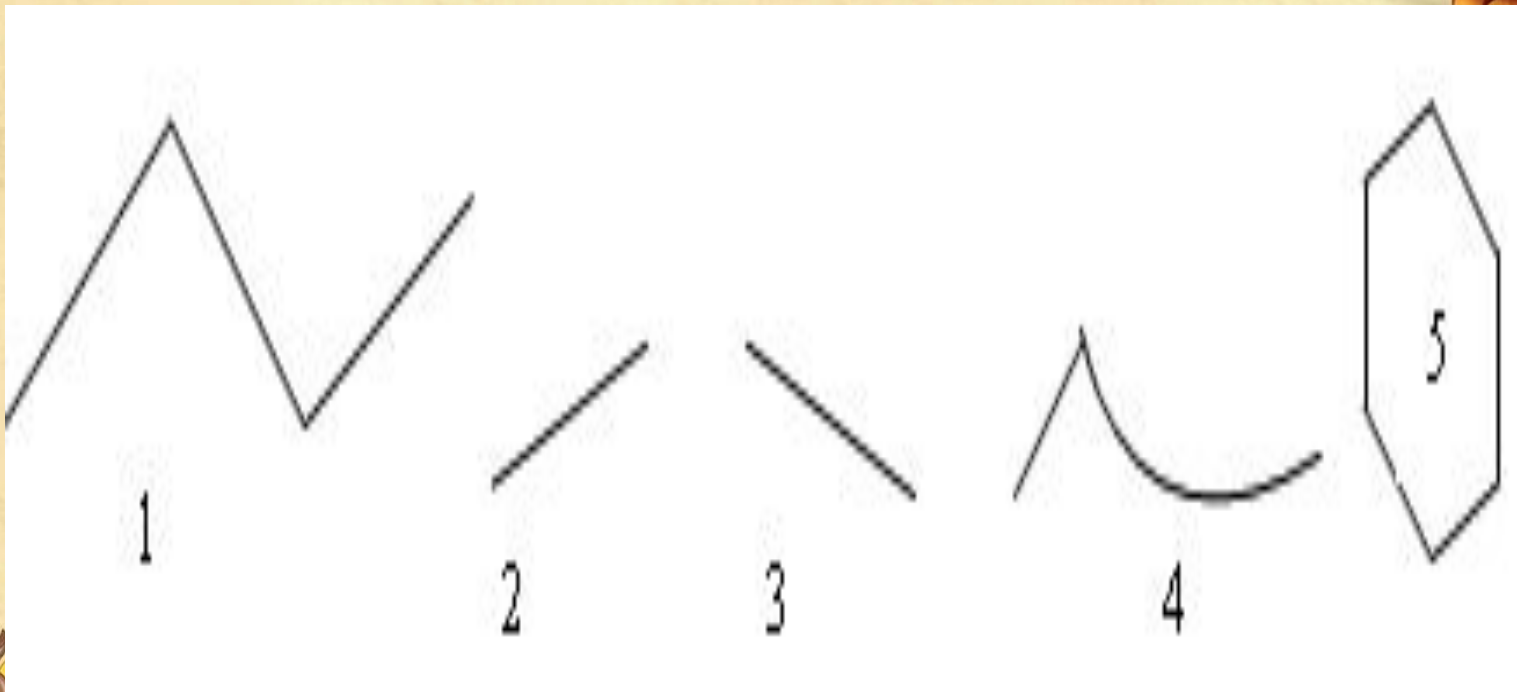
$35 \text{ мм} = _ \text{ см} _ \text{ мм}$

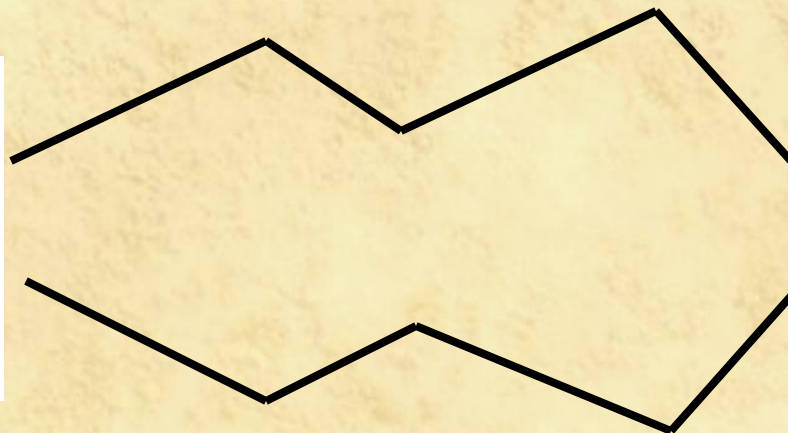
О

$47 \text{ мм} = _ \text{ см} _ \text{ мм}$

Й











В корзине лежат белые грибы и лисички. Белых грибов 5, а лисичек на 4 больше, чем белых. Сколько всего грибов в корзине?



Найди значение выражений.



$$(15 + 1) - 6 =$$

$$(13 - 6) + 4 =$$

$$(15 - 4) + 9 =$$

$$(12 - 5) + 8 =$$

$$(14 - 6) + 5 =$$



Молодцы!



Спасибо за урок!