

ЗАДАЧА

б) На полке стоят 3 плюшевых мишки и 3 куклы. Сколько игрушек на полке?

Реши задачу. Для ответа на вопрос запиши выражение. Найди его значение.



НЕВЕРНО РАВЕHCTBO

E

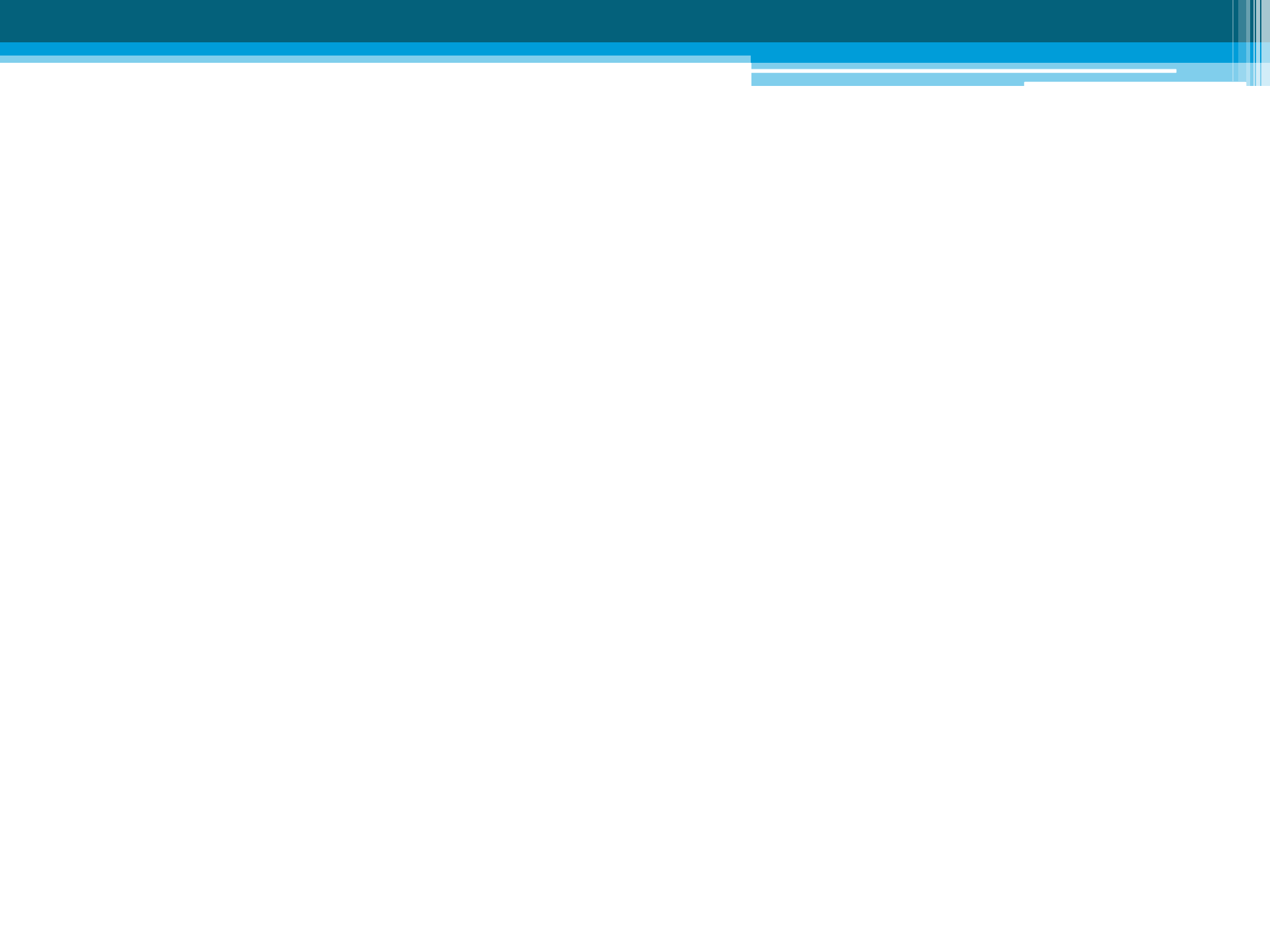
$$3 + 3 \neq 7$$

НЕВЕРНОЕ
УТВЕРЖДЕНИЕ


$$3 + 3 \neq 7$$

Физминутка для глаз





ЖИВОТНЫЕ, ОБИТАЮЩИЕ НА СУШЕ



1 вариант

4 суммы

$$\square + \square =$$

$$\square + \square =$$

$$\square + \square =$$

$$\square + \square =$$

2 вариант

5 разностей

$$\square - \square =$$

$$\square - \square =$$

$$\square - \square =$$

$$\square - \square =$$

$$\square - \square =$$

РАВЕНСТВА И НЕРАВЕНСТВА

верные

$$5 > 3$$

$$7 - 2 = 5$$

неверные


$$5 < / 3$$

$$7 - 2 \neq 4$$

**ДО ВСТРЕЧИ,
РЕБЯТА!
БУДЬТЕ
ОСТОРОЖНЫ
НА ДОРОГАХ!**



Верные и неверные
равенства и неравенства.

A decorative graphic element consisting of several horizontal lines of varying lengths and colors (light blue and white) extending from the right side of the slide.