

МАТЕМАТИКА

2 класс

УСТНЫЙ СЧЁТ



Математический диктант

Запишите результат.

1. Увеличьте 5 в 9 раз.

2. Число 4 умножьте на 3.

К полученному произведению добавьте 9.

3. Уменьшите на 9 число 27.

4. Во сколько раз 45 больше 5?

5. Какое число уменьшили в 3 раза и получили 8?

6. Число 9 умножьте на 9. Из полученного произведения вычтите 9.

7. Белка собрала **36 орехов**, а бельчонок **в 4 раза меньше**. Сколько орехов собрал бельчонок?



8. Бременские музыканты **за один день поют 6 песен**. Сколько песен они споют **за 5 дней**?



9. Торт **разделили на 18 кусков**. Разложили на тарелки **по 9 кусков** на каждую. Сколько потребовалось тарелок?



Проверь себя!

45, 21, 18, 9, 24, 72, 9, 30, 2

- **Посчитайте сколько примеров решили?
Оцени свою работу.**
- **Без ошибок**
- **1-2 ошибки**
- **3-4 ошибки**
- **5 ошибок и более**
- **Покажи смайлик**



Работа в парах (устно)

■ *Вопросы для знатоков природы*



Какая рыба без чешуи ?

4 x 5 : 2 x 3 : 5 x 4 : 3 + 14 - 13



Сом
9



Щука
36



Окунь
72

Древесина какого дерева не гниет, а со временем становится тверже? Внутренние детали Московского Кремля сделаны из этого дерева и служат уже 500 лет.

21 : 7 : 3 x 12 : 4 x 2 + 12 - 2 - 7



Ель

54



Сосна

81



Лиственница

9

Какой зверь самый чистоплотный?

32 : 8 x 4 : 1 : 2 : 4 x 5 : 2 + 4



Ёж

18



Заяц

45



Барсук

9

Физкультминутка



ПО КООРДИНАТАМ БУКВ ПРОЧИТАЙТЕ СЛОВО И
СКАЖИТЕ ЧЕМ БУДЕМ ЗАНИМАТЬСЯ НА УРОКЕ?.

4		о		и
3	п		в	
2		р		н
1	т		е	
	1	2	3	4

(1;3), (2;4), (3;3), (1;1), (2;4), (2;2), (3;1), (4;2), (4;4), (3;1).

П О В Т О Р Е Н И Е

Тема урока: Повторяем, что знаем

Цели:

**Использовать знания таблицы
умножения и деления для решения
примеров и задач.**



Проверка работы с доски

- Задача:
- Из 72 конфет сделали 8 одинаковых подарков. Сколько конфет потребуется, чтобы сделать ещё 10 таких подарков?



РАБОТА по вариантам

- Привезли - 40 л
- Разлили в 4б по – 8л
- Осталось- ?л
- Что нужно узнать сначала?
- Во сколько действий решается задача?
- **Взаимопроверка**



Проверяем решение

$40 - 8 \times 4 = 8(\text{л})$ осталось.

Ответ: 8 литров.

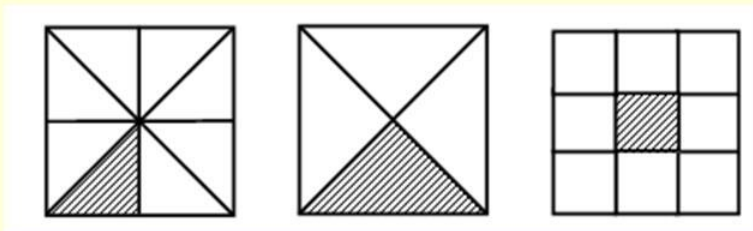


Физкультминутка



Работа в парах(устно)

Какая часть фигуры
заштрихована на рисунке?

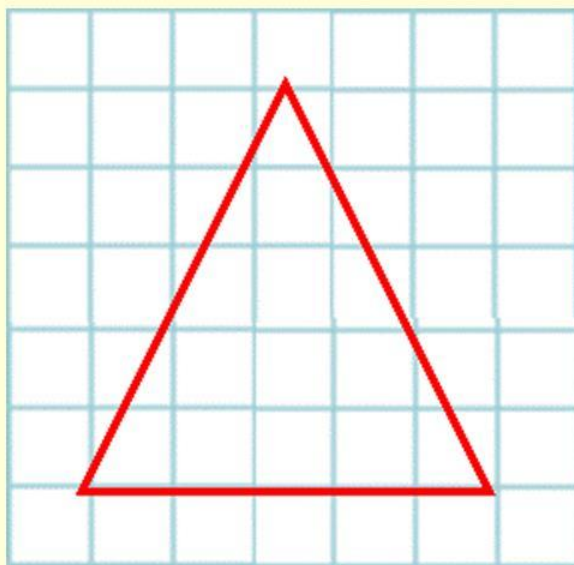


Работа в парах (устно)

- ***Геометрическая страничка***



Узнай сторону равностороннего треугольника,
если его периметр равен 27 см.



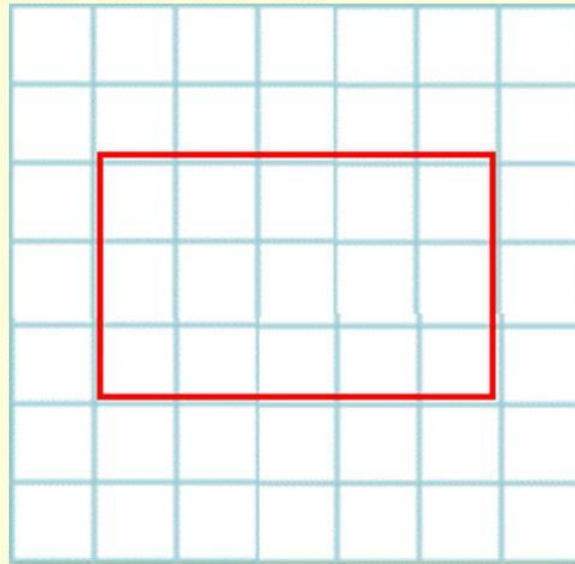
9 см

24 см

81 см

3 см

Найти площадь прямоугольника со сторонами 4см и 9см.



10см^2

36см^2

24см^2

48см^2

Задание: Начертите прямоугольник

$$a = 3\text{см} \quad b = 6\text{см}$$

- 1 вариант
- Найти площадь прямоугольника
- $S = a \times b$
- 2 вариант
- Найти периметр прямоугольника
- $P = a + b + a + b$

Проверь себя!

Оцени работу партнера.

$$S = 3 \cdot 6 = 18(\text{см}^2)$$

(см)

$$P = 3 + 6 + 3 + 6 = 18$$

- **Покажи смайлик**





Решение уравнений

Что называется уравнением?

Решить уравнение (устно)

$$7 \cdot X = 28$$



Решить уравнение (устно)

$$32 : x = 8$$



Самостоятельная работа

Решить уравнения

Проверь себя!

$$X=8$$

$$x=24$$

Оцени свою работу.

- Покажи смайлик



МОЛОДЦЫ !



Мое мнение об уроке

- Я работал на уроке...
- **Мне всё понятно!**
- У меня были затруднения.
- Мне надо стараться.





8×9

3×9

7×9

6×9

5×9

10×9

2×9

9×9

4×9

