

Распредели выражения в 2 группы  
и найди их значения

$12 - 5 =$

$13 - 9 =$

$8 + 3 =$

$9 + 5 =$

$6 + 7 =$

$14 - 8 =$

Распредели выражения в 2 группы  
и найди их значения

+

$9+5=$

$8+3=$

$6+7=$

-

$13-9=$

$12-5=$

$14-8=$

Распредели выражения в 2 группы  
и найди их значения

+

$$9 + 5 = 14$$

1      4

$$8 + 3 = 11$$

2    1

$$6 + 7 = 13$$

4      3

-

$$13 - 9 = 4$$

3      6

$$12 - 5 = 7$$

2    3

$$14 - 8 = 6$$

4      4

Отгадайте ребусы

по2л

подвал

с3жи

стрижи

40а

сорока

ли100к

листок

ко100чка

косточка

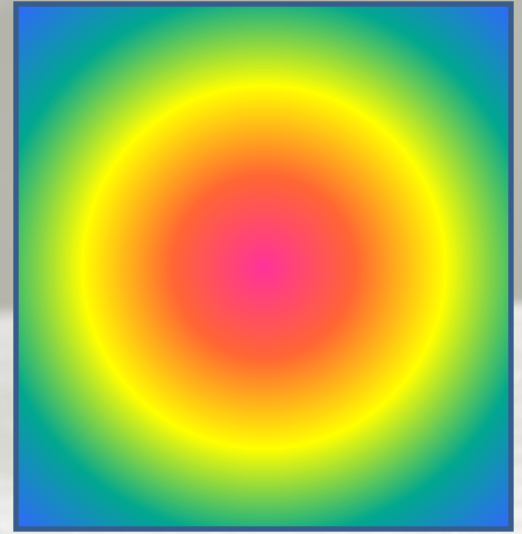

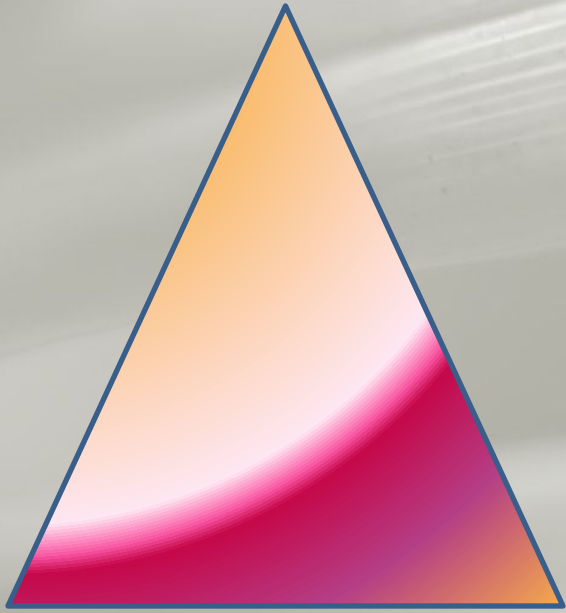
# Сравните выражения


$11-1 \quad \boxed{=} \quad 14-4$

$15-0 \quad \boxed{<} \quad 17-0$

$10+2 \quad \boxed{<} \quad 10+3$

$18+1 \quad \boxed{>} \quad 18-1$





# Задача

Маша - 9 п. ←  
Валя - ? п. б. ]

$$9 + 7 = 16 \text{ (п.)}$$

Ответ: 16 поделок сделал Валя.



A close-up, black and white photograph of a leaf with water droplets. The text is overlaid in red.

**Молодцы!**

**Спасибо за урок!**