






Открытый урок по математике





**«Закрепление
изученного
материала. Что
узнали? Чему
научились?»**



- Какая фигура лишняя?



- **Закрась все геометрические фигуры так, чтобы все высказывания стали верными для данного рисунка.**
 - 1) Все треугольники на рисунке красного цвета.**
 - 2) Если фигура синего цвета, то это четырёхугольник.**



1 см. = 10 мм.

1 дм. = 10 см.

1 м. = 10 дм.

1 м. = 100 см.



34	75	79	4	34	100	3	50
К	А	Н	И	К	У	Л	Ы

