

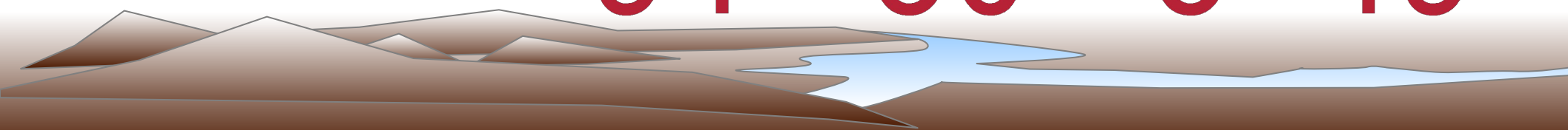
**Поставьте «+» или «-», чтобы  
равенства стали верными**

$$64 - 3 + 30 = 91$$

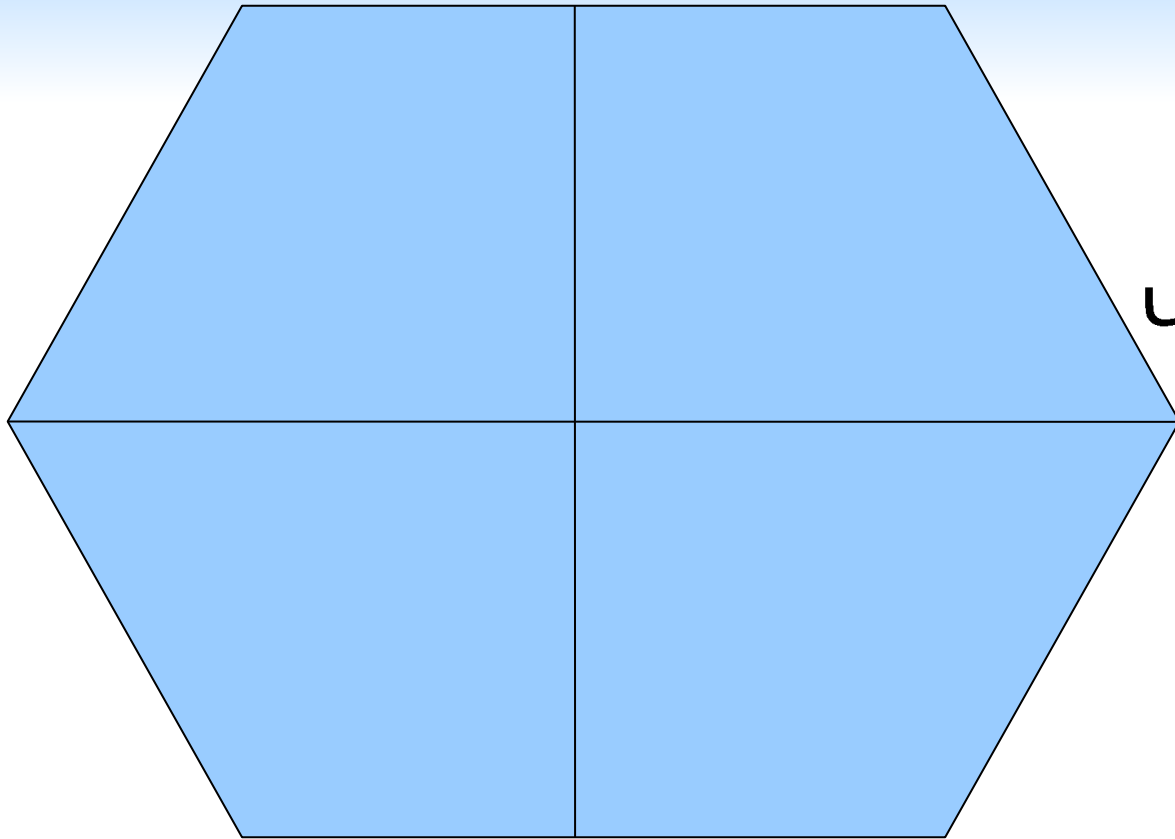
$$72 + 7 - 50 = 29$$

$$8 + 2 + 53 = 63$$

$$94 - 50 + 5 = 49$$



Какие геометрические изображены  
фигуры на рисунке?



Четырехугольников — 6

Пятиугольников - 2

Шестиугольников - 1

# Задачи в стихах

Дарит бабушка-лисица

Двум внучатам рукавицы:

– Это вам на зиму, внуки.

Рукавичек по две штуки.

Берегите, не теряйте!

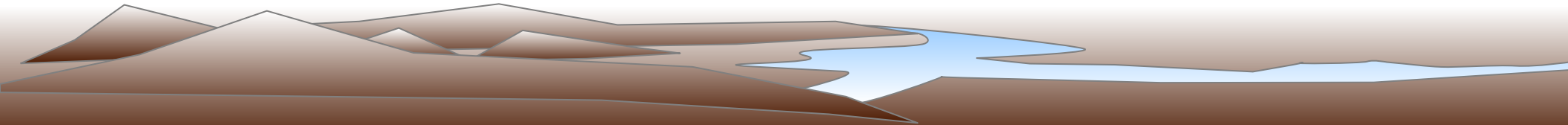
Сколько всех, пересчитайте!

У одной автомашины

Есть 4 автошины.

Сколько будет автошин

У 5 автомашин?



- Разность чисел 12 и 8 равна 2
- Сумма чисел 8 и 7 равна 15
- Если число 10 увеличить на 6, то получится 16
- Если число 15 уменьшить на 7, то получится 9
- 8 меньше 12 на 5
- 1 дм больше 1 см
- В 1 м 90 см
- В 1 м 100 см

# Какие слова зашифрованы в ребусах?

Р1а

За1ка

У1

При1

1ум

Об1

Родина

Заколка

Укол

Прикол

Разум

Образ

# Какие числа пропущены в равенствах?

$$1 \cdot 8 = 8$$

$$4 \cdot 1 = 4$$

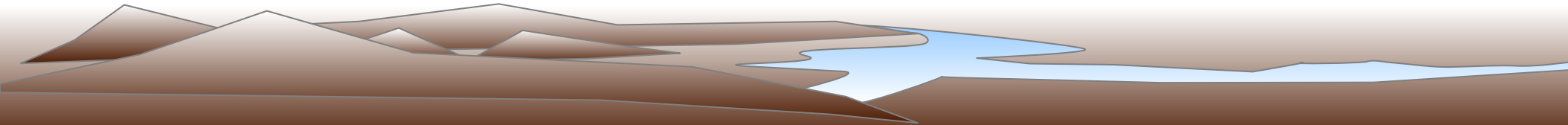
$$1 \cdot 9 = 9$$

$$5 \cdot 1 = 5$$

# Правило

1. Если первый множитель равен числу 1, то значение произведения равно второму множителю.

2. Если второй множитель равен числу 1, то значение произведения равно первому множителю.



$$1 \cdot 1 = 1$$

$$1 \cdot 2 = 2$$

$$1 \cdot 3 = 3$$

$$1 \cdot 4 = 4$$

$$1 \cdot 5 = 5$$

$$1 \cdot 6 = 6$$

$$1 \cdot 7 = 7$$

$$1 \cdot 8 = 8$$

$$1 \cdot 9 = 9$$

