




Лист самооценки



Оценка за урок: _____

СТРАНА ЗНАНИЙ





Устный счёт

72	40	6	7	35	20	81	3
----	----	---	---	----	----	----	---



72

40

6

7

35

20

81

3

И

С

П

Е

Ь


Л

Н

А

АПЕЛЬСИН





Мультфильм

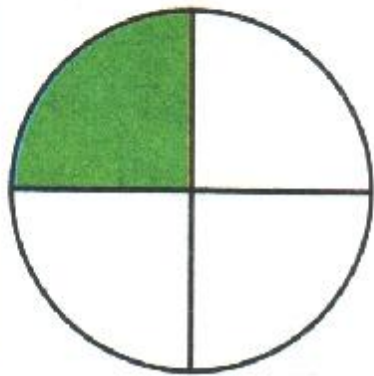
ФИЗМИНУТКА



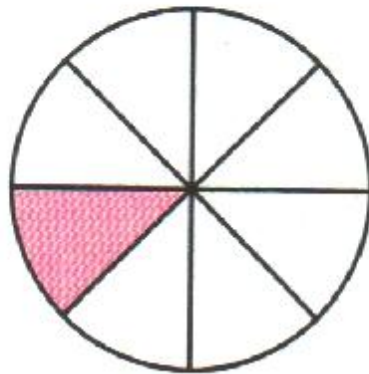


Карточка.

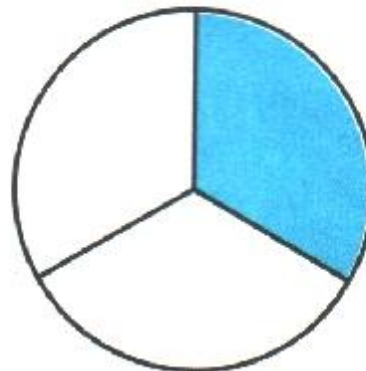
- Под каждым кругом запишите, какая доля круга закрашена.



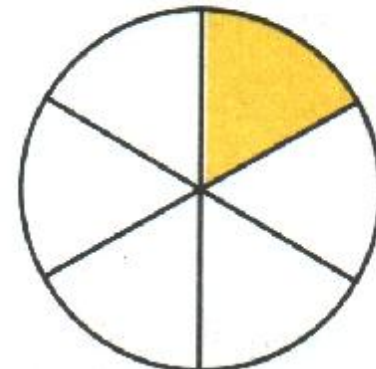
$\frac{1}{4}$



$\frac{1}{8}$



$\frac{1}{3}$



$\frac{1}{6}$

- Подчеркните, какая доля больше:

- одна четвёртая или одна восьмая,

- одна третья или одна шестая?



Разноуровневое домашнее задание.

1-й уровень: с. 92 №2.

2-й уровень: с. 93 №7, №8.

3-й уровень: с. 93 №6, №9.



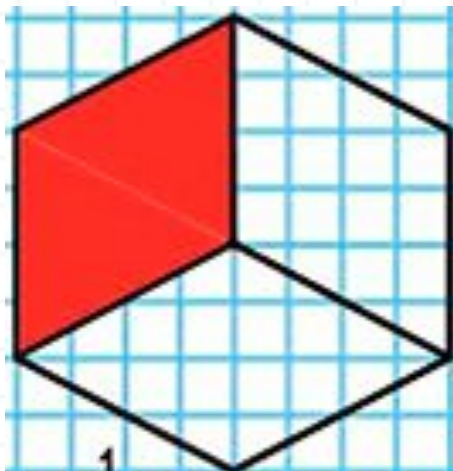
Рефлексия.

Закрась одну из частей круга.



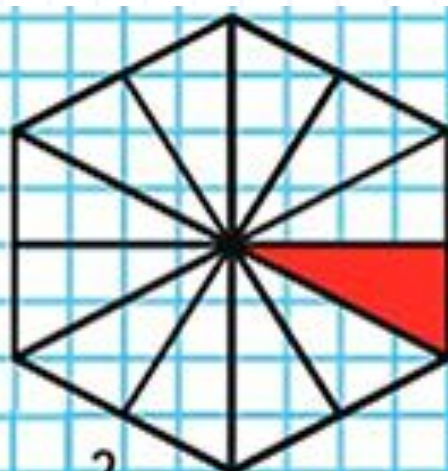


Проверка



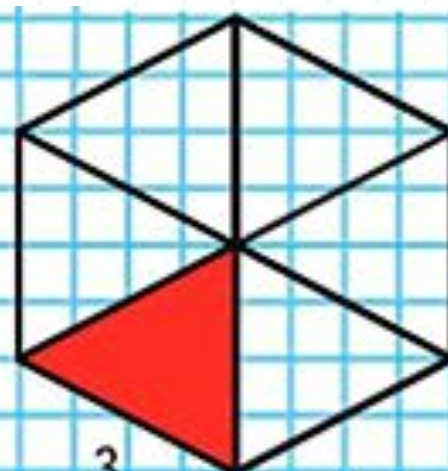
Лена

$$\frac{1}{3}$$



Оля

$$\frac{1}{12}$$



Таня

$$\frac{1}{6}$$