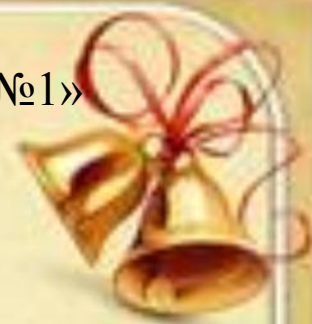


МБОУ «Кулундинская средняя общеобразовательная школа №1»  
Кулундинского района, Алтайского края



# Устная нумерация чисел в пределах 100

*Выполнила: Удовенко С.О.  
учитель начальных классов*





Шла лисица вдоль тропинки  
И несла грибы в корзинке:  
Пять опят и пять лисичек  
Для лисят и для лисичек.

**10**







В поле сестрички стоят,  
Желтые глазки на солнце глядят,  
У каждой сестрички – белые реснички.

**Ромашки**









**30, 20, 10, 90, 60, 70, 50, 40, 80**

**10, 20, 30, 40, 50, 60, 70, 80, 90**



Яблоки с ветки упали.  
Падали, падали, слёзы роняли,  
Таня в лукошко их собрала,  
В подарок друзьям своим принесла.  
Два Серёжке, три Антошке,  
Катерине и Марине,  
Оле, Свете и Оксане,  
Самое большое – маме.  
Говори давай скорей,  
Сколько Таниных друзей?





**11** – 1 десяток и 1 единица  
**12** – 1 десяток и 2 единицы  
**13** – 1 десяток и 3 единицы  
**14** – 1 десяток и 4 единицы  
**15** – 1 десяток и 5 единиц  
**16** – 1 десяток и 6 единиц  
**17** – 1 десяток и 7 единиц  
**18** – 1 десяток и 8 единиц  
**19** – 1 десяток и 9 единиц  
**20** – 2 десятка и 0 единиц





4 дес. ~~<\*~~ 4 дес. 2 ед.

5 дес. ~~<\*~~ 7 дес.

10 дес. ~~>\*~~ 9 дес. 9 ед.

3 дес. ~~>\*~~ 2 дес.





## Задача №3



Девочек – 7 чел.

Мальчиков - ? чел. на 2 чел. б.

$$7 + 2 = 9 \text{ (мал.)}$$

Ответ: 9 мальчиков вышли на прогулку.



## Задача №4

Девочек – 7 чел.

Мальчиков - ? чел. на 2 чел. м.

$$7 - 2 = 5 \text{ (дев.)}$$

Ответ: 5 девочек катались на карусели.





$7+5=12$

$9+8=17$

$90-40=50$

$14-4-3=7$

$8-6=2$

$16-9=7$

$60+30=90$

$13-9+8=12$

