


Сравнение многочисленных чисел

Математика

4 класс

Пылина
Тамара Леонидовна,
учитель начальных классов
МБОУ СОШ № 87
г.Екатеринбург



**Заливистый
школьный звонок
Позвал опять на урок.
Будьте все
внимательны,
А ещё старательны!**



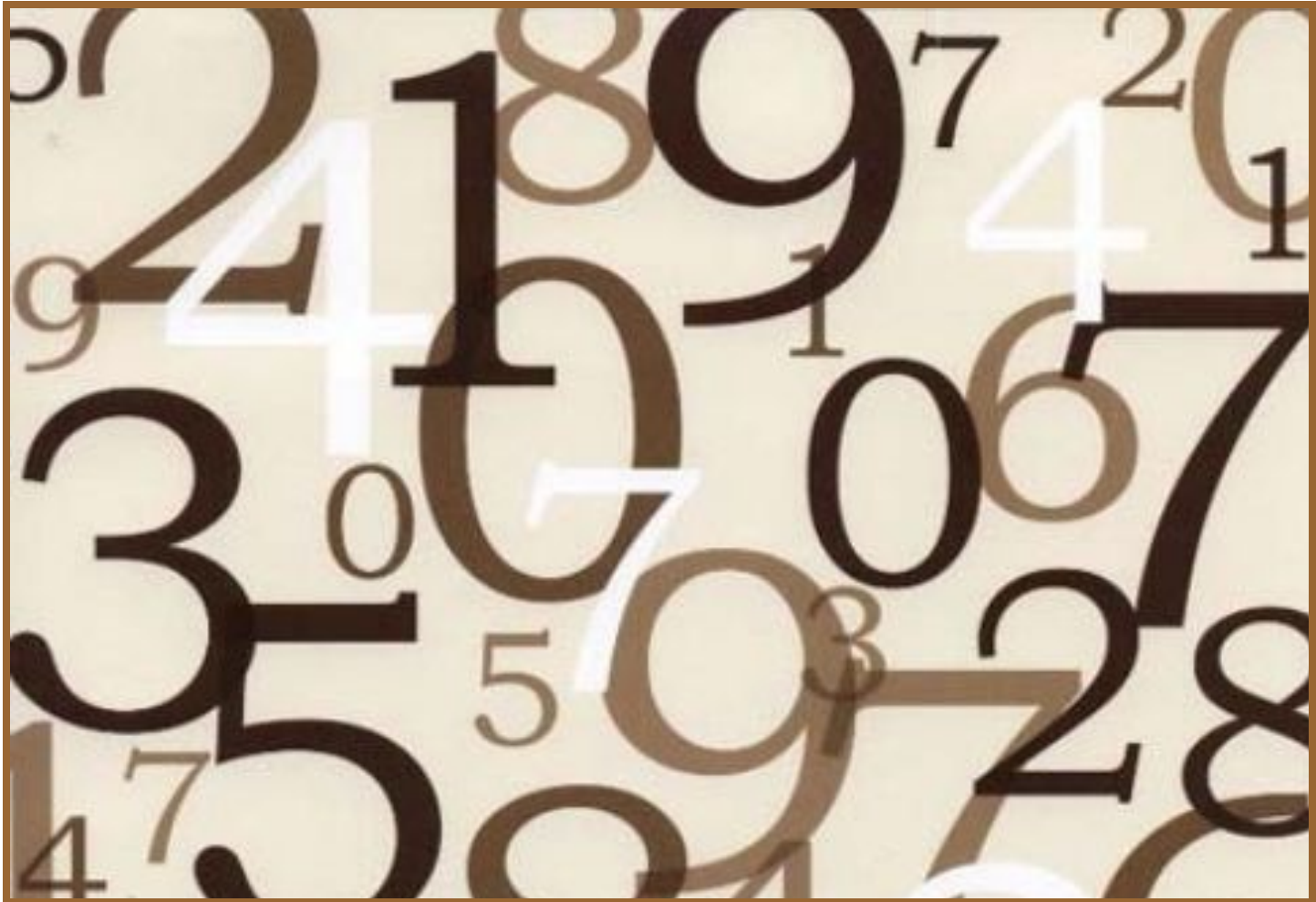
Арифметический диктант

1. Восемь тысяч;
2. сто двадцать четыре тысячи
пятьсот шестьдесят четыре;
3. четыреста двадцать пять тысяч;
4. сто двадцать три тысячи;
5. двадцать шесть тысяч;
6. триста шестьдесят пять тысяч сто;
7. три тысячи сто сорок шесть;

Арифметический диктант

7. три тысячи сто сорок шесть;
8. девять тысяч шестьдесят;
9. запишите число, предшествующее числу 70000;
10. запишите число, предшествующее числу 7000;
11. запишите число, следующее за числом 8000;
12. запишите число, следующее за числом 8999.

Самопроверка арифметического диктанта



Работа в тетради

$$7345 = 7000 + 300 + 40 + 5$$

$$20108 = 20000 + 100 + 8$$

$$134060 = 100000 + 30000 + 4000 + 60$$

$$800006 = 800000 + 6$$



Сравнение чисел

$$49 < 100$$

$$201 > 99$$

$$1111 > 888$$

$$300 < 2001$$



Сравнение чисел



$$276 < 726$$

$$1034 < 1037$$

$$38188 > 38168$$

$$174562 < 183001$$

Вывод... | вол



Порядок сравнения многозначных чисел

1. Проверяем количество разрядов в обоих числах: больше то число, в котором разрядов больше.

2. Если разрядов в числах одинаковое количество, то сравниваем количество единиц поразрядно, как только найден разряд с разным количеством единиц, устанавливается знак сравнения.

Физкультминутка

А сейчас все по порядку:
Встанем дружно на зарядку.
Руки в сторону согнули,
Вверх подняли и махнули.
Спрятали за спину,
Оглянулись через правое плечо,
Через левое ещё,
Дружно присели,
Пяточки задели.
На носочки поднялись,
Опустили руки вниз.



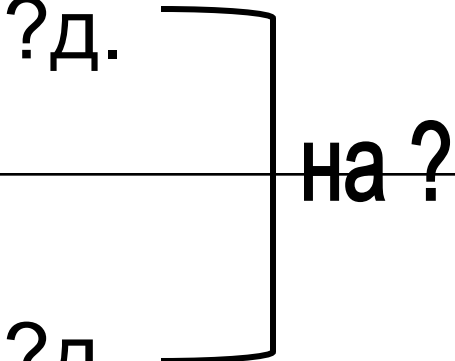
Работа с учебником



Работа с учебником



Задача

За 1 час деталей	Количество часов	Всего деталей
?д. 	7ч.	70д.
?д.	6ч.	42д.

Задача.

За 1 час деталей	Количество часов	Всего деталей
?д.] на ?	7ч.	70д.
?д.]	6ч.	42д.

1. Сколько деталей за 1 час делал рабочий?

$$70 : 7 = 10 \text{ (д.)}$$

2. Сколько деталей за 1 час делал ученик?

$$42 : 6 = 7 \text{ (д.)}$$

3. На сколько больше деталей вытачивает за 1 час рабочий, чем его ученик?

$$10 - 7 = 3 \text{ (д.)}$$

Ответ: на 3 детали больше в час делает рабочий.

Задача.

За 1 час деталей	Количество часов	Всего деталей
?д.	7ч.	70д.
?д.	6ч.	42д.

Handwritten annotations: A bracket on the left side groups the two rows of the table. A horizontal line is drawn under the first row, and a question mark with a dot (?д.) is written below it.

Сколько всего деталей вытачивают за 1 час рабочий и его ученик?

$$70 : 7 + 42 : 6$$

Домашнее задание



СПАСИБО ЗА РАБОТУ!