


Задача



15

15

Сколько вишен нужно
положить в пустую тарелку?



Не вычисляя, найди
лишнее выражение

$8-5$

$6-8$

$4-8$

$7-8$

$8-2$

$8-9$

$8:8$

$8-3$

$10-8$

Разделите выражения на группы

$45 : 5$

$26 : 5$

$35 : 6$

$49 : 7$

$63 : 9$

$28 : 9$

Игра “Помоги Незнайке”

Ребята, Незнайка просит вас помочь ему выбрать числа, которые делятся на 3 и на 4.



21, 12, 16, 7, 8, 9, 28, 27, 5, 30.

- Девочки выбирают те числа, которые делятся на 4;

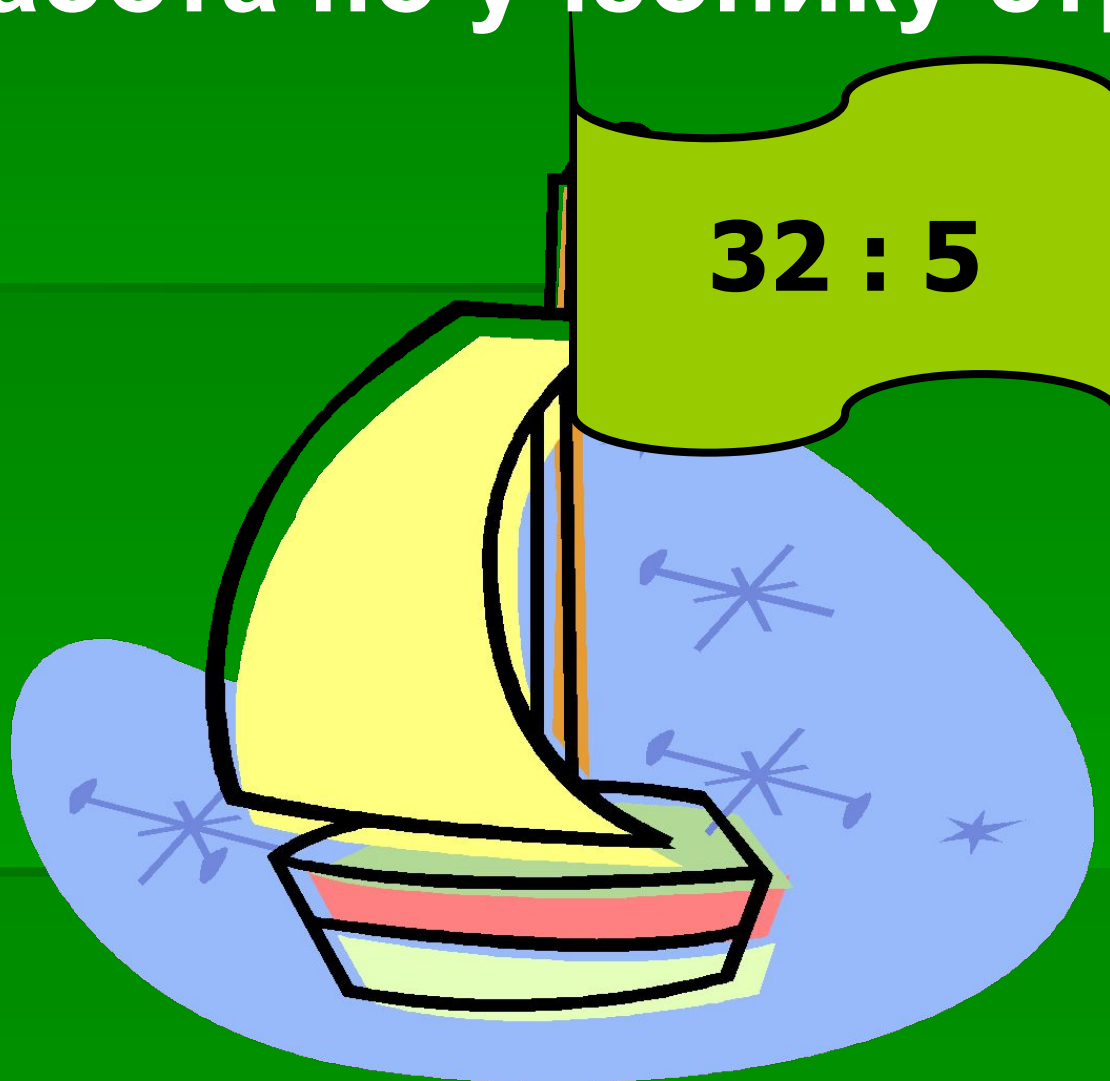
Мальчики – на 3.

- Какое самое большое число до 23 делится без остатка на 3? на 4? на 6? на 8? на 9?

Тема урока

Деление числа с остатком.

Работа по учебнику стр.26.





Встань и потянись вверх!

Сделай вдох и выдох!

Ещё раз!

Выполняй наклоны влево и вправо!

А сейчас делай зарядку!


Возвращайся к тренировке!

Попрыгаи!

Зажмурь глаза и посчитай до пяти!

Приседай!





	Норма сахара на 1 стакан КЛЮКВЫ	Количество стаканов КЛЮКВЫ	Количество стаканов сахара
Брат	<i>2ст.</i>	<i>18ст.</i>	? } ? }
Сестра	<i>2ст</i>	<i>6ст.</i>	? }

	Норма сахара на 1 стакан КЛЮКВЫ	Количество стаканов КЛЮКВЫ	Количество стаканов сахара
Брат	<i>2ст.</i>	<i>18ст.</i>	?
Сестра	<i>2ст</i>	<i>6ст.</i>	?

	Норма сахара на 1 стакан КЛЮКВЫ	Количество стаканов КЛЮКВЫ	Количество стаканов сахара
Брат	<i>2ст.</i>	<i>18ст.</i>	? } ? }
Сестра	<i>2ст</i>	<i>6ст.</i>	? }

Самостоятельная работа №6 (2ст.)

Ответы: 22, 44, 34.

Работа в парах

<u>1 ряд</u>	<u>2 ряд</u>	<u>3 ряд</u>
1.а	1.б	1.б
3.а	3.а	3.а



Выбери правильное утверждение по уроку:

1. Сегодня мы учились решать примеры на деление с остатком, но уже не используя рисунок.
2. Сегодня мы учились решать примеры на деление с остатком, используя рисунок.





Итог урока



- Домашнее задание:
- Стр.26 №6 (1 – 3 ст.), №5.
- Задание на смекалку
- Творческое задание: придумайте по два примера на деление числа с остатком.

