


ПАМЯТКИ ПО МАТЕМАТИКЕ


Филатова Валентина
Николаевна учитель
начальных классов





ВСЕГО

М



ВО ? СКОЛЬКО Б или М Б:М



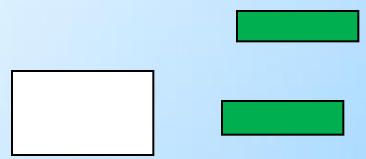
НА ? СКОЛЬКО Б или М Б-

БЫЛО -





ОСТАЛОСЬ -

БЫЛО -




СТАЛО +

- ? НА_



М-

- ? В



Б*

М:



ЦЕНА КОЛ-ВО
СТОИМОСТЬ

:

:

X

ПОРЯДОК ДЕЙСТВИЙ

- 1) **()**
- 2) **X** или **:**
- 3) **+** или **-**



уравнение

$$20-x=9$$

$$X=20-9$$

$$\underline{X=11}$$

$$20-11=9$$

$$X-8=9$$

$$X=8+9$$

$$\underline{X=17}$$

$$17-8=9$$

$$6+x=9$$

$$X=9-6$$

$$\underline{X=3}$$

$$6+3=9$$

$$3*x=9$$

$$X=9:3$$

$$\underline{X=3}$$

$$3*3=9$$

$$18:x=9$$

$$X=18:9$$

$$\underline{X=2}$$

$$18:2=9$$

$$X:3=9$$


$$X=9*3$$

$$\underline{X=27}$$

$$27:3=9$$



ПЛОЩАДЬ И ПЕРИМЕТР



$$S = A \times B$$

ПЕРИМЕТР

КВАДРАТА
 $P = A \times 4$

ПЕРИМЕТР

ПРЯМОУГОЛЬНИКА
 $P = (a + b) \times$

2

