

**Параллельные прямые.  
Признак параллельности  
прямых по равенству  
накрест лежащих углов**

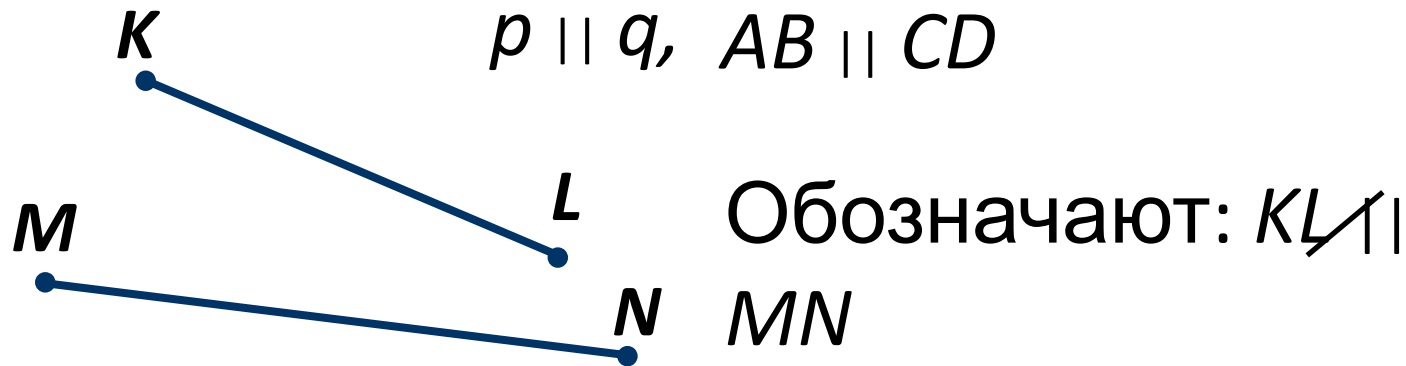
Две прямые называются  
**параллельными**, если они не  
пересекаются.

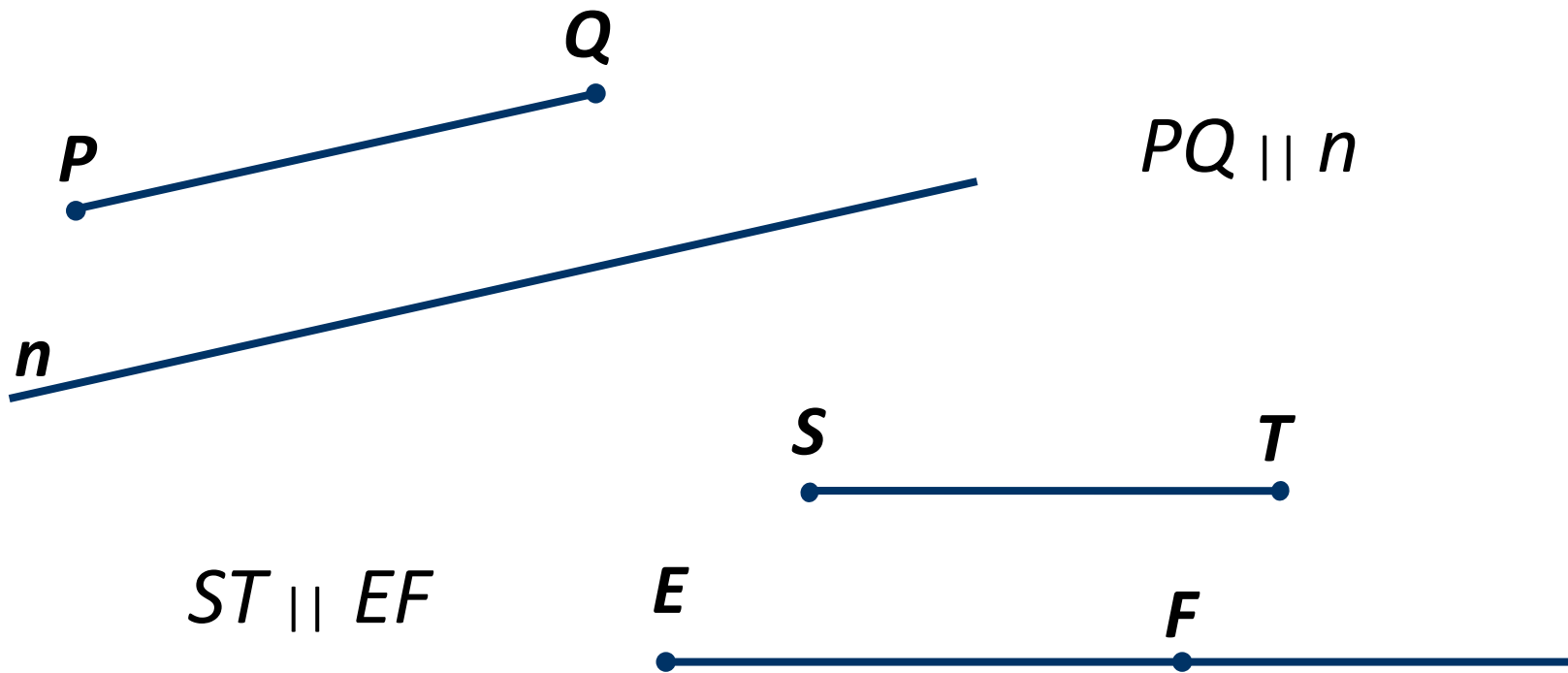


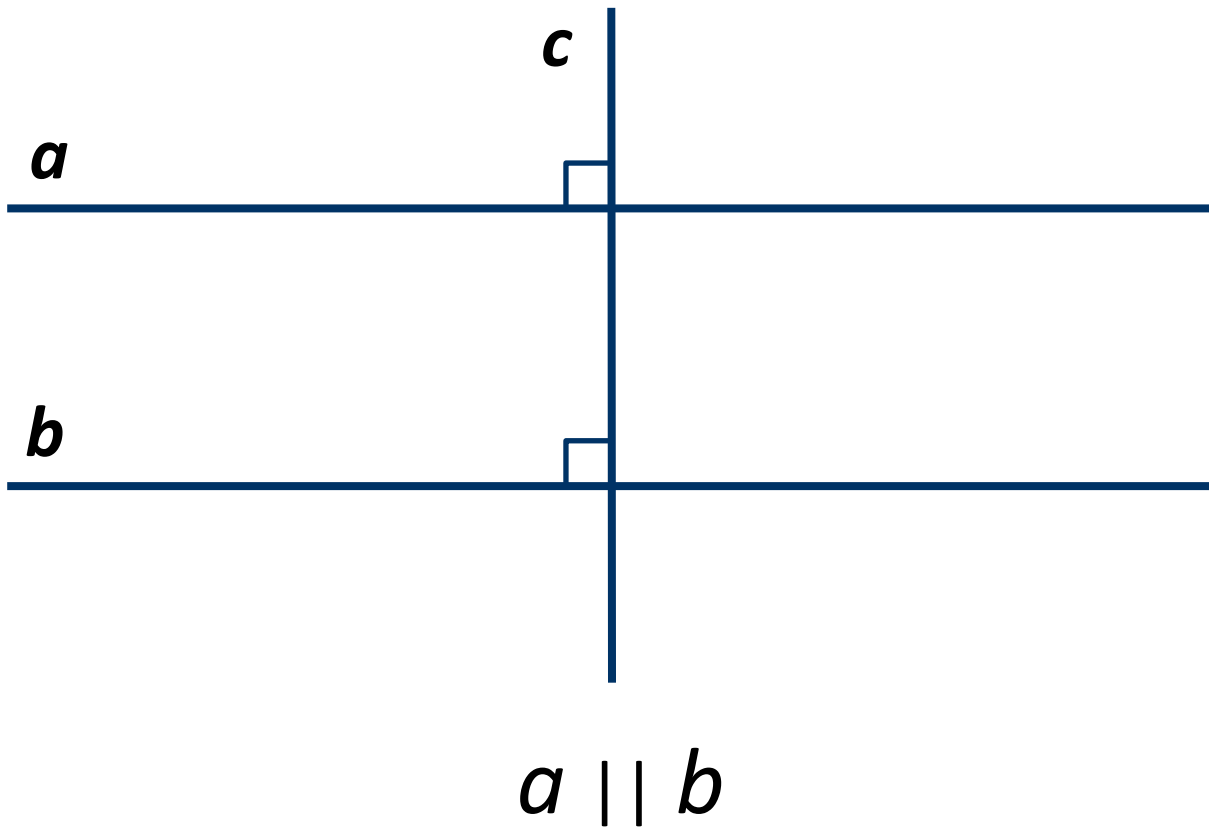
Обозначают:  $a \parallel$

$b$

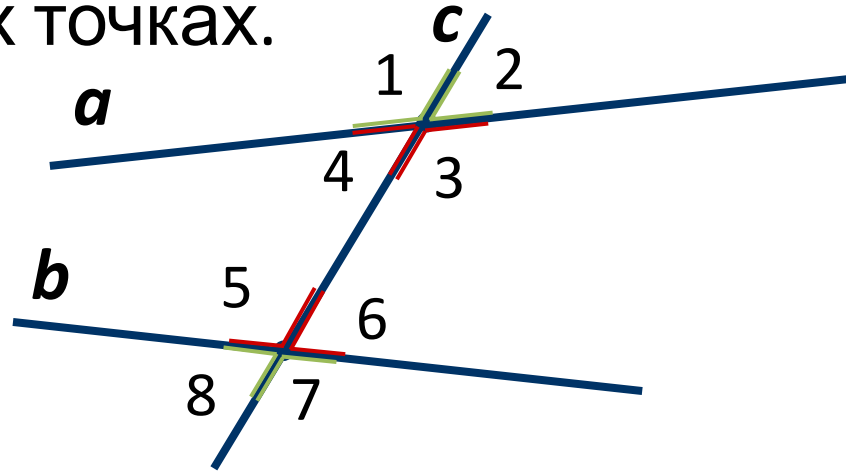
Два отрезка называются параллельными, если они лежат на параллельных прямых.



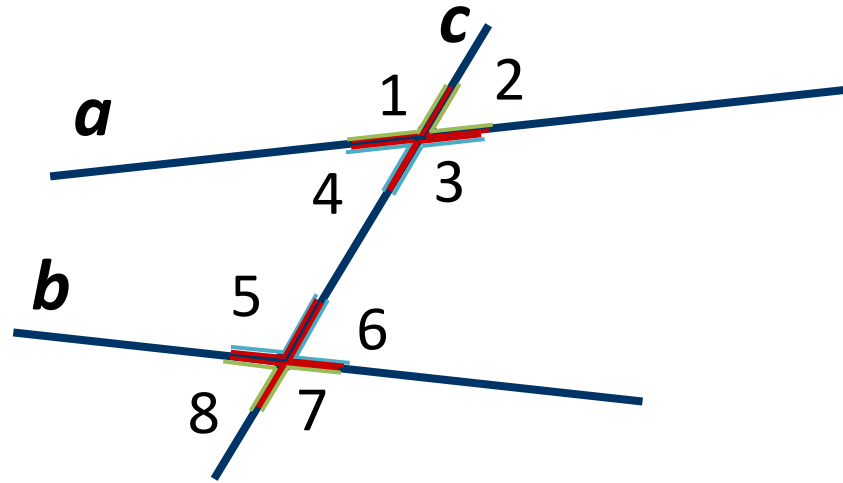




Прямая  $c$  называется секущей по отношению к прямым  $a$  и  $b$ , если она пересекает каждую из них в разных точках.



$\angle 3$  и  $\angle 5$ ,  $\angle 4$  и  $\angle 6$  – внутренние накрест лежащие  
 $\angle 1$  и  $\angle 7$ ,  $\angle 2$  и  $\angle 8$  – внешние накрест лежащие.



$\angle 1$  и  $\angle 5$ ,  $\angle 4$  и  $\angle 8$ ,  $\angle 2$  и  $\angle 6$ ,  $\angle 3$  и  $\angle 7$  –  
 $\angle 4$  и  $\angle 5$ ,  $\angle 3$  и  $\angle 6$  – внутренние  
 $\angle 2$  и  $\angle 7$ ,  $\angle 1$  и  $\angle 8$  – внешние  
 односторонние.

**Теорема.** Если при пересечении двух прямых секущей накрест лежащие углы равны, то прямые параллельны.

**Доказательств**

Пусть  $\angle 1 = \angle 2$  (накрест лежащие)  
 Если  $\angle 1 = \angle 2 = 90^\circ$ , то  $a \perp AB, b \perp AB$

Значит,  $a \parallel b$

Если  $\angle 1 = \angle 2 \neq 90^\circ$

Рассмотрим  $\triangle OCA$  и  $\triangle OC_1B$

$OC = OC_1$ ,  $\angle 1 = \angle 2$

Следовательно,  $\triangle OCA = \triangle OC_1B$  (по первому признаку)

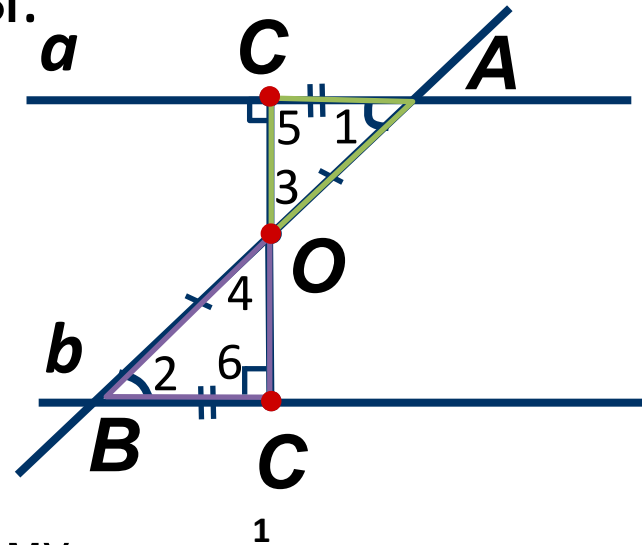
$\angle 5 = \angle 6$

Так как  $\angle 5 = 90^\circ$  и  $\angle 5 = \angle 6$

Получаем, что  $CC_1 \perp a, CC_1 \perp b$

Значит,  $a \parallel b$

**Теорема**



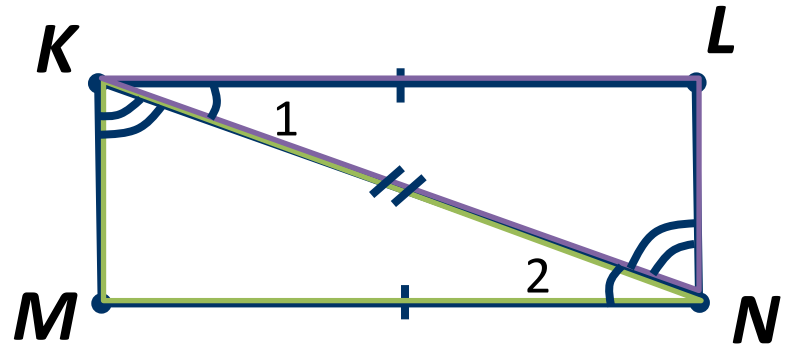


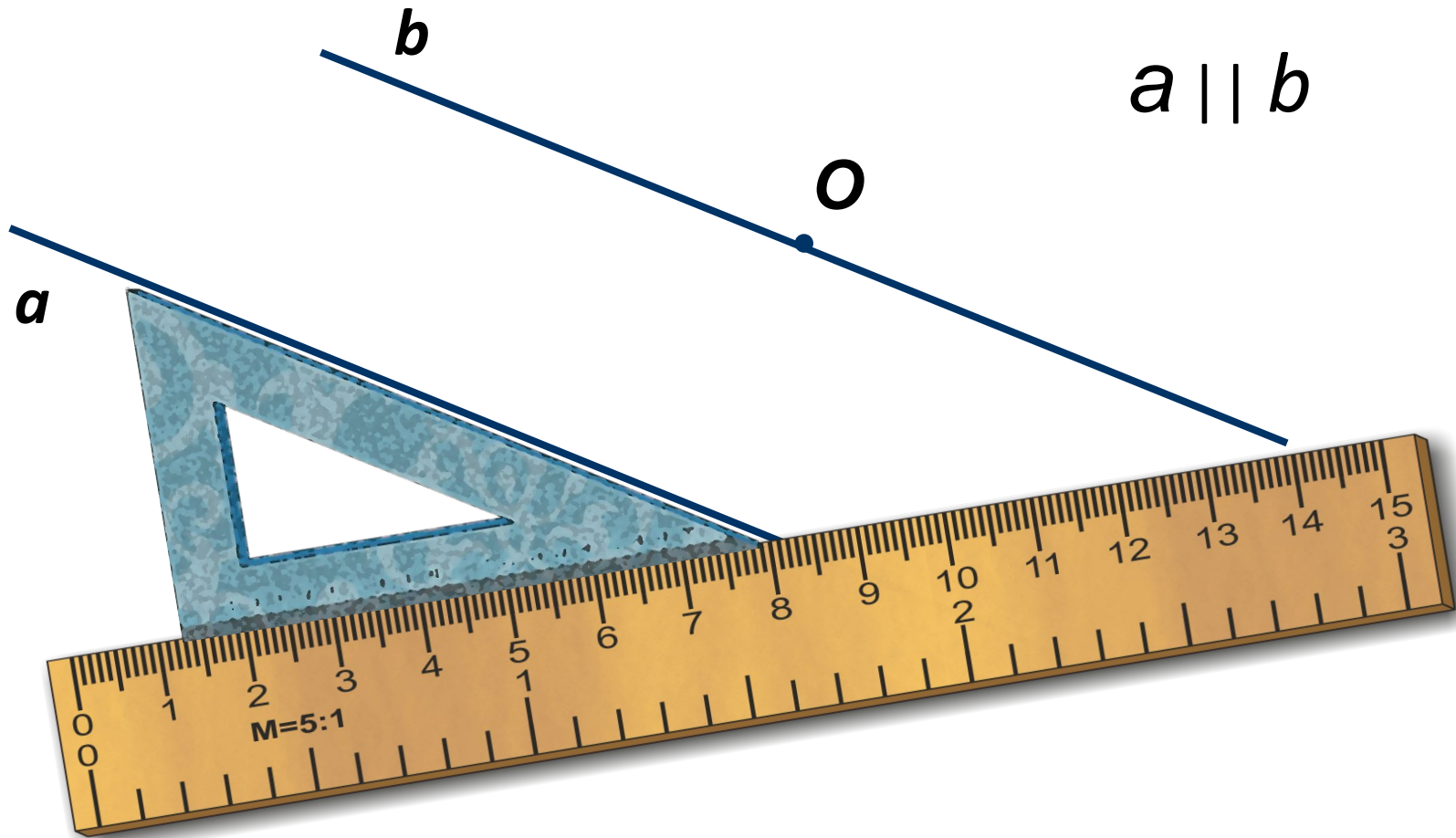
**Задача.** Докажите, что если два отрезка  $KL$  и  $MN$  равны и параллельны, то отрезки  $KM$  и  $LN$ , соединяющие их соответственные концы, параллельны.

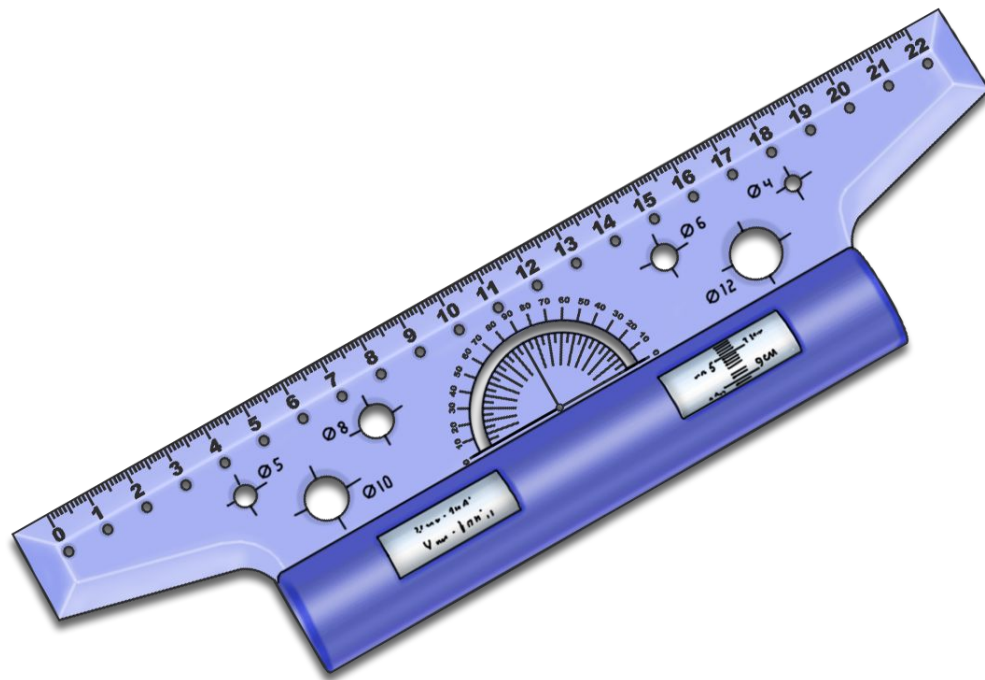
**Доказательство**

Рассмотрим  $\triangle KMN$  и  $\triangle KLN$ .

$KL = MN$ ,  
 общая сторона  $KN$  (как накрест лежащие),  
 $\angle KLN = \angle MNK$  (как накрест лежащие).  
 Тогда  $\triangle KMN = \triangle KLN$  (по первому признаку).  
 Следовательно,  $KM \parallel LN$ .







*Рейсшин*  
*a*



*Малк*

*a*