
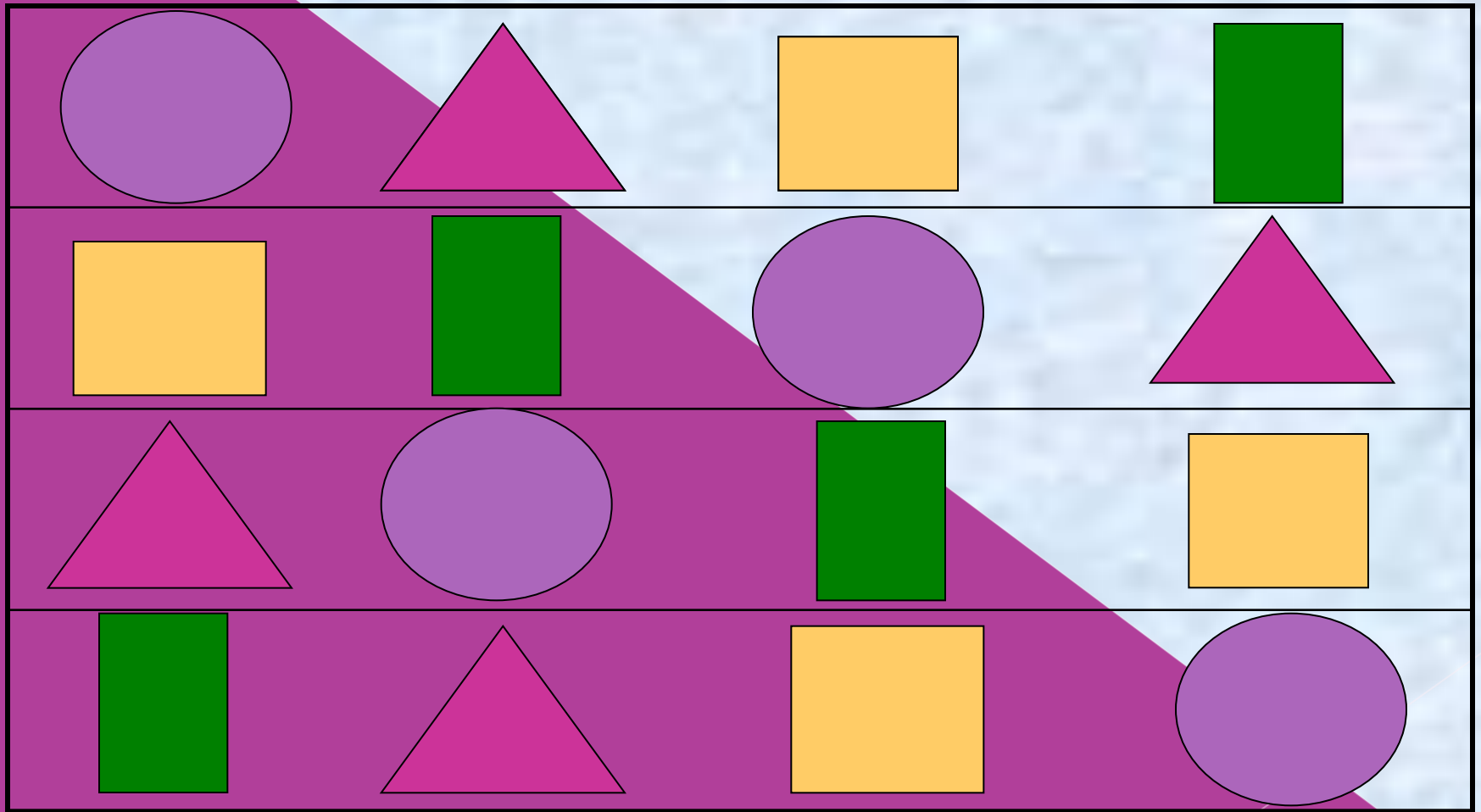


Математика.
2 класс.

Периметр
квадрата.

A red triangle graphic is located in the bottom right corner of the page.

Угадай на каждой полке недостающую фигуру



Напомните ,какое действие
выполняют сначала * или +,
если нет скобок.

$$2*4+1$$

$$4*4-6$$

$$2*5-1$$

$$4*5+14$$

$$3*8+5$$

$$4*8+19$$

$$3*6-4$$

$$5*2+4*2$$

Сколько дециметров в 40 см?

14 дм

4 дм

40 дм

Какое число надо записать в «окошко», чтобы равенство

$8 \text{ дм } 6 \text{ см} = \square \text{ см}$ стало верным?

80

68

86

Какова длина трёхзвенной
ломаной, если длина её
звеньев **7 см, 4 см и 5 см?**

11 см

16 см

12 см

Длина одного отрезка 5 см, а длина другого отрезка 13 см. На сколько второй отрезок длиннее первого?

на 6 см

на 18
см

на 8 см

Что можно вычислить по
этому выражению?

$$4+4+4+4$$

Нахождение длины
ломаной из
четырёх звеньев.

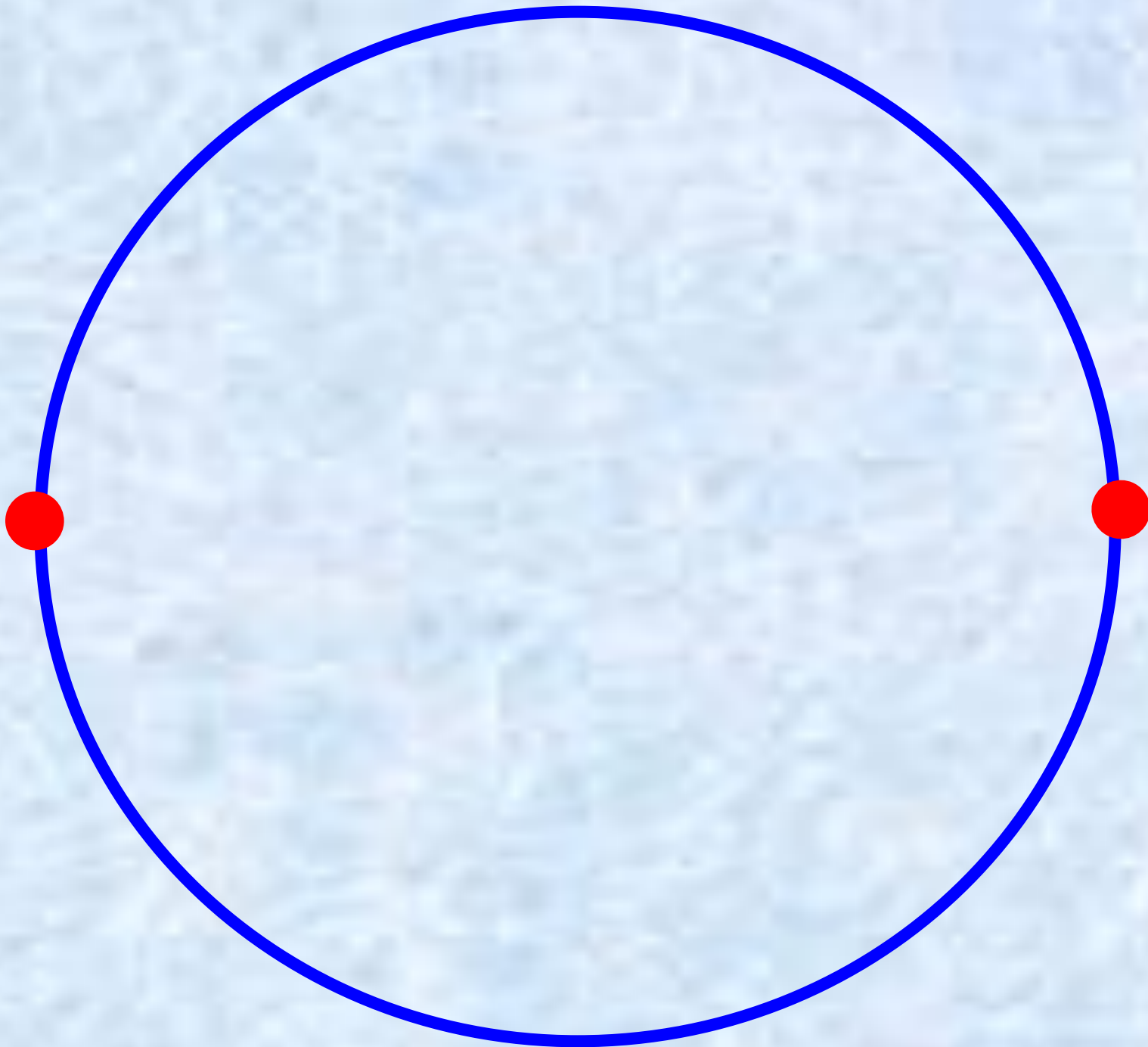
Решить задачу на
умножение.

Найти периметр
четырёхугольника

Что такое квадрат?



Зарядка для глаз











Учимся находить периметр
квадрата.

Стр.124 №1

№2

Выведем формулу.

$$P_{\blacksquare} = a + a + a + a$$


$$P_{\blacksquare} = a * 4$$

$$a = P : 4$$

Самостоятельная работа.



-стр.125 №7



-стр.125 №4

Домашнее задание.

Р.Т. Стр.55 №1,№2

