

**Математика пришла,**

**Занимай свои места.**

**Найди для головы полезное занятие!**

**Чтоб от безделья не зевать,**

**Полезно “ голову ломать”!**

СЧИТАЕМ  
УСТНО!



# Заполни таблицы:



<b>Уменьшаемое</b>	3	5	37	6	7	50	8	8	8	86
<b>Вычитаемое</b>	5	0	7	1	2	3	0	2	8	0
<b>Разность</b>	2	46	3	4	66	1	1	3	6	8
	33	4	0	50	6	8	3	7	0	6

<b>Слагаемое</b>	6	17	9	5	7	1	2	0	9	9
<b>Слагаемое</b>	2	2	39	5	60	0	4	2	3	4
<b>Сумма</b>	0	4	4	3	6	0	7	5	4	9
	80	0	8	7	7	79	0	25	5	4




# Помоги пчёлке!






# ПЕРИМЕТР прямоугольника



# Что такое периметр многоугольника?



- Сумма длин всех сторон многоугольника называется **периметром**.
- Периметр многоугольника обозначается заглавной буквой **P** латинского алфавита.



4 CM



3 CM

P - ?

$$P = 4 + 3 + 4 + 3 = 14 \text{ CM}$$

$$P = (4 \cdot 2) + (3 \cdot 2) = 14 \text{ CM}$$

$$P = (4 + 3) \cdot 2 = 14 \text{ CM}$$




# ПЕРИМЕТР прямоугольника





5 cm




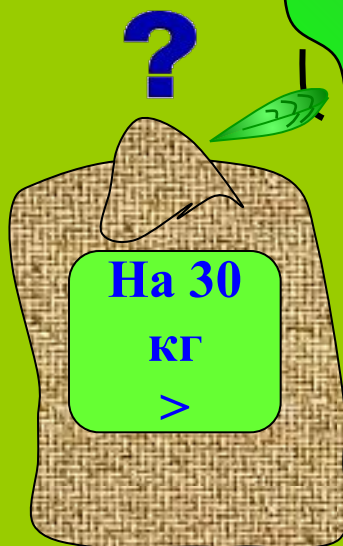

3 cm

P - ?

$$P = (5 + 3) \cdot 2 = 16 \text{ cm}$$



# Составь и реши задачу.



# РЕШИ ПРИМЕРЫ!



$46+23=$



69

$90-47=$



$23+17=$



$82-46=$



$40-16=$



$49-38=$



$65+35=$



$37+58=$





# РЕШИ ЗАДАЧУ!

На пасеке было 12 кроликов: 8



а остальные



Сколько было белых кроликов?

# ***Домашнее задание***

**СТР. 44 № 5, № 8**







МОЛОДЦЫ!



# Составь и реши задачу.





8 кр.



?

12 кр.