


13 декабря..
Урок математики.







IBU Open European
Championships
BIATHLON 2016
Tyumen

ГАЗПРОМ
МЕЖРЕГИОНГАЗ

Open European
Championships
BIATHLON 2016
Tyumen

IBU Open Eur
Champions
BIATHLON
Tyumen

ПРОМ
РЕГИОНГАЗ

АВ

Академия Вре
Часовая компания

IBU

ГАЗПРОМ


HTC

VW


Самара
Коллек

IBU Open
Champion
BIATHLO

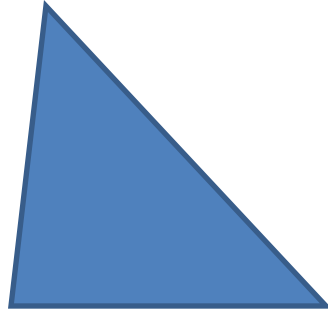





1




2



3



4



5



6

$$\begin{array}{r} 15 \\ + 14 \\ \hline \end{array}$$

$$\begin{array}{r} 59 \\ - 32 \\ \hline \end{array}$$

$$\begin{array}{r} 78 \\ + 22 \\ \hline \end{array}$$

1 вариант

2 вариант

83

64

47

6

80

63

23

41

$$40 - x = 6$$

$$x + 7 = 33$$

Выяснить
закономерность и
продолжить:

2 4 6 8 10

10 15 20 25 30

Исключить лишнее:

$$7 + 4 = 12$$

$$18\text{см} = 1\text{дм } 8\text{см}$$

$$18\text{кг} < 8\text{кг}$$

$$90 - 12$$

20 13 12 6 14 20 3

М 8+2 Л 22+8 Ы 34+36

Ц 20+40 О 33+7

О 15+5 Д 25+25

10 20 30 40 50 60 70

М О Л О Д Ц Ы



**МОЛОДЦ
Ы!**