


ШАР

Уч.С.9 №1




1. Какие предметы по форме похожи на шар?





2. На какую фигуру похожи: циферблат будильника, стёкла очков, пуговица?




Шар похож на круг




Куб похож на квадрат



Чем отличаются круг и квадрат?



?




by Dalmatek

Квадрат имеет углы



Это шары и кубики



Чем отличаются шар и куб?



Шар можно катать



by Dalmatek

Из кубика можно строить




**Чем круг отличается
по форме от шара?**

Круг плоский, а шар объёмный.



Чем квадрат отличается по форме от куба?

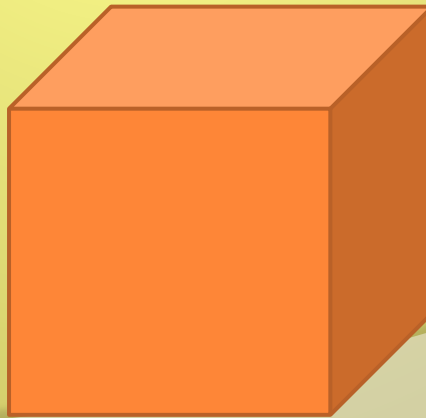

Квадрат плоский, а куб объёмный



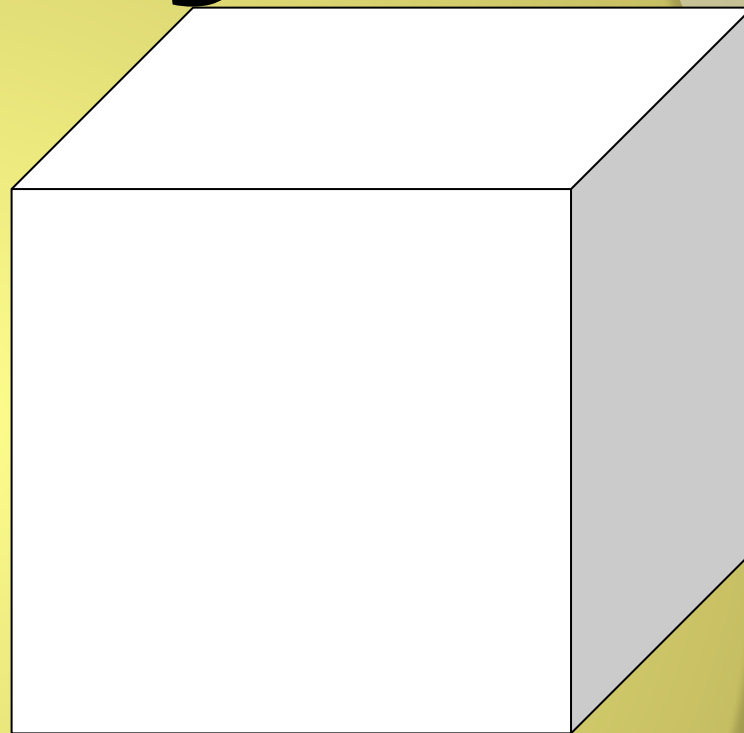

**Круг и квадрат - плоские
фигуры**




**Шар и куб – объёмные
фигуры**



Шар. Куб.

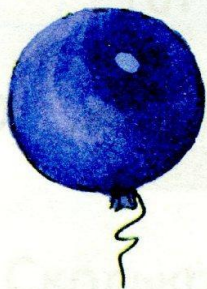


C.7 PT

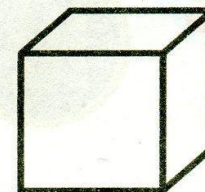
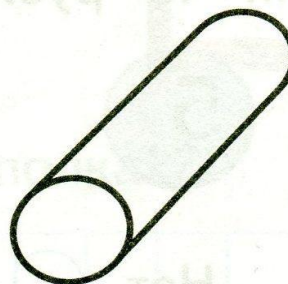
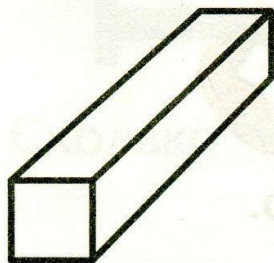


Шар. Куб.

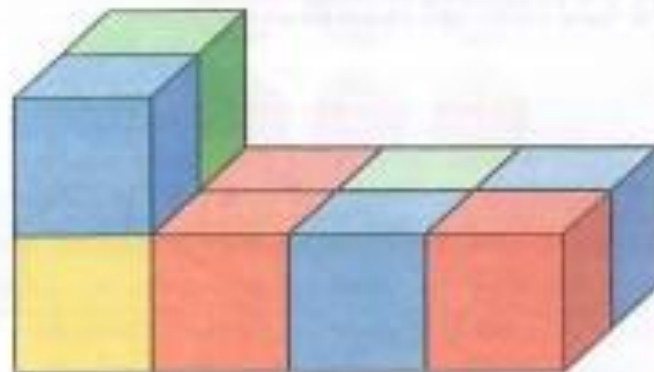
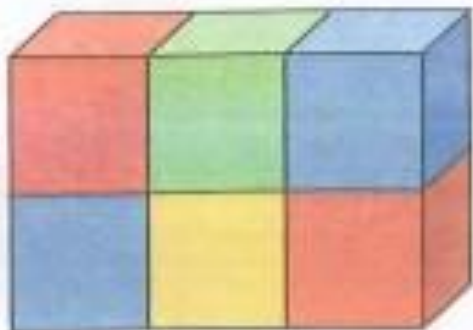
1. Какой предмет не похож на шар?



2. Найди и раскрась куб.



Из скольких кубов сложена каждая фигура?



Физминутка для глаз





Проверь ответы. Какие из них неверные?

$$2 + 7 = 9$$

$$4 + 6 = 8$$

$$1 + 8 = 9$$

$$3 + 9 = 11$$

$$1 + 4 = 5$$

$$4 + 9 = 12$$

Чем похожи и чем различаются записи?

$5 + 3$

$7 + 6$

$4 \cdot 2$

$6 \cdot 3$

$5 - 3$

$7 - 6$

$4 : 2$

$6 : 3$

Выполни вычисления.



by Dalmatck

РАБОТА В ПАРАХ
ИГРА « ОТКРОЙ ОКНО »

*У Димы 4 кубика, у
Тани 5 шариков.
Сколько всего
предметов у детей?*

Кошка в кубики играла,
Кошка кубик потеряла.
Закружилась голова...
Было три, осталось?



Выскажи свое

мнение

- Я узнал новую информацию
- Мне понравилось работать в паре
- Мне было трудно
- Задания были интересные
- Сегодня я узнал
- Я выполнял задания
- Теперь я знаю....
- Я смог...
- Я попробую...
- Меня удивило...
- Мне понравились ответы...

СПАСИБО!



by Dalmatek