


ПЛОЩАДЬ

Тест для учащихся 3 – 4 классов

Уровень 1

Уровень 2



Тест создан на основе шаблона,
взятого с сайта

http://www.nachalka.com/test_shablon

Источники



Результат теста

Верно:

Ошибки:

Отметка:

ещё

Время: 0 мин. 7 сек.

Выбери единицу измерения *площади*

СМ²

СМ

КГ²

Выбери верный ответ

Площадь фигуры – это величина, которая показывает, ...

... чему равна
сумма длин всех
сторон фигуры.

... чему равна
масса фигуры.

... сколько места
занимает фигура
на плоскости.

Выбери верное высказывание.

Чтобы найти **площадь** прямоугольника,
надо :

Длину и ширину
умножить на 2 и
результаты сложить

К длине прибавить
ширину

Длину умножить на
ширину

Длина прямоугольника – 5 см, ширина – 4 см. Чему равна его площадь?

9 см²

18 см²

20 см²

Чему равна длина прямоугольника, если его площадь 21 см^2 , а ширина 3 см ?

18 см

7 см

9 см

Длина комнаты 6 м, а ширина на 3м меньше. Чему равна **площадь ковра для этой комнаты?**

9 м²

18 м²

18 м

Площадь квадрата равна 36 см^2 . Чему равна *сторона* этого квадрата?

9 см

6 см

12 см

Найди **площадь** прямоугольника,
ширина которого равна 2 см, а длина
в 3 раза больше.

$$6 \text{ см}^2$$

$$12 \text{ см}^2$$

$$10 \text{ см}^2$$

**Какой из этих единиц *не* измеряется
площадь?**

СМ

М²

ДМ²

**Укажи определение площади, в котором
нет ошибок.**

Площадь фигуры – это величина, которая показывает, сколько места занимает фигура на плоскости.

Площадь фигуры – это величина, которая показывает, чему равна масса фигуры.

Площадь фигуры – это величина, которая показывает, чему равна сумма длин всех сторон фигуры.

Чему равна **площадь** прямоугольника, если его длина 7 см, а ширина на 3 см меньше?

28 см²

70 см²

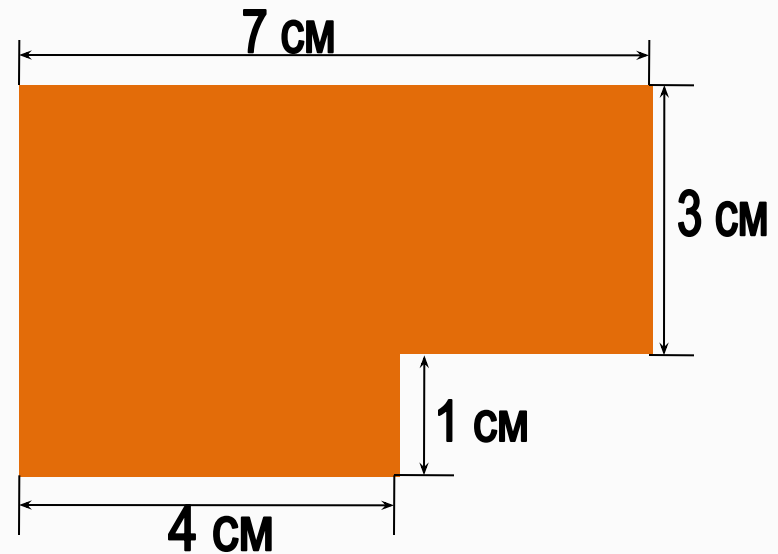
21 см²

Найди площадь этой фигуры

31 cm^2

25 cm^2

37 cm^2



Уровень 2

Чему равна **длина** стекла прямоугольной формы, если его площадь 8 м^2 , а ширина – 2 м ?

6 м

4 м

3 м

Ширина прямоугольника 4 см, а длина в 2 раза больше. Каждую сторону увеличили на 2 см. Чему равна **площадь нового прямоугольника?**

36 см²

60 см²

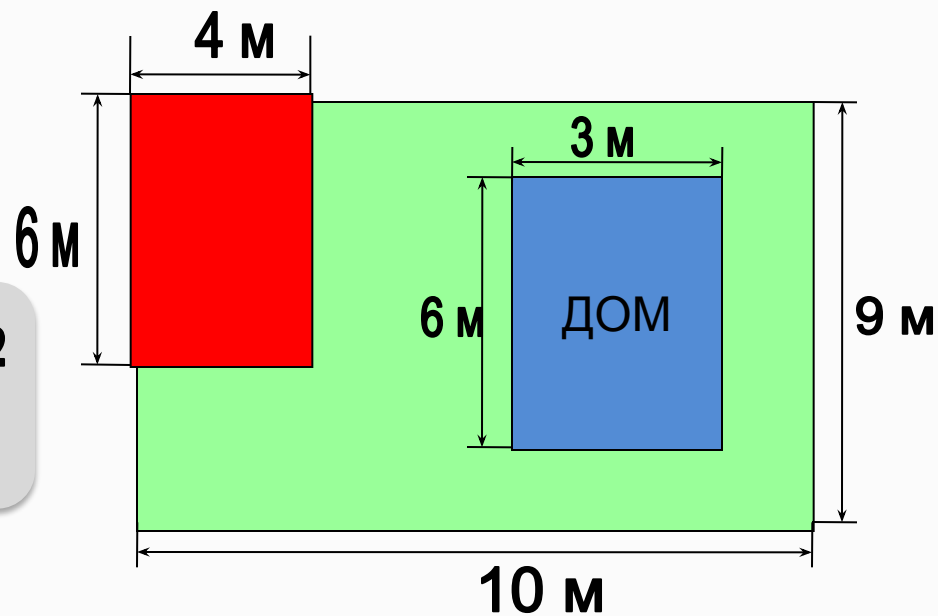
48 см²

Ты с друзьями ищешь клад . Красный участок показывает площадь, которую вы уже перекопали. Какую площадь сада **осталось** перекопать?

76 м²

48 м²

72 м²



Уровень 2

Реши задачу

	Длина	Ширина	Площадь
Прямоугольни к	8 см	? В 4 раза меньше	Одинако- вая
Квадрат	<u>? см</u>		

6 см

4 см

8 см

Источники, которые помогли создать тест



1. Шаблон для создания компьютерных тестов в PowerPoint
http://www.nachalka.com/test_shablon



2. Сайт «Методисты. Профессиональное сообщество педагогов.
Шаблоны для презентаций. Шаблон «shablon_deti.zip»
http://metodisty.ru/blogs/entry/shablony_prezentacii_dlya_nachalnoi_shkoly

3. Титульный слайд
Шаблон оформления в клетку с канцелярскими принадлежностями
<http://office.microsoft.com/ru-ru/templates/CT010142747.aspx?tl=2#ai:TC101908700>

4. Логотип «Началка» <http://www.nachalka.com/>

5. Логотип «Методисты» <http://metodisty.ru/>

