



Урок математики

Работа по учебнику

- 1 Чему равна масса котёнка в мышатах? А чему равна его масса в воробьишках? Сделай запись.



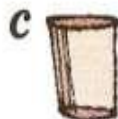
$$k = \square \text{ м}$$



$$k = \square \text{ в}$$

Какие единицы массы ты знаешь?

- 2 В банку входит 5 стаканов воды или 10 чашек воды. Чему равен объём банки в стаканах? В чашках? Сделай запись.



$$б = \square с$$

$$б = \square ч$$



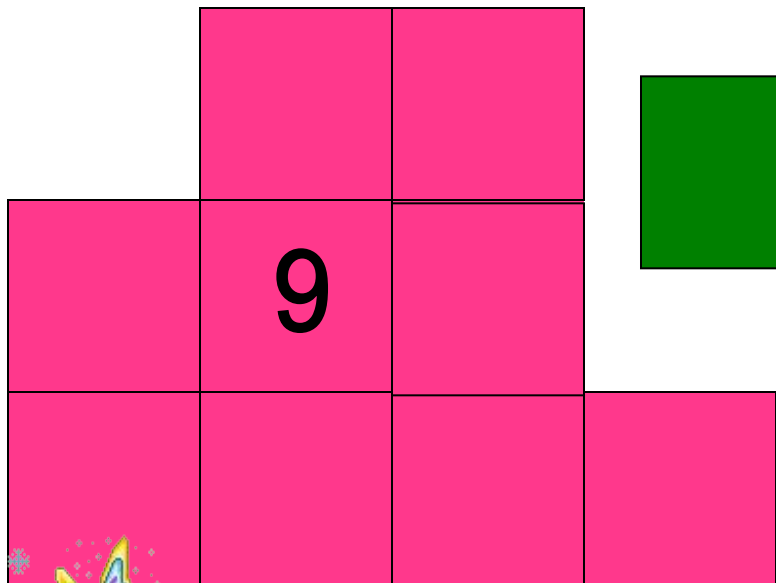
Какие ещё единицы объёма ты знаешь?

- Какие единицы длины ты знаешь?
- Измерь длину парты в ладонях, в дециметрах. Сделай запись.

n = л

n = дм





Площадь фигуры - величина

Одинаковые квадраты- единицы измерения (меры).

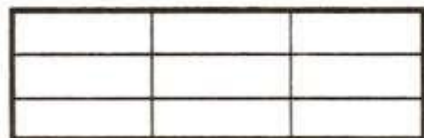
Полученные числа - меры величины.

Закрепляем изученное

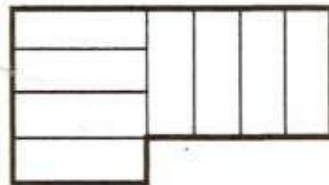
- 5 Измерь площади фигур a и b заданными мерками e и сравни их. Сделай запись по образцу:

$$a = 3e, \quad b = 4e \quad \Rightarrow \quad a < b$$

a)



a



b

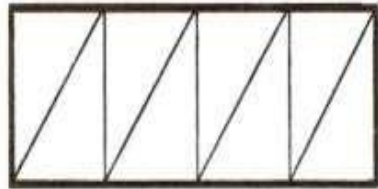


e

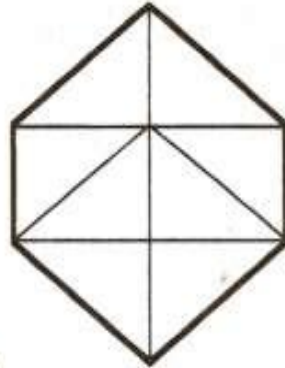


$$a = 9e, \quad b = 8e \quad \Rightarrow \quad a \square b$$

6)



a



b



e

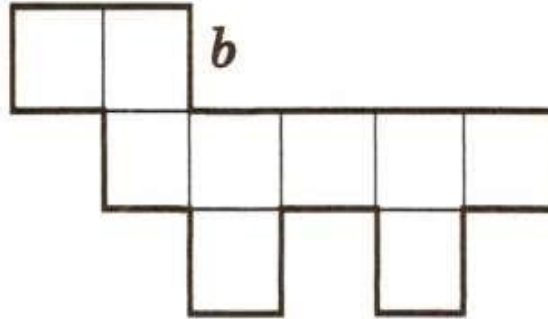


$$a = \square e, \quad b = \square e \quad \Rightarrow \quad a \square b$$


B)



a



b



e



$$a = \square e, \quad b = \square e \quad \Rightarrow \quad a \square b$$

Молодцы!



Подготовила
учитель начальных классов
МБОУ «СОШ № 9» г. Елизова
Голубцова Елена Николаевна