




МБОУ «СОШ №50»
урок математики в 4
классе по программе
«Перспективная
начальная школа»
учитель: Н.Ю.
Грошевская



«Математика – гимнастика УМа»



Александр Васильевич Суворов



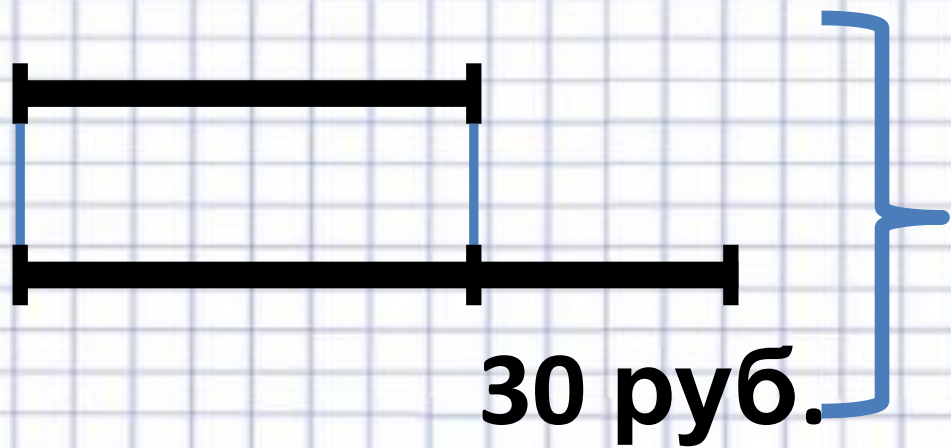
Домашняя задача

**При покупке футбольного и
волейбольного мячей
заплатили 250 рублей.
Футбольный мяч на 30
рублей дороже
волейбольного. Сколько
стоит волейбольный мяч?**



В.м.

Ф.м.



240 руб.


30 руб.



Решение задач с помощью уравнений



***X - цена волейбольного
мяча;***





x - цена волейбольного мяча;
 $(x+30)$ – цена футбольного мяча;





$x + (x+30)$ - стоимость
футбольного и
волейбольного мячей





$$x + (x + 30) = 250$$



МОЛОДЦЫ!
СПАСИБО ЗА УРОК)

