

СП ГБОУ СОШ №10 ОЦ «ЛИК» Детский сад №17 г.о.
Отрадный

«По тропе любимых сказок»

(математическая сказка)







Подготовила: Жукова Л.
А.

Отгадай загадки о сказках



Подумай и скажи: сколько рыбок необходимо поместить в третий аквариум



Посчитай: сколько фруктов и сколько овощей
предлагает нам Чиполлино

ФРУКТЫ

ОВОЩИ



0 1 2 3 4 5 6 7 8 9

**Пчелка Майя любит отдыхать на самом
большом цветке. Назови какого он
цвета.**



Выбери подходящий карандаш:


не синий и не желтый, не самый длинный
и не самый короткий.






В каком по счету зеркале правильное отражение Красной Шапочки?



Продолжи ряд



Сколько ушей у трех мышей?



Сколько лап у двух медвежат?





МОЛОДЕЦ!

