

Столько же и еще...

Столько же, но без...

Урок математики в 1 «Б» классе

УМК «Перспектива»

Мостовщикова О.А.

МОУ «СОШ №5 город Саратов

Чистописание

Какое число пропущено?

1, 2, 4, 5, 6, 7, 8, 9, 10

3

Собери число 10

7	3	5	2
4	9	1	3
8	2	5	8
4	5	5	2
3	9	6	4
2	1	0	10



Собери число 10 (проверка)

7	3	<input type="text"/>	<input type="text"/>
<input type="text"/>	9	1	<input type="text"/>
8	2	<input type="text"/>	<input type="text"/>
<input type="text"/>	5	5	<input type="text"/>
<input type="text"/>	<input type="text"/>	6	4
<input type="text"/>	<input type="text"/>	0	10



Сутробы

$$6 > 7$$

$$3 < 5$$

$$6 > 4$$



$$5 - 4 > 6 - 2$$

$$8 = 0 + 8$$

$$4 < 2$$

$$8 > 3$$

Загадки



Реши цепочки

$$4+5-2+3-2-2 =$$

$$10-5+4-3+2-4 =$$

$$8+2-5+2-3+2-3 =$$

Реши цепочки

9 7 10 8

$$4 + 5 - 2 + 3 - 2 - 2 = 6$$

5 9 6 8

$$10 - 5 + 4 - 3 + 2 - 4 = 4$$

10 5 7 4 6

$$8 + 2 - 5 + 2 - 3 + 2 - 3 = 3$$

ОТДОХНЕМ

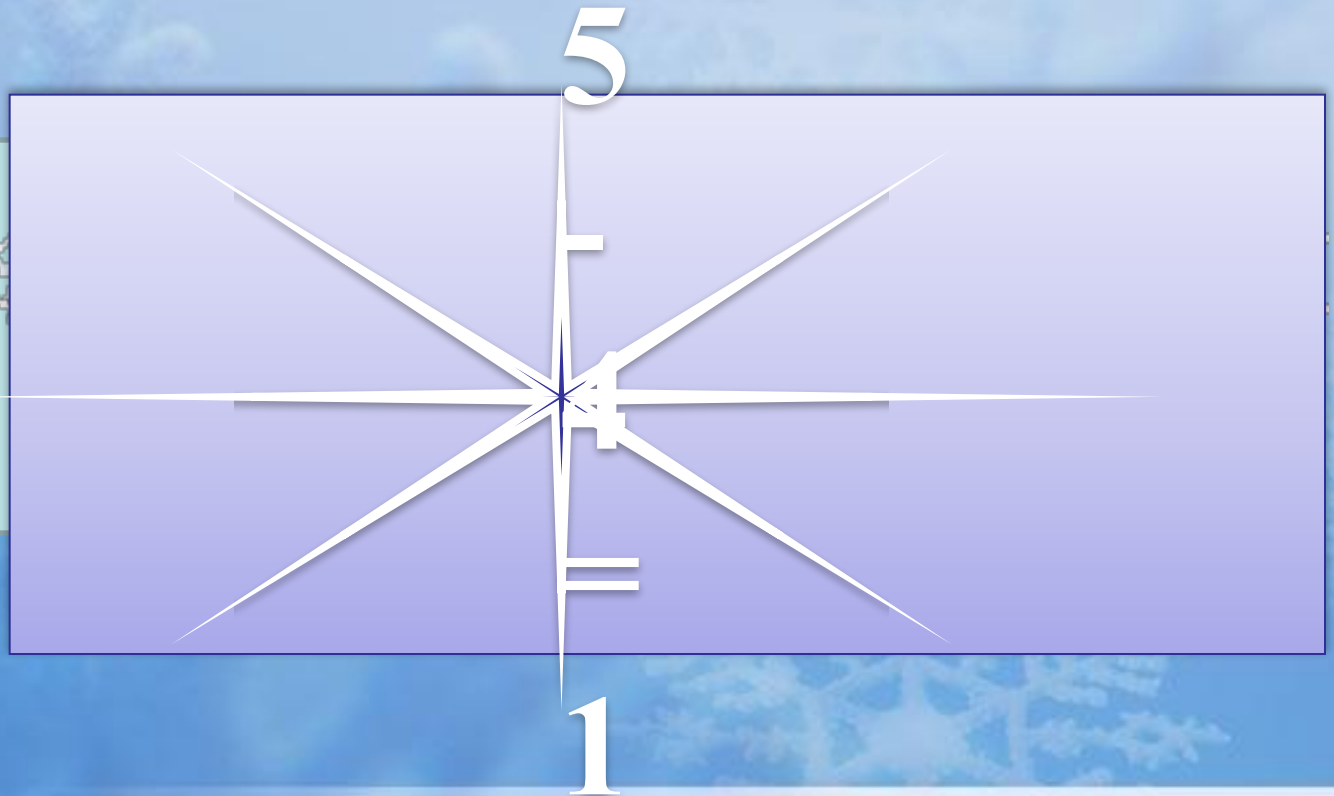


Проверь

7	6	1	4	2
10	9	4	7	5
6	5	0	3	1




Задача



Задача



6



**На 2
больше**

Начерти



Наряди ёлочку



