

Шишкина Светлана Викторовна МБОУ «СОШ №9»
г.Ангарск

ТЕМА: «ПОВТОРЕНИЕ ДЕЙСТВИЯ
СЛОЖЕНИЯ»

ПОДЧЕРКНИТЕ В КАЖДОЙ СТРОКЕ
ТОЛЬКО ТЕ, КОТОРЫЕ РАВНЫ РАЗНОСТИ
ДВУХ ДРУГИХ

2, 7, 5

4, 8, 4

1, 0, 1

1, 4, 4

6, 3, 3

3, 4, 5

3, 1, 5

6, 6, 3

3, 2, 1

4, 8, 4

2, 7, 5

6, 6, 6

2, 4, 4

3, 3, 0

10, 8, 2

4

- 3

+ 4

7

8

+ 5

- 2

2

- 4

6

4

3

5

9

6

 $3 + 6$

$4 + 0$

$7 - 2$

$8 - 2$

$8 - 4$

$9 - 4$

$1 + 5$





$7 + 2$





Navinka для gotovim-doma.ru





ФИЗКУЛЬТМИНУТКА



Вычислите:

$5 + 7$

$12 + 8$

$13 - 4$

$3 + 4$

$7 + 9$

$15 - 6$

$12 - 8$

$7 + 9$









$8 + 6$

$11 - 2$



$12 - 3$

$17 - 9$

ПРОДОЛЖИТЕ РЯДЫ:



У Саши 5 длинных карандашей и 8 коротких. Закрасьте синим цветом длинные карандаши, а жёлтым – короткие, если каждый карандаш обозначен треугольником.



□ http://www.spim.ru/info/page_525_22.html

<http://www.calorizator.ru/product/fruit/apple>

http://nnm.ru/blogs/steves/obezyana_s_bananami/

<http://ru.wikipedia.org/wiki/%D0%91%D0%B5%D0%BB%D0%BA%D0%B0>