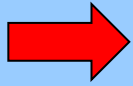


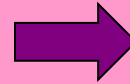
Решай примеры и ты узнаешь, кого ищет мальчик.



No1




No2

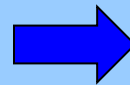


No3

No4



No5



No6

40-16=

34 56 24





No2

No3

No4

No5

No6

7+93=

100

86

99





No3

No4

No5

No6

78-30=

100

58

48

98



No4

No5

No6



$$100 - 25 =$$

55

80

75

85



№5

№6

62+9=

53 71 72 76





No6



75-9=

74

61

84

66





Попробуй еще раз

