

# Повторение по теме: "Натуральные числа"



**6 класс**  
**Часть 1**



Незнайка плохо умеет решать некоторые упражнения.




**Давайте  
объясним ему  
их решение!**





*Помогите Незнайке  
определить неизвестное  
число. Как Вы его получили?*



**21**

**20**

**19**

*Кликните мышкой на нужное число.*

*Если верно, то число займет свое место, а неверный ответ улетит из слайда*



*Помогите Незнайке  
правильно назвать порядок  
действий в примере.*

$$32 + 204 \cdot (739 - 147) : 8$$

*Сложение .....*

4

*Умножение .....*

2

*Вычитание .....*

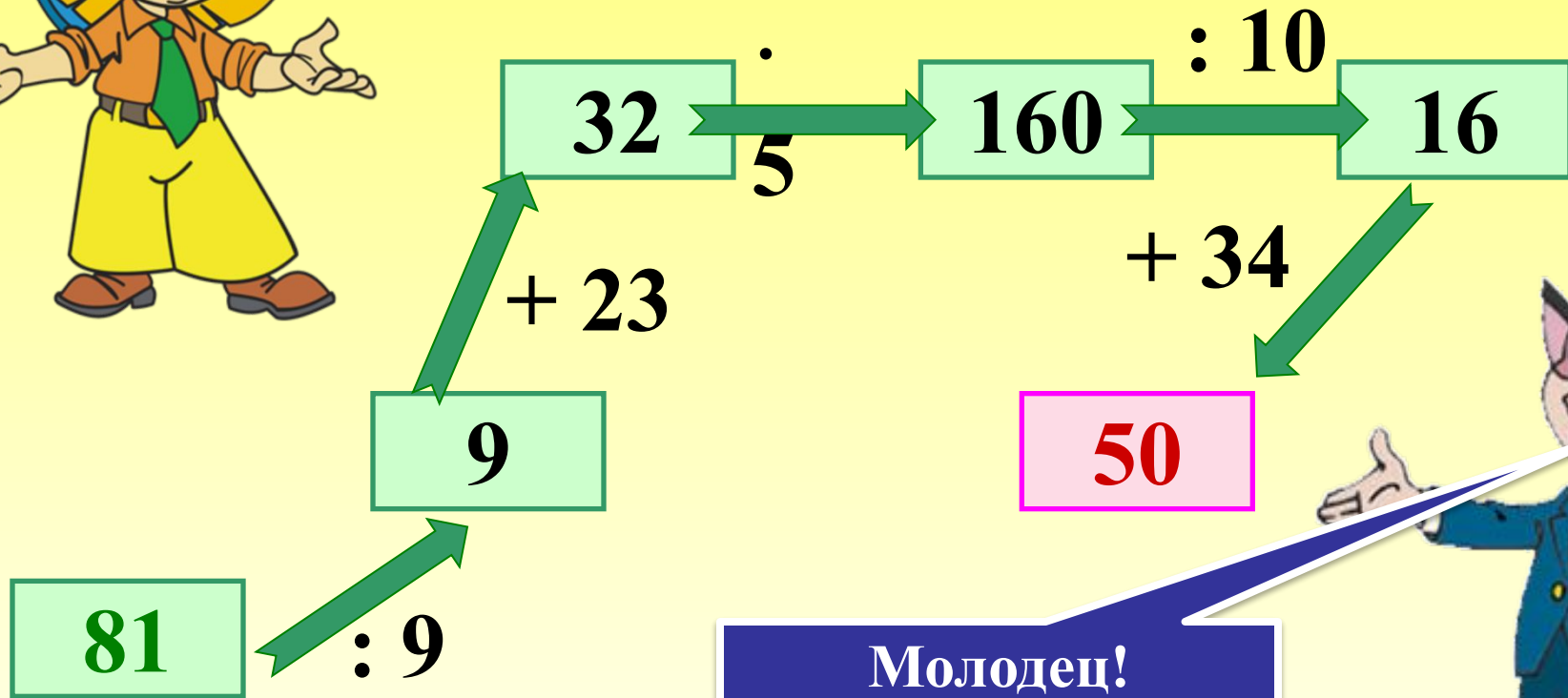
1

*Деление .....*

3

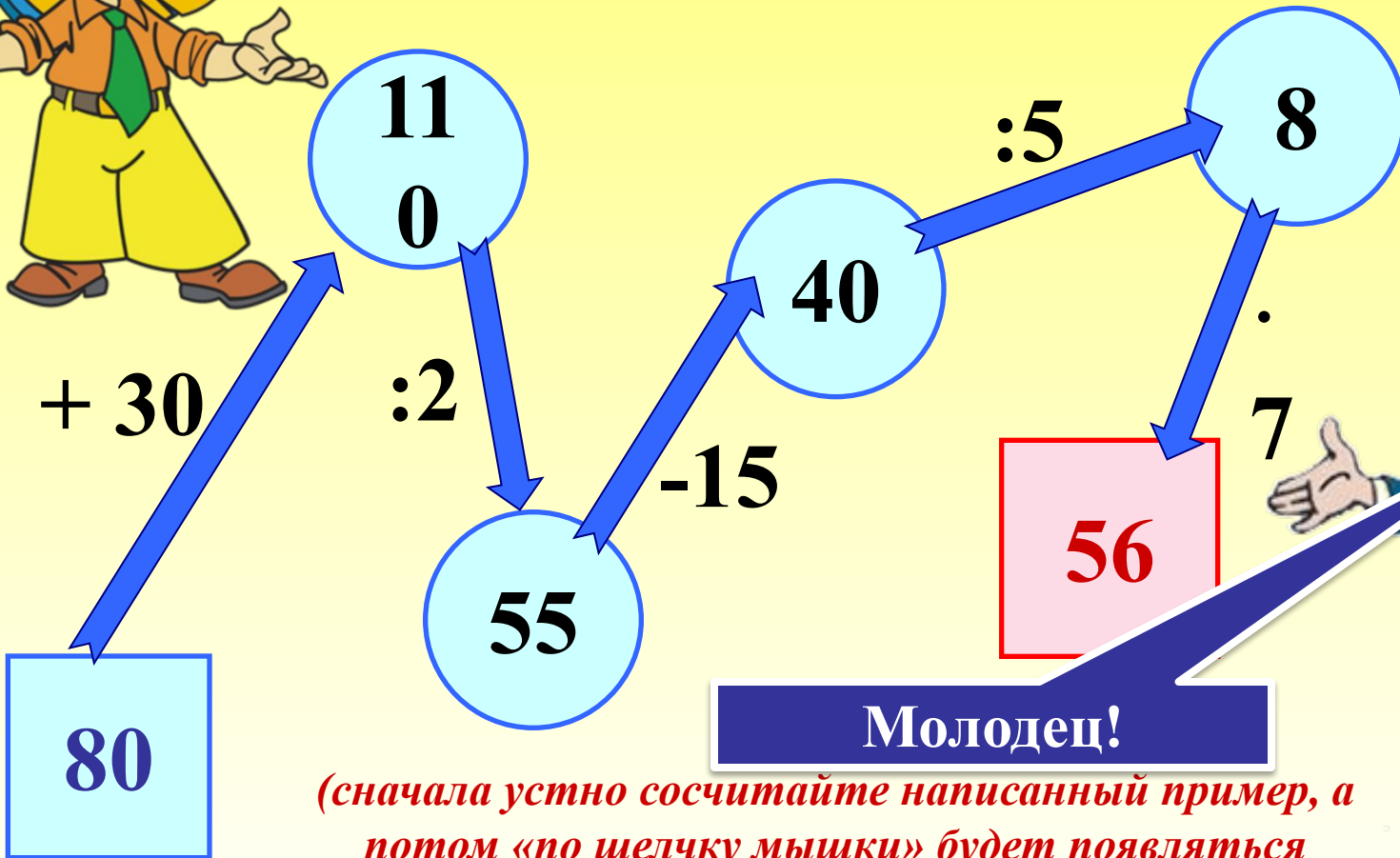
*Какое действие будет 1, какое 2 и т.д. Ответ появляется по щелчку мыши*

*Помогите Незнайке  
заполнить схему № 1*



*(сначала устно сосчитайте написанный пример, а потом «по щелчку мышки» будет появляться следующий прямоугольник уже с ответом)*

*Помогите Незнайке  
заполнить схему № 2*



**Молодец!**

*(сначала устно сосчитайте написанный пример, а потом «по щелчку мышки» будет появляться следующий прямоугольник уже с ответом)*



*Помогите Незнайке указать  
натуральный ряд в  
предложенных рядах чисел.*

*Молодец!*

**1, 3, 5, 7...**

**0, 1, 2, 3...**

**1, 2, 3, 4...**



*Кликните мышкой на ответ в прямоугольнике. Правильный ответ останется, а неправильный улетит из слайда. Знайка будет оценивать твою работу*



*Помогите Незнайке  
показать числа,  
расположенные в порядке  
убывания*

*Молодец!*

**155; 99; 74; 50; 33**

**15; 28; 61; 88; 129**

**297; 102; 5; 75; 20**



*Кликните мышкой на ответ в прямоугольнике. Правильный ответ останется, а неправильный улетит из слайда. Знайка будет оценивать твою работу*



*Найдите среди данных чисел четырехзначные*



104

77

4

5 928

444

72

2 247

333

Молодец!



*Кликните мышкой на четырехзначное число в звезде. Правильный ответ будет танцевать, а неправильный улетит из слайда*



Помогите Незнайке найти  
число восемнадцать  
миллионов три тысячи сто  
семьдесят пять

*Молодец!*

1. 183 001 75

2. 18 003 175

3. 750 0 1 831



*Кликните мышкой на ответ в прямоугольнике. Правильный ответ останется, а неправильный улетит из слайда. Знайка будет оценивать твою работу*



*Выбери правильный вариант ответа*

*10 км 15 м*

*Молодец!*

*1015 м*

*10 015 м*

*10 150 м*



*Кликните мышкой на ответ в прямоугольнике. Правильный ответ останется, а неправильный улетит из слайда. Знайка будет оценивать твою работу*

*Выбери правильный  
вариант ответа*



*3 м 2 дм 4 см*

*Молодец!*

*3240 мм*

*3024 мм*

*3204 мм*



*Кликните мышкой на ответ в прямоугольнике. Правильный ответ останется, а неправильный улетит из слайда. Знайка будет оценивать твою работу*