

Здравствуй, школа!

**Первые уроки математики
в 6 классе.**

**Повторение.
Уравнения.**



МОУ СОШ №256 г.Фокино

Познакомьтесь, герои нашего урока:



Чарли

Гоша




Барбос

Мотя



Узнайте массу Моти
(в килограммах), если:






$$17,28 : 1,2 =$$



$$14,4$$

Чарли




$$: 0,6 =$$



$$2,4$$



$$* 0,1 =$$



$$1,44$$

Гоша



$$* 10 =$$




$$24(кг)$$



Барбос

Мотя

При решении примеров какие правила вам встретились, которые мы еще не повторяли?



- Чтобы умножить десятичную дробь на 10, 100, 1000 и т.д., надо в этой дроби перенести запятую на столько цифр вправо, сколько нулей стоят в множителе после единицы.


$$2,4 * 10 = 24$$



При решении примеров какие правила вам встретились, которые мы еще не повторяли?

- Чтобы умножить число на 0,1; 0,01; 0,001 надо перенести запятую влево на столько цифр, сколько нулей стоит перед единицей в множителе.

$$14,4 * 0,1 = 1,44$$



Вспомним правила деления на 10; 100; 1000 и т.д.



Подсказка:



: 10 =



Чтобы разделить десятичную дробь на 10; 100; 1000..., надо перенести запятую в этой дроби на столько цифр влево, сколько нулей стоит после единицы в делителе.



$$24 : 10 = 2,4$$

Вычислите:

• $4,38 : 10 =$ 0,438


• $12,6 : 10 =$ 1,26

• $304,6 : 100 =$ 3,046

• $618 : 100 =$ 6,18

• $324,6 : 1000 =$ 0,324

• $6,8 : 1000 =$ 0,006
8



Вспомним правила деления на 0,1; 0,01; 0,001 и т.д.



Подсказка:



$$: 0,1 =$$



Чтобы разделить десятичную дробь на 0,1; 0,01; 0,001..., надо перенести в ней запятую на столько цифр вправо, сколько в делителе стоит нулей перед единицей.



$$1,44 : 0,1 = 14,4$$

Вычислите:

• $4,38 : 0,1 = 43,8$


• $12,6 : 0,1 = 126$

• $3,046 : 0,01 = 304,6$

• $0,618 : 0,01 = 61,8$

• $3,246 : 0,001 = 3246$

• $0,0068 : 0,001 = 6,8$



Решение уравнений.



$$2,8 - x = 0,13$$

$$x =$$

$$2,67$$

$$3,2x = 12,8$$

$$x = 4$$

$$5,9x + 2,3x = 27,88$$


$$x =$$

$$3,4$$

$$13 + 3,2x + 0,4x = 40$$

$$x =$$

$$7,5$$




Задача.

Из одного и того же пункта одновременно в противоположных направлениях вышли Гоша и Чарли. Через 3 часа расстояние между ними стало 21 км. Найдите скорость Чарли, если скорость Гоши 4 км/ч.

4
км/ч

?
км/ч



Домашнее задание:




№№ 54; 91
(а,г)



Решаем уравнения из учебника:

I вариант: № 52 (а; г)

II вариант: № 52 (б; в)



Проверяем.

