



**МУНИЦИПАЛЬНОЕ БЮДЖЕТНОЕ ДОШКОЛЬНОЕ
ОБРАЗОВАТЕЛЬНОЕ УЧРЕЖДЕНИЕ
ДЕТСКИЙ САД №45 «РОСИНКА»
СТАРШАЯ ГРУППА №9 «ВЕСЕЛЫЕ РЕБЯТА»**

«Путешествие в страну Математики»



**Воспитатель
Голдобина Н.Я.**





10

9

8

7

6

3

4

5

6

7

9

8

7

6

5

4

5

6

7

8



8



Задачи





5





$$7 - 2 = 5$$



$$3 + 5 = 8$$

Выбери правильный

7 воробьишек спустились на
грядки,
Скачут и что - то клюют без
оглядки.

Котик - хитрюга внезапно
подкрался,
Мигом схватил одного и умчался.

Вот как паску клевать, без
оглядки!

Силько сесть их ста
грядке:

0

6

5



Выбери правильный

Дед, баба, внучка, Жучка, кошка и мышка тянули-тянули репку и, наконец, вытянули. Сколько глаз смотрело на репку?

ответ

1

0

1

2

8





8


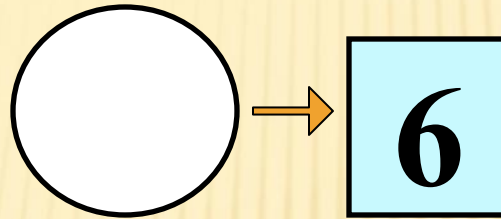
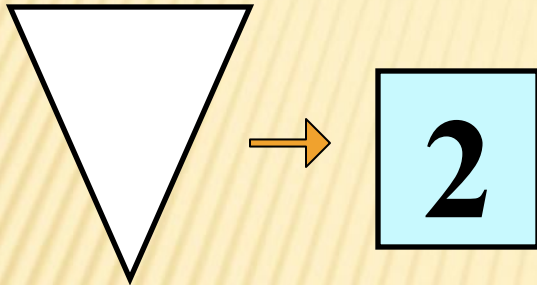
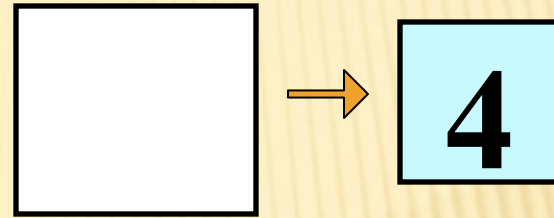






Из каких геометрических фигур составлен паровоз и сколько всего фигур?



5









МОЛОДЦЫ!

СПАСИБО ЗА ВНИМАНИЕ!

