

ГИА - 2012

**Открытый банк заданий
по математике.**

Задача №2

Каратанова Марина Николаевна
МОУ СОШ №256 городского округа ЗАТО
г.Фокино Приморского края

**Задание 2
(№
206053)**

На диаграмме показано распределение питательных веществ в **МОЛОЧНОМ шоколаде**.

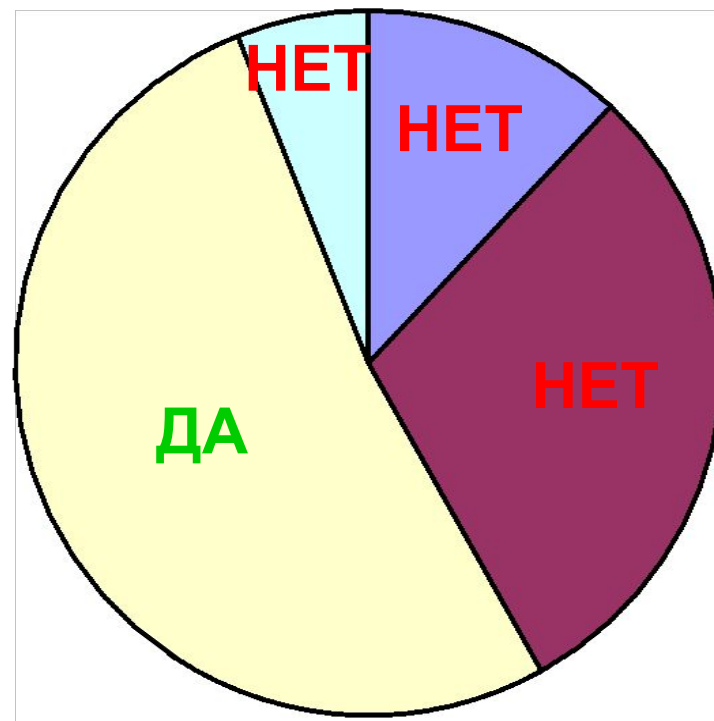
Определите по диаграмме, содержание каких веществ преобладает.

Белки

Жиры

Углеводы

Прочее



К прочему относятся вода, витамины и минеральные вещества.

**Задание 2
(№
206055)**

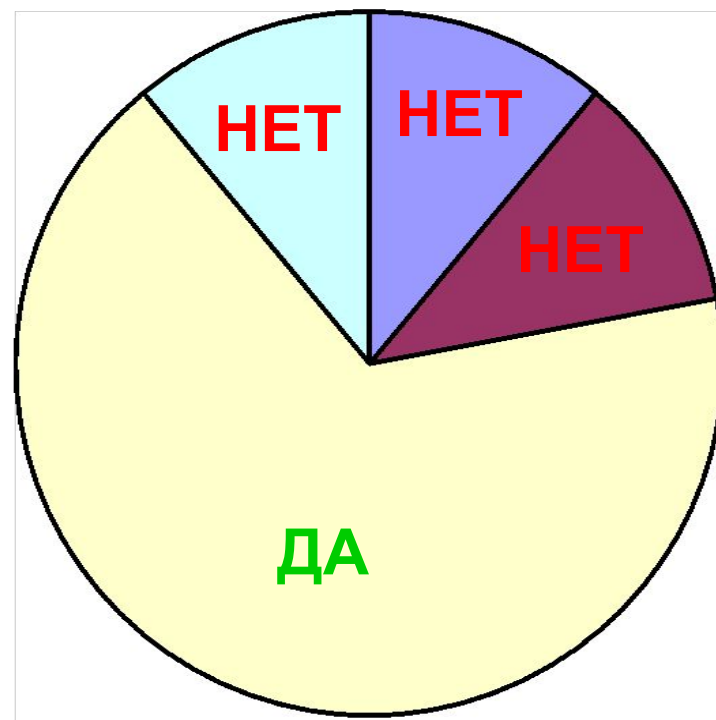
На диаграмме показано распределение питательных веществ в **сливочных сухарях**.
Определите по диаграмме, содержание каких веществ преобладает.

Белки

Жиры

Углеводы

Прочее



К прочему относятся вода, витамины и минеральные вещества.

**Задание 2
(№
206057)**

На диаграмме показано распределение питательных веществ в **творожных сырках**.
Определите по диаграмме, содержание каких веществ преобладает.

Белки

Жиры

Углеводы

Прочее

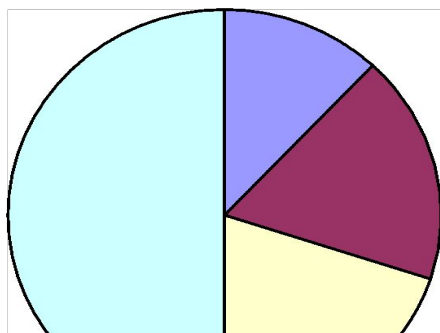


К прочему относятся вода, витамины и минеральные вещества.

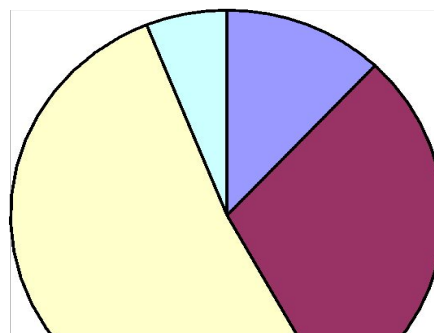
**Задание 2
(№
206119)**

На диаграмме показано распределение питательных веществ в некоторых продуктах. Определите по диаграмме, в каком продукте содержание жиров наибольшее.

Сырки

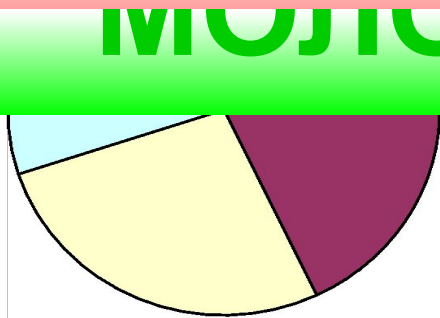


Шоколад

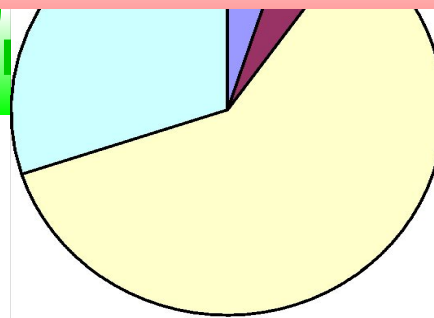


Подумай!

Какао



Сгущёнка



 - углеводы

 - жиры

 - белки

 - прочее

**Задание 2
(№
206177)**


На диаграмме показано распределение питательных веществ в **твороге**.
Определите по диаграмме, в каких пределах находится содержание **жиров**.

5 – 15%

15 – 25%

25 – 35%

35 – 45%

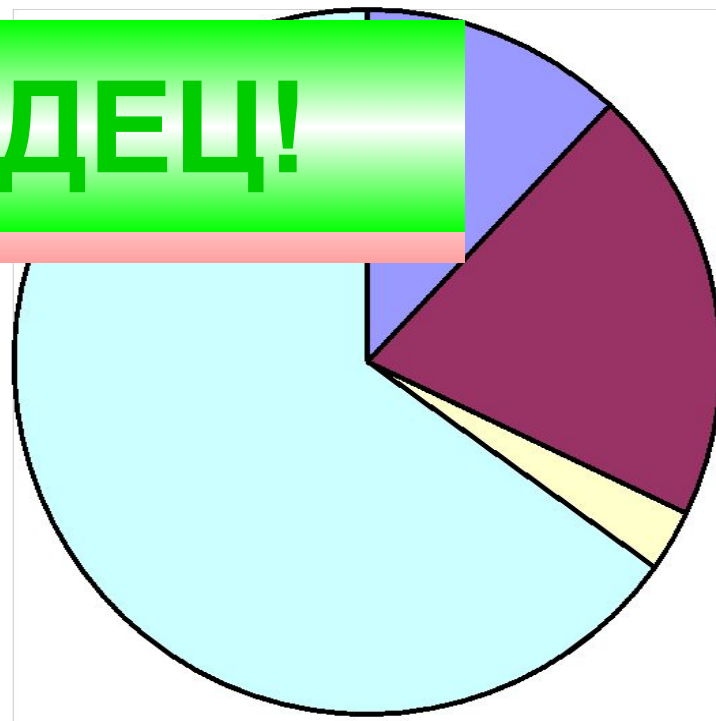
 - белки

 - жиры

 - углеводы

 - прочее

МОЛОДЕЦ!



К прочему относятся вода, витамины и минеральные вещества.

**Задание 2
(№
206061)**

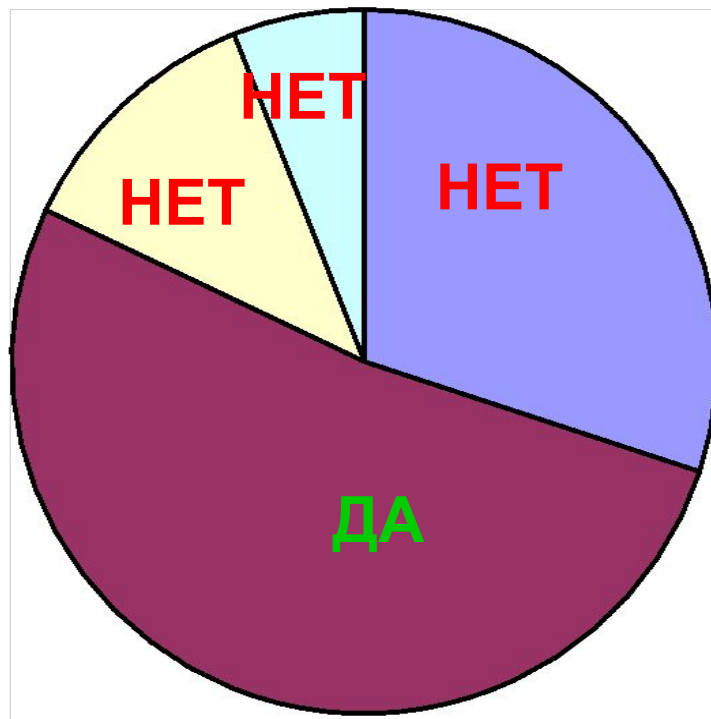
На диаграмме показан возрастной состав населения **Индонезии**.
Определите по диаграмме, население какого возраста преобладает.

0 – 14 лет

15 – 50 лет

50 – 64 года

65 лет и более



**Задание 2
(№
206063)**

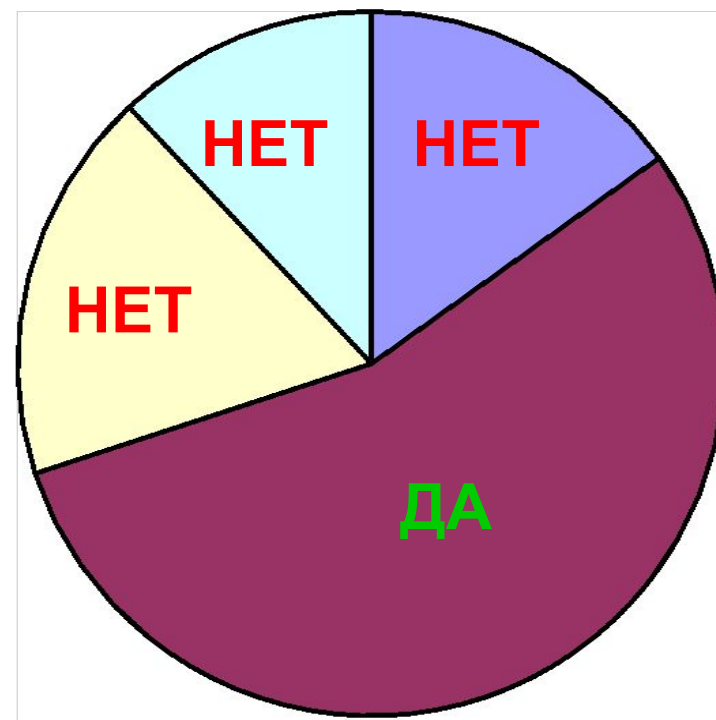
На диаграмме показан возрастной состав населения **России**.
Определите по диаграмме, население какого возраста преобладает.

0 – 14 лет

15 – 50 лет

50 – 64 года

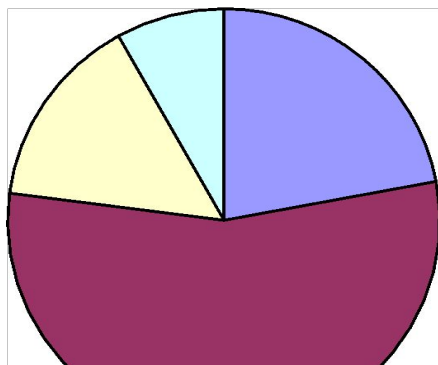
65 лет и более



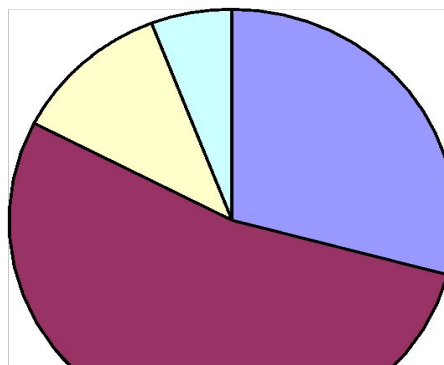
**Задание 2
(№
206133)**

На диаграммах показаны возрастные составы населения некоторых стран. Определите по диаграмме, в какой из стран доля населения **0-14 лет** наибольшая.

Китай

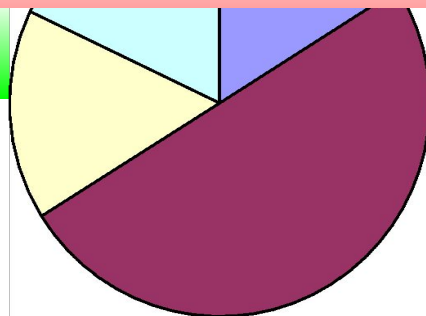


Индонезия

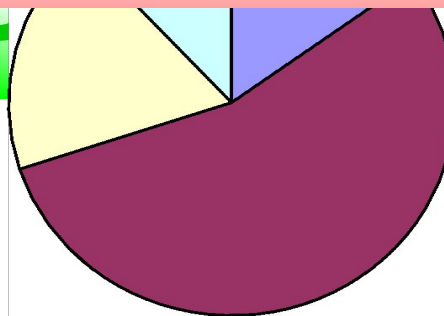



Подумай!


Япония




Россия



 - 0 – 14 лет

 - 15 – 50 лет

 - 50 – 64 года

 - 65 и более

**Задание 2
(№
206067)**

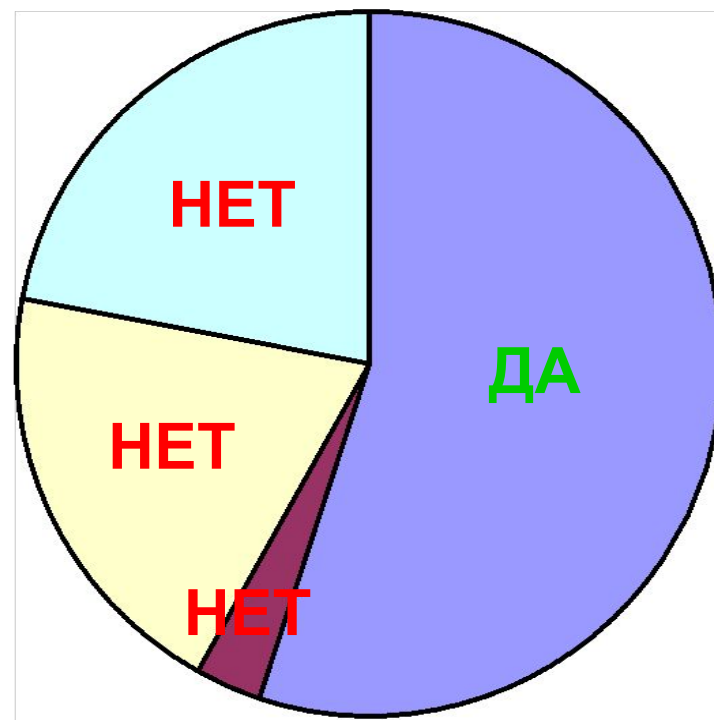
На диаграмме показан религиозный состав населения **США**.
Определите по диаграмме,
какая из религиозных групп преобладает.

Протестанты

Мусульмане

Католики

Прочие



**Задание 2
(№
206069)**

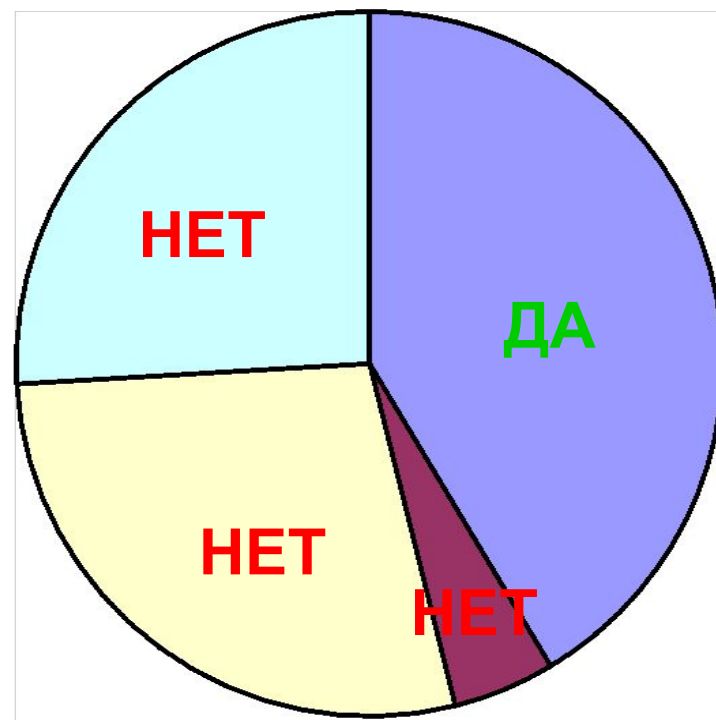
На диаграмме показан религиозный состав населения Великобритании. Определите по диаграмме, какая из религиозных групп преобладает.

Протестанты

Мусульмане

Католики

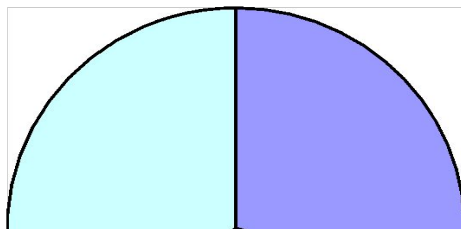
Прочие



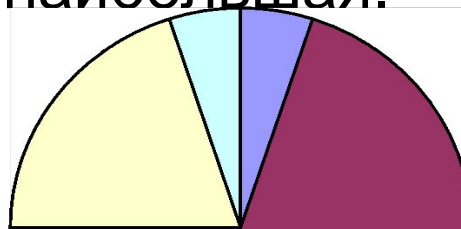
**Задание 2
(№
206049)**

На диаграмме показаны религиозные составы населения Германии, США, Австрии и Великобритании. Определите по диаграмме, в какой стране доля протестантов наибольшая.

Германия



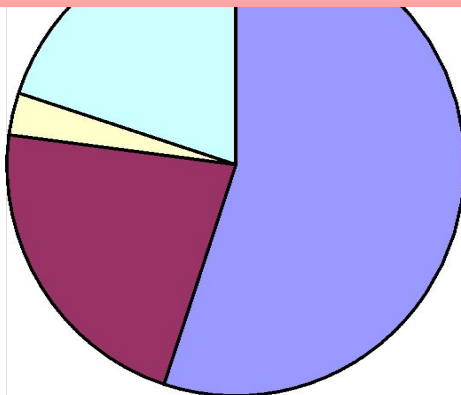
Австрия



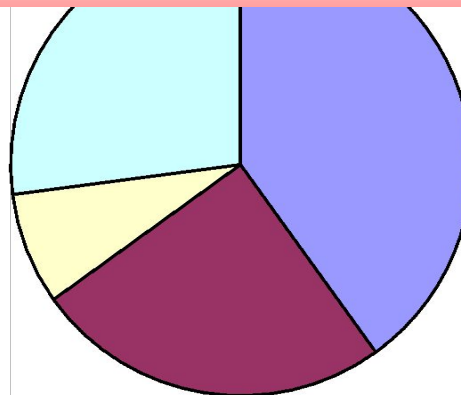
МОЛОДЕЦ!

ПОДУМАЙ!

США



Великобритани
я



- мусульмане

- католики

- протестанты

- прочие

**Задание 2
(№
206189)**


На диаграмме показан религиозный состав населения **Великобритании**.
Определите по диаграмме, в каких пределах находится доля **протестантов**.

40 – 50%

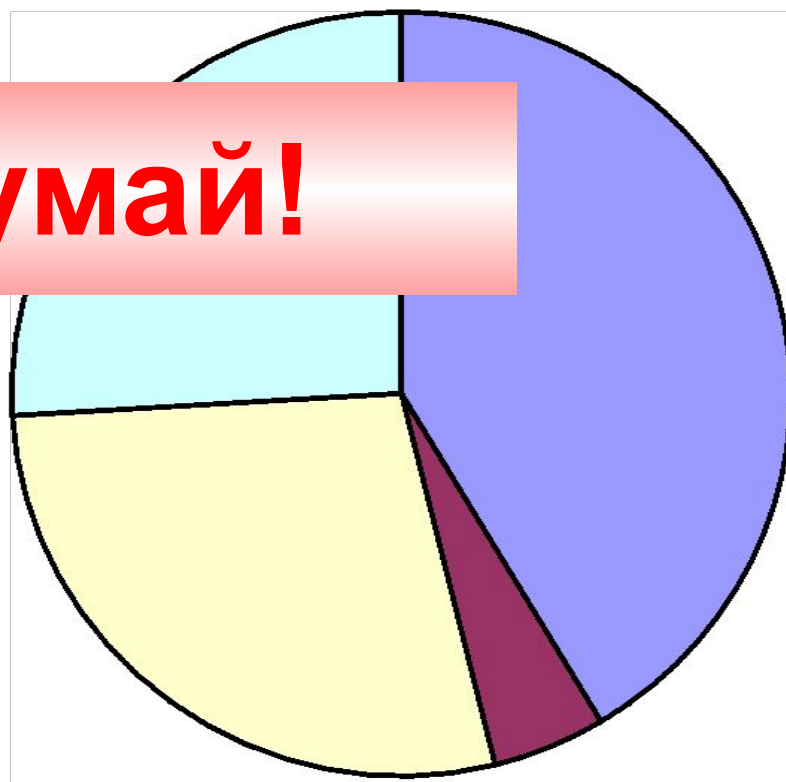
30 – 40%

20 – 30%

10 – 20%



Подумай!



К прочему относятся вода, витамины и минеральные вещества.

**Задание 2
(№
206071)**

На диаграмме показано распределения земель Приволжского Федерального округа по категориям. Определите по диаграмме, земли какой категории преобладают.

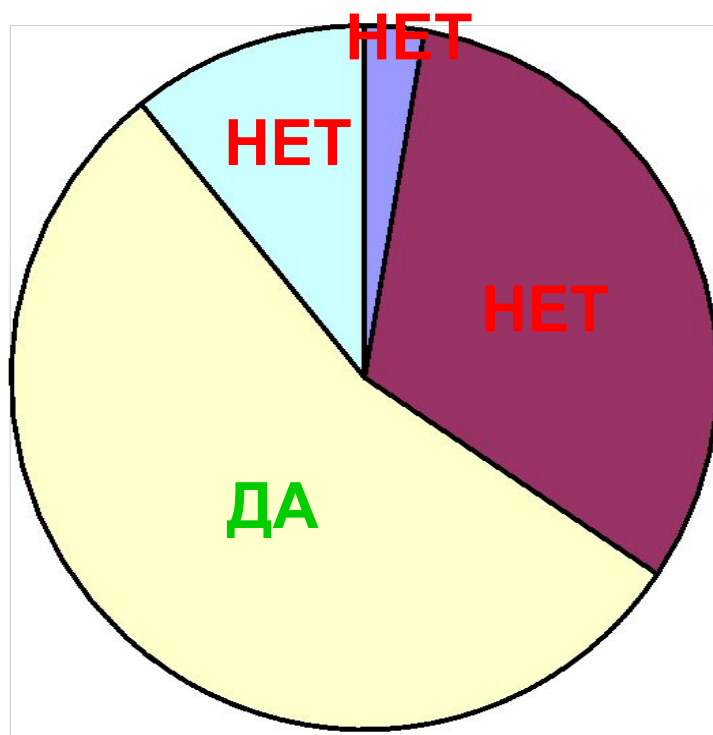
Земли запаса

Лесной фонд

С/х назначения

Прочее

Прочее — это земли поселений; земли промышленности и иного специального назначения; земли особо охраняемых территорий и объектов. .



**Задание 2
(№
206073)**

На диаграмме показано распределения земель
Дальневосточного Федерального округа
по категориям. Определите по диаграмме,
земли какой категории преобладают.

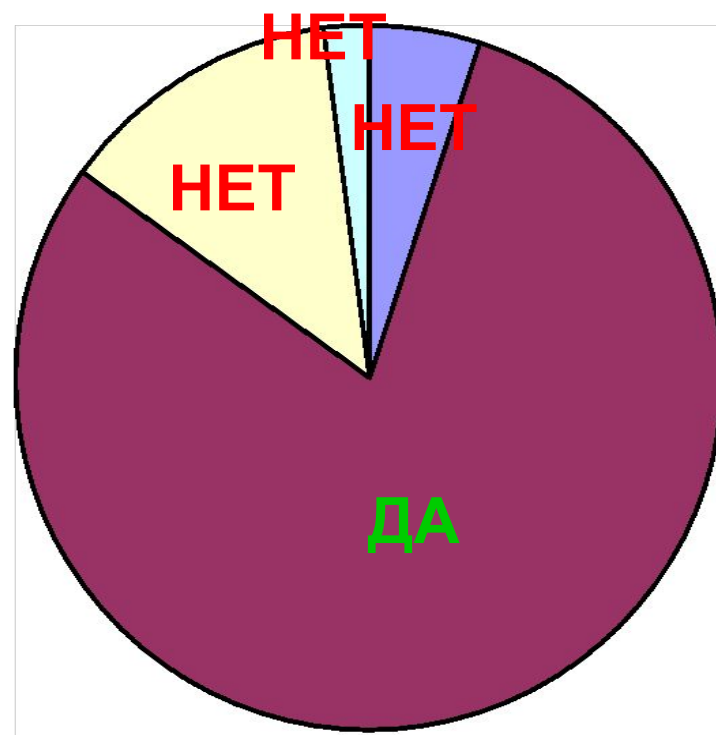
Земли запаса

Лесной фонд

С/х назначения

Прочее

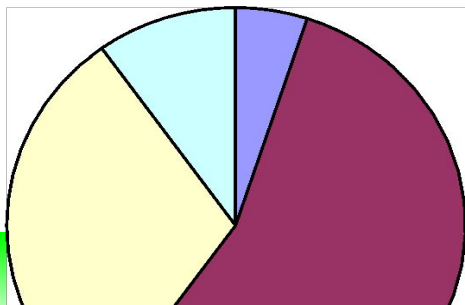
Прочее — это земли поселений; земли промышленности и иного специального назначения; земли особо охраняемых территорий и объектов. .



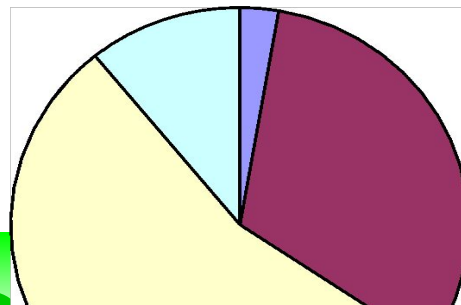
**Задание 2
(№
206127)**

На диаграмме показано распределение земель по Федеральным округам.
Определите по диаграммам, в каком округе доля земель **лесного фонда** максимальная.

Уральский

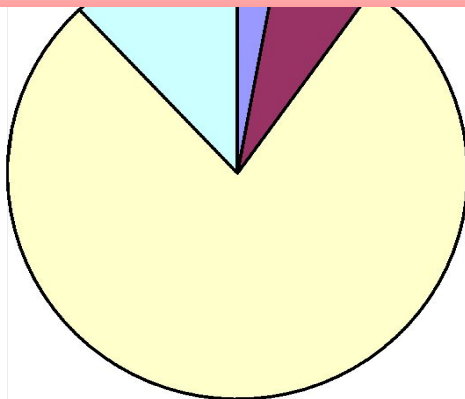


Приволжский

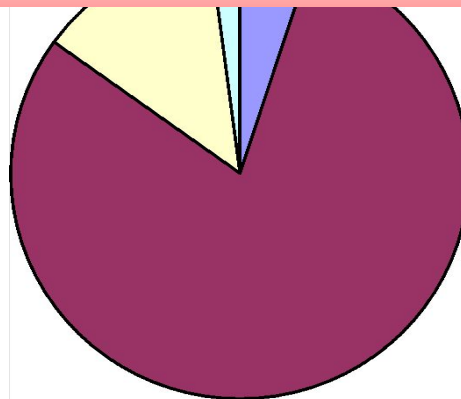


Подумай!

Южный ФО



Д.-В. ФО



■ с/х назначения ■ - лесной фонд ■ - земли запаса ■ - прочее

При создании презентации были использованы
задачи с сайта
«Открытый банк заданий по математике»
ГИА – 2012.

<http://www.mathgia.ru:8080/or/gia12/Main.html?view=Pos>