




10 апреля.

Классная работа.



Моё настроение



$$4 + 4 + 4 + 4 + 4$$

$$2 \bullet 3$$

$$18 \bullet 18 \bullet 18$$

$$7 + 7 + 7 + 7$$

$$5 \bullet 9$$

$$6 \bullet 3$$

$$35 \bullet 35$$

$$3 \bullet 2$$

$$5 \bullet 5 \bullet 5 \bullet 3$$

$$15 + 15 + 15 + 16$$

$$9 \bullet 9 \bullet 9 \bullet 9$$

$$18 \bullet 18 \bullet 18 = 18^3$$

$$35 \bullet 35 = 35^2$$

$$9 \bullet 9 \bullet 9 \bullet 9 = 9^5$$

Возведение

В

СТЕПЕНЬ

Физминутка

$$32^5 = 32 \cdot 32 \cdot 32 \cdot 32 \cdot 32$$

$$17 \cdot 4 = 17 + 17 + 17 + 17$$

$$54^2 = 54 \cdot 54$$

$$8^3 = \boxed{8} \cdot \boxed{8} \cdot \boxed{8}$$

$$6 \cdot 6 \cdot 6 \cdot 6 \cdot 6 = \boxed{6}^5$$

$$3^4 = \boxed{3 \cdot 3 \cdot 3 \cdot 3}$$

Решите задачу.

В парке выпускники школ посадили 25 рядов берёз по 25 деревьев в каждом ряду. Сколько деревьев посадили выпускники?

$$25 \bullet 25 = 625 \text{ (д.)}$$

$$25^2 = 625 \text{ (д.)}$$

Итог урока.

Домашнее задание: с. 122 прав., зад. 9 к №
293.