

Урок математики в 3 классе.

Тема урока:

Площадь, измерение площади.

Закрепление.

Учитель : Гладких Анна Дмитриевна



Выпиши результаты умножения на 8:

16

36

32

64

48

40

54

8

63

24

72

56





1)

$$2+2+2+2=8(\text{cm}^2)$$

$$2) 2+4=6(\text{cm})$$

$$3) 2 \cdot 2=4(\text{cm}^2)$$

$$4) 2 \cdot 4=8(\text{cm}^2)$$





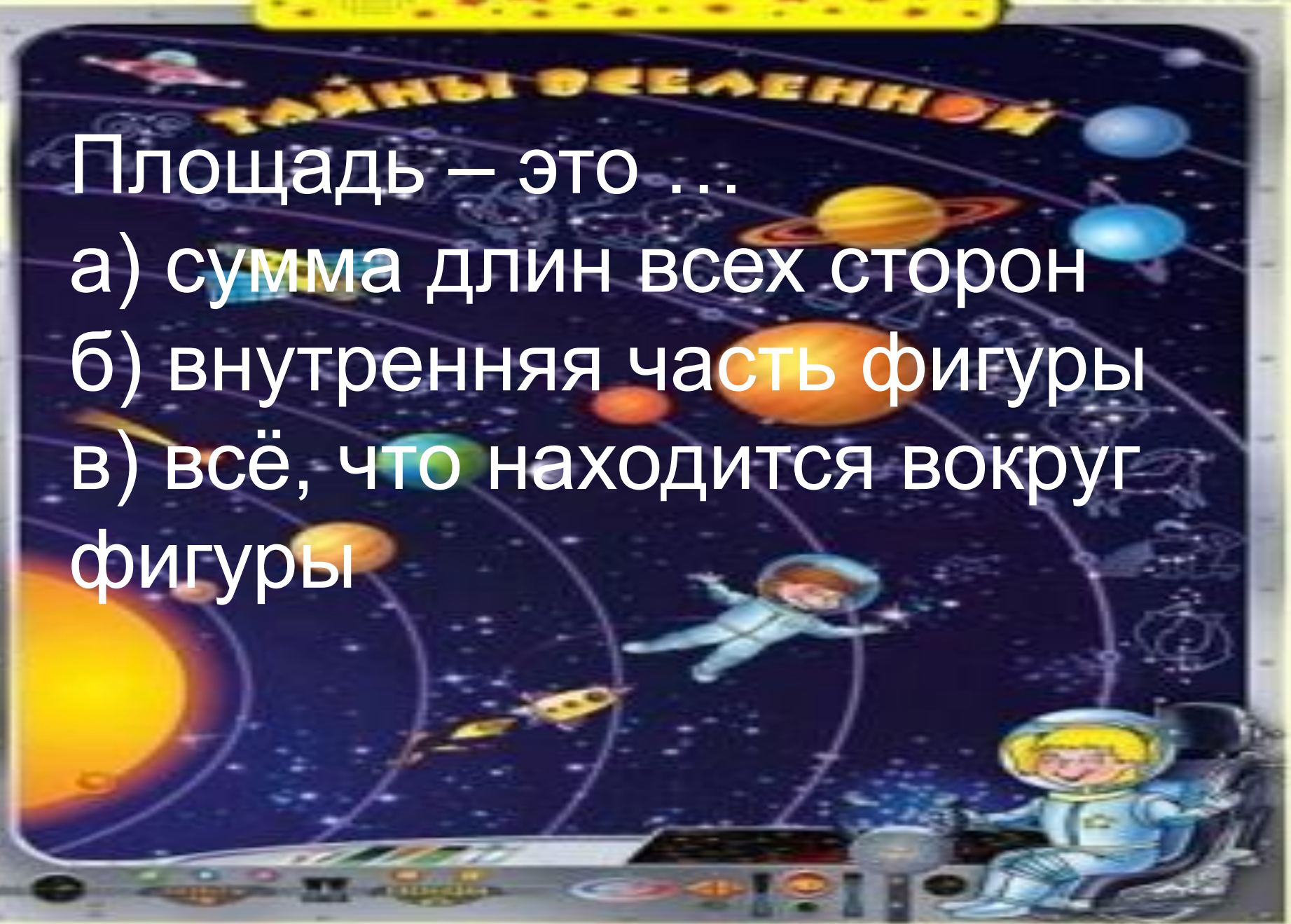
ТАЙНЫ ОБЕЛЕНИИ

Площадь – это ...

а) сумма длин всех сторон

б) внутренняя часть фигуры

в) всё, что находится вокруг
фигуры



Установи порядок действий:

$$(\$ + \&) - (\& : \#) : Q$$



1

4

2

3

$$\$ + (\# \times Q)$$





ТАЙНЫ СОБЛЕННОИ



физминутка



Заполни равенства и расшифруй
Название самой большой планеты
солнечной системы.

П 2

Т 8
0

В 7
2

Ю 5

О 5
6

И 2
7


А 0


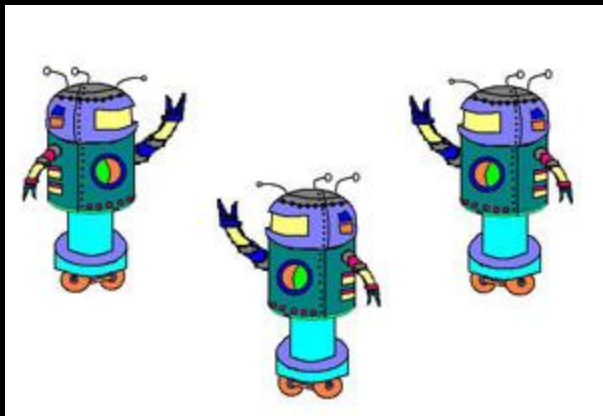
Е 4

Н 7
2

1
Р 0
0
0

Т 3






Ширина ракеты 2 м, длина
в 6 раз больше.

Узнайте площадь этой ракеты?

Выразите единицу площади в кв.см.

Домашнее задание:
стр. 33 № 1, 3



Спасибо за
урок!

