

*Муниципальное бюджетное дошкольное образовательное учреждение
детский сад №12 «Рябинка »
Г.Петровск*


Презентация

***НОД по математике с использованием ИКТ:
«Путешествие в страну математики»***



Воспитатель :Мясникова О.П.

Впиши недостающие числа так, чтобы в каждом лепестке в сумме получилось то же число, что и в серединке цветка.





ИЗДАНИЕ

«ЗАМКИ И КЛЮЧОЧКИ»

С. И. ВОДИН

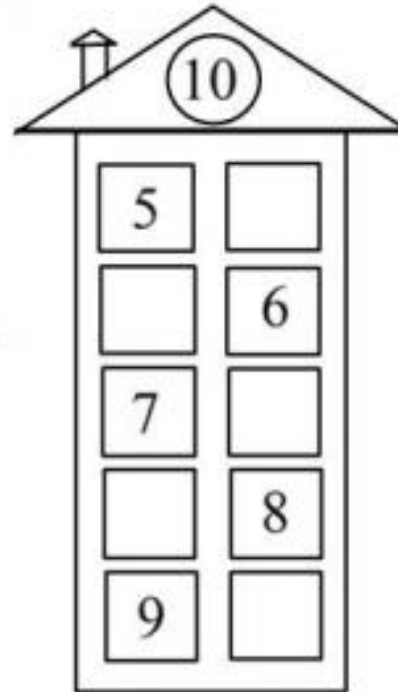
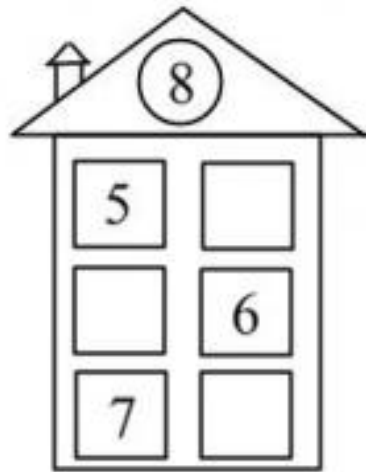

ИЗДАНИЕ предназначено для детей
5-7 лет и направлено на развитие
вспомогательных навыков, связанных
с изучением геометрии
и ориентации в пространстве


ЦЕЛЬ И ЗАДАЧИ: развивать умение
применять знания о формах и размерах геометрических
фигур и цветах при ориентации в пространстве
и выполнении заданий с геометрическими
фигурами

ПЕРЕСЧИТАЙ КАРТИНКИ.
КАКИМ ПО СЧЕТУ СТОИТ ВЕРТОЛЕТ? АВТОБУС? ГРУЗОВИК?
НА КАКОМ МЕСТЕ СТОИТ ВЕЛОСИПЕД? ПАРОХОД? ВОЗДУШНЫЙ
ШАР?

1 2 3 4 5 6 7 8 9 10







Два з половиною тисяч років відомі в світі як родина

10 тисяч років відомі в Україні як родина



www.rosagro.com





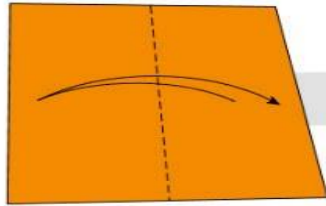
Дворец

королевы математики

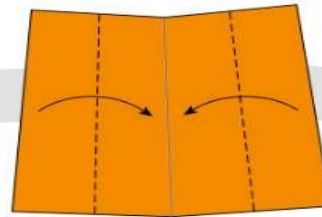
(0) Start with the sheet in this position.



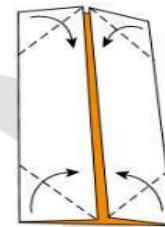
(1)



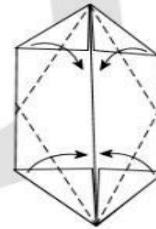
(2)



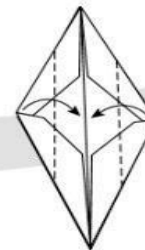
(3)



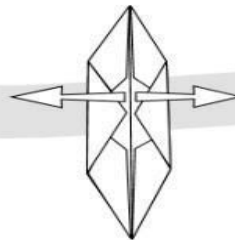
(4)



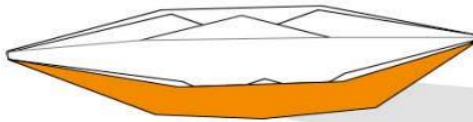
(5)



(6) Carefully turn inside out, starting at the centre



(7) The finished boat



Sobinet